

Ψηφιακή Επεξεργασία Σήματος

$$\alpha^0 = 1$$

$$(-1)^v = \begin{cases} 1, v = \text{αρτιος} \\ -1, v = \text{περιττος} \end{cases}$$

$$\alpha^v \cdot \alpha^\mu = \alpha^{v+\mu}$$

$$a^0 = 1$$

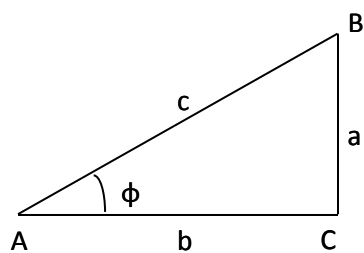
$$a^v a^\mu = a^{v+\mu}$$

$$\frac{a^v}{a^\mu} = a^{v-\mu}$$

$$(\alpha^v)^\mu = \alpha^{v\mu}$$

$$\alpha^{-v} = \frac{1}{\alpha^v}$$

$$(\alpha^v)^\mu = \alpha^{v\mu}$$

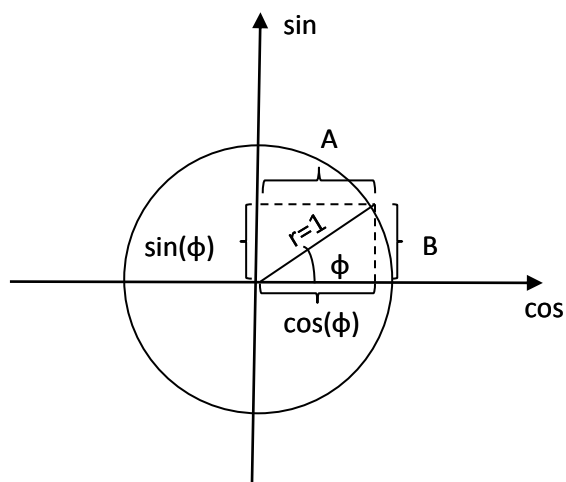


$$c^2 = a^2 + b^2$$

$$\sin(\varphi) = \frac{a}{c}$$

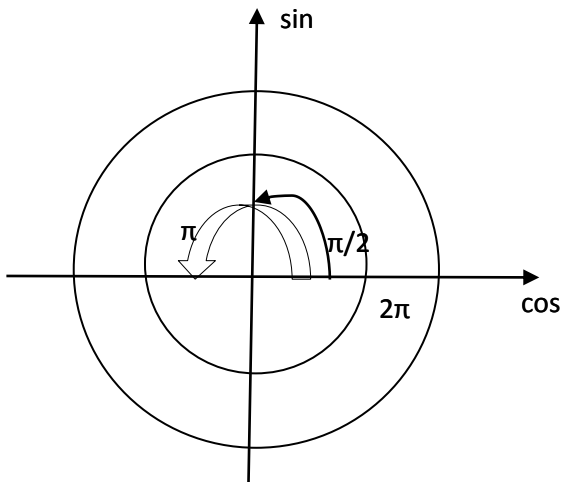
$$\cos(\varphi) = \frac{b}{c}$$

$$\tan(\varphi) = \frac{a}{b} = \frac{\sin(\varphi)}{\cos(\varphi)}$$



$$\cos(\varphi) = \frac{A}{1} = A$$

$$\sin(\varphi) = \frac{B}{r} = \frac{B}{1} = B$$



$$\cos(0^0) = 1 \Rightarrow \cos(2\pi)$$

$$\sin(0^0) = 0 \Rightarrow \sin(2\pi)$$

$$\cos\left(\frac{\pi}{2}\right) = 0$$

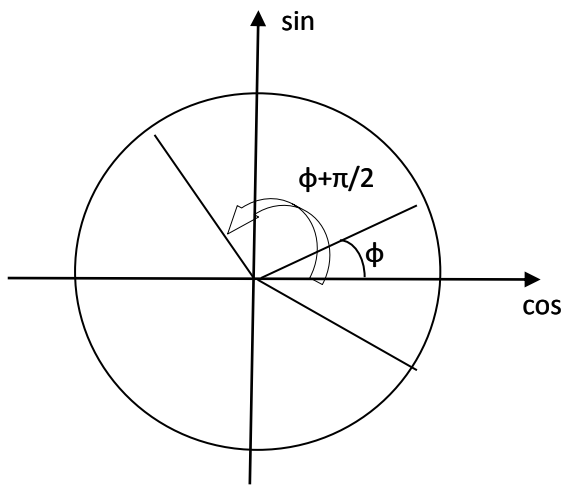
$$\sin\left(\frac{\pi}{2}\right) = 1$$

$$\cos(\pi) = -1$$

$$\sin(\pi) = 0$$

$$\cos\left(\frac{3\pi}{2}\right) = 0$$

$$\sin\left(\frac{3\pi}{2}\right) = -1$$



$$\cos(\varphi + \pi) = -\cos(\varphi)$$

$$\sin(\varphi + \pi) = -\sin(\varphi)$$

$$\cos\left(\varphi + \frac{\pi}{2}\right) = -\sin(\varphi)$$

$$\sin\left(\varphi + \frac{\pi}{2}\right) = \cos(\varphi)$$

$$\cos(-\varphi) = \cos(\varphi)$$

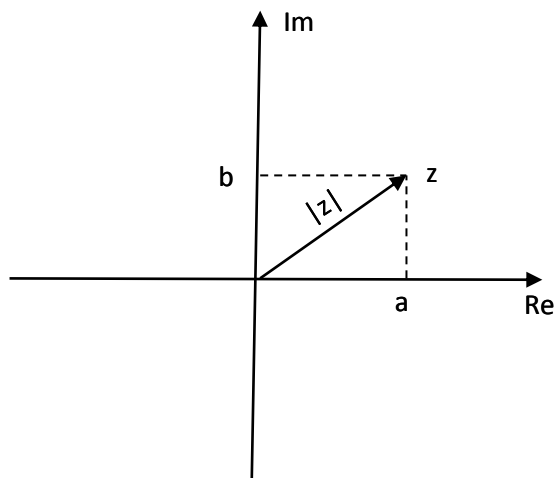
$$\sin(-\varphi) = -\sin(\varphi)$$

$$z = \underbrace{a}_{\text{Re}\{z\}} + j \underbrace{b}_{\text{Im}\{z\}}$$

$$\text{Re}\{z\} = a$$

$$\text{Im}\{z\} = b$$

Euler



$$e^{j\varphi} = \cos(\varphi) + j \sin(\varphi)$$

$$|z| = \sqrt{a^2 + b^2}$$

$$|z|^2 = a^2 + b^2 \Rightarrow |z| = \sqrt{a^2 + b^2}$$

$$z = |z| e^{j\varphi}$$

$$z = |z| e^{j\varphi} = |z| (\cos(\varphi) + j \sin(\varphi)) = |z| \cos(\varphi) + j |z| \sin(\varphi) \Rightarrow$$

$$z = |z| \frac{a}{|z|} + j |z| \frac{b}{|z|} = a + jb$$

$$z_1 = a_1 + jb_1$$

$$z_2 = a_2 + jb_2$$

$$z_1 + z_2 = (a_1 + jb_1) + (a_2 + jb_2) = (a_1 + a_2) + j(b_1 + b_2)$$

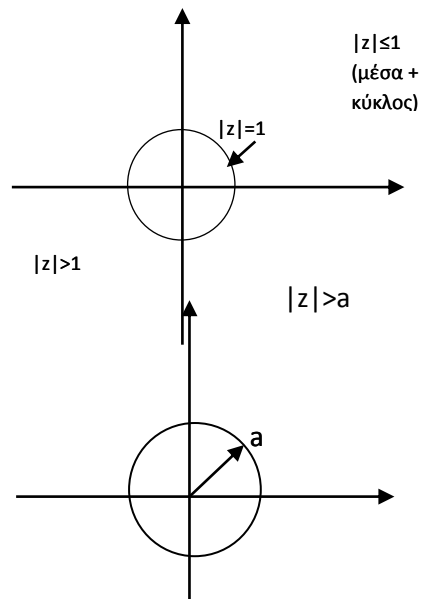
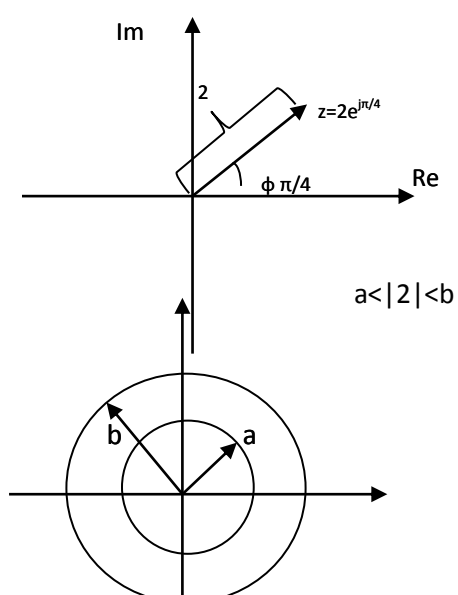
$$z_1 - z_2 = (a_1 + jb_1) - (a_2 + jb_2) = (a_1 - a_2) + j(b_1 - b_2)$$

$$z_1 = |z_1| e^{j\varphi_1}$$

$$z_2 = |z_2| e^{j\varphi_2}$$

$$z_1 z_2 = |z_1| \cdot |z_2| e^{j(\varphi_1 + \varphi_2)}$$

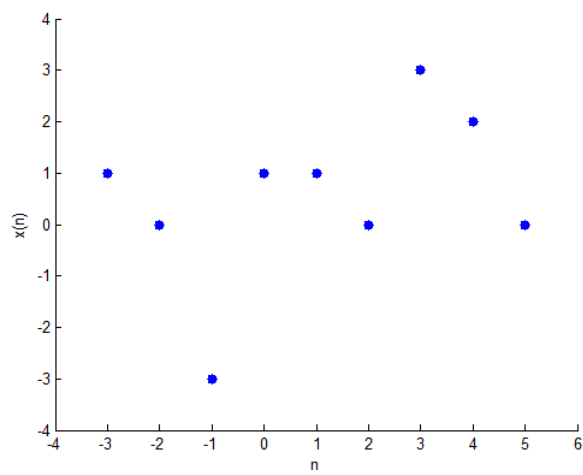
$$\frac{z_1}{z_2} = \frac{|z_1| e^{j\varphi_1}}{|z_2| e^{j\varphi_2}} = \frac{|z_1|}{|z_2|} e^{j(\varphi_1 - \varphi_2)}$$



$$\sum_{i=1}^5 a_i = (a_1 + a_2) + (a_3 + a_4 + a_5) = \sum_{i=1}^2 a_i + \sum_{i=3}^5 a_i$$

$$\sum_{i=1}^N a_i = a_1 + a_2 + a_3 + \dots + a_N$$

$$\sum_{i=1}^{\infty} a_i = a_1 + a_2 + a_3 + \dots$$



Μοναδική Διακριτή ώση

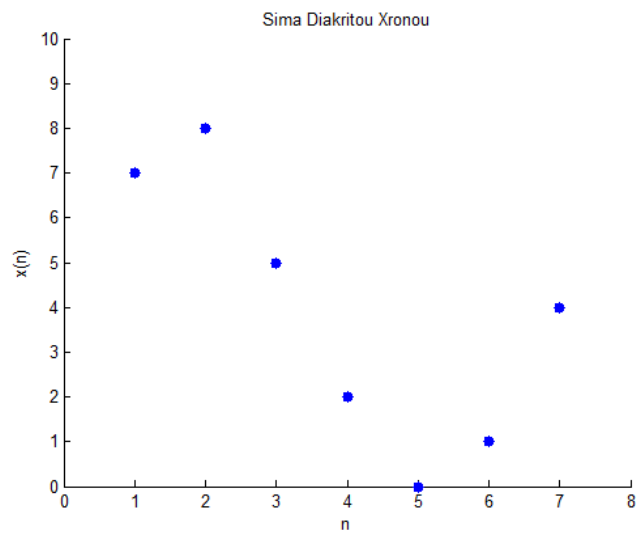
$$\delta(n) = \begin{cases} 1, n = 0 \\ 0, n \neq 0 \end{cases}$$

$$u(n) = \begin{cases} 1, n \geq 0 \\ 0, n < 0 \end{cases}$$

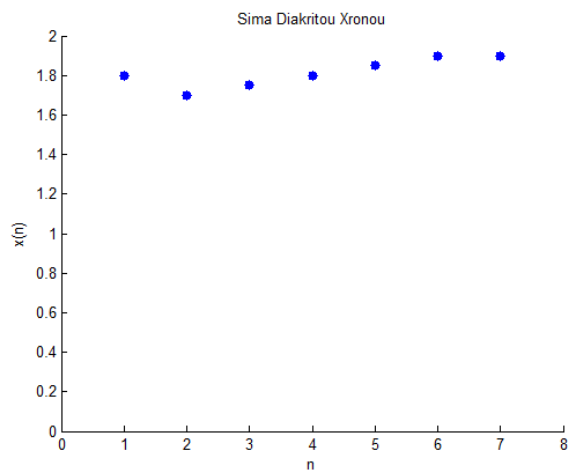
Βηματική συνάρτηση

2^ο ΜΑΘΗΜΑ

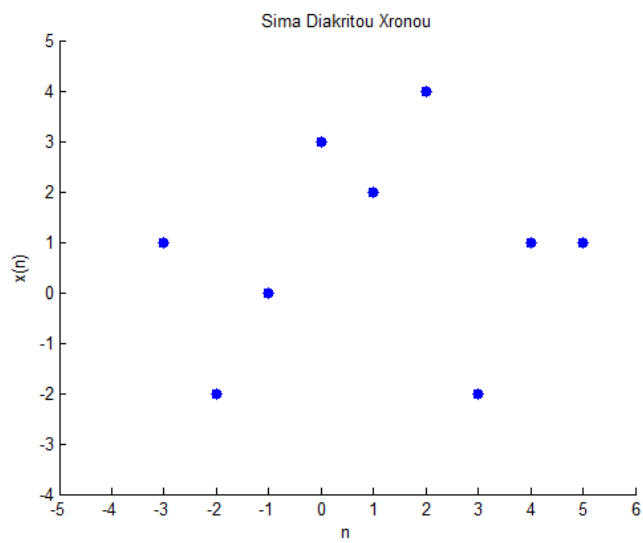
n ΕΒΔΟΜΑΔΑ	x(n) #ΦΟΙΤΗΤΩΝ
1	7
2	8
3	5
4	2
5	0
6	1
7	4



n	x(n)
1	1,8
2	1,7
3	1,75
4	1,8
5	1,85
6	1,9
7	1,90



Όταν το n είναι ακέραιος μιλάμε πάντα για διακριτό χρόνο.

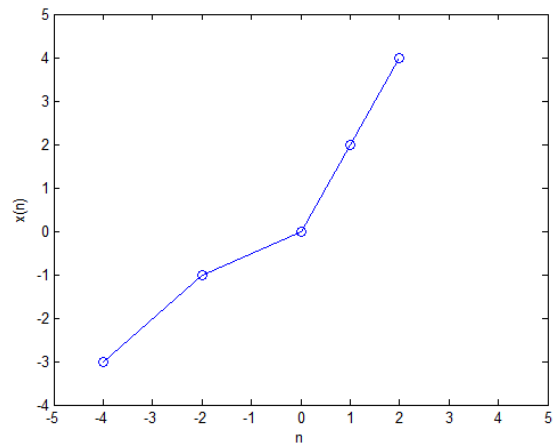


$$x(n)|_{n=-5}=0$$

$$x(n)|_{n=4}=1$$

$$x(n)|_{n=500}=0$$

$$x(n) = 2n$$



$$x(200)=2*200=400$$

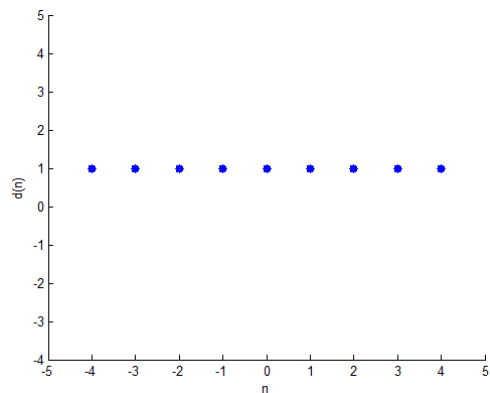
$$x(2,5)=\Delta\text{ΕΝ ΟΡΙΖΕΤΑΙ!}$$

Το $x(n)$ παίρνει οποιαδήποτε τιμή, ενώ το n είναι μόνο ακέραιος αριθμός.

$$\delta(n)=\begin{cases} 1, n=0 \\ 0, n \neq 0 \end{cases}$$

ΜΟΝΑΔΙΑΙΑ ΔΙΑΚΡΙΤΗ ΩΣΗ

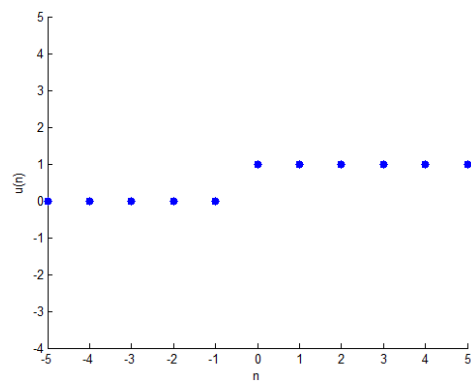
(πεπερασμένου μήκους)



$$u(n)=\begin{cases} 1, n \geq 0 \\ 0, n < 0 \end{cases}$$

ΒΗΜΑΤΙΚΗ ΣΥΝΑΡΤΗΣΗ

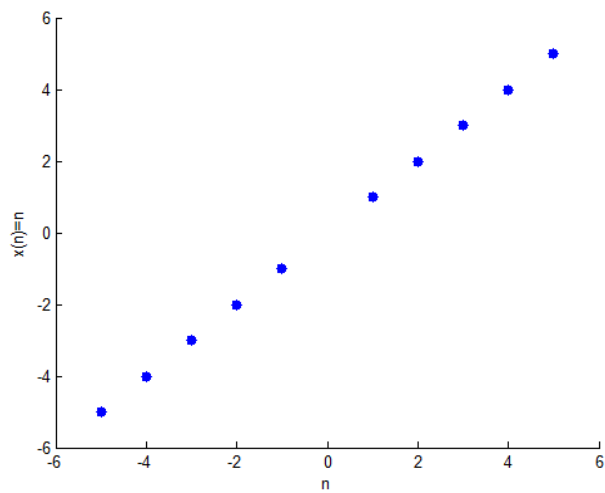
(άπειρου μήκους)



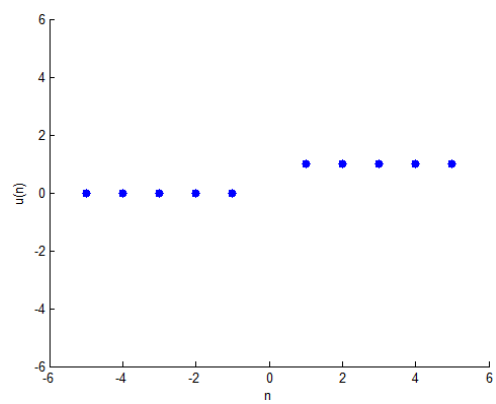
Σήμα Πεπερασμένου Μήκους

ΣΕΛΙΔΑ 6 – ΣΧΗΜΑ ΚΑΤΩ-ΚΑΤΩ

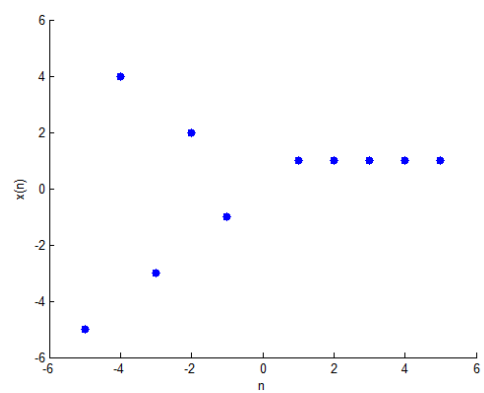
Σήμα Άπειρου Μήκους



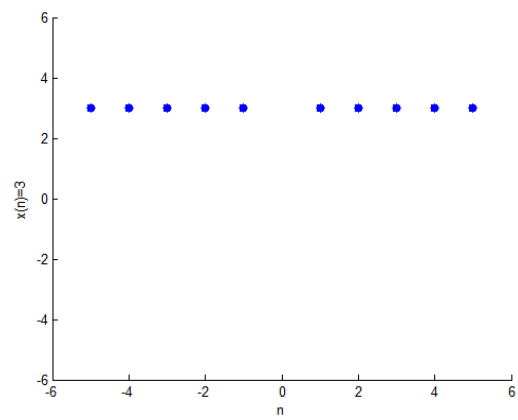
Δεξιάς πλευράς



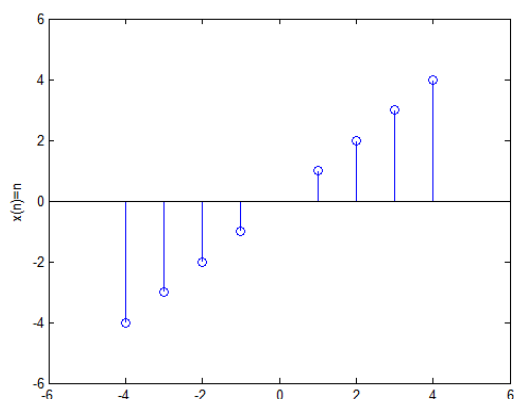
Αριστερής πλευράς



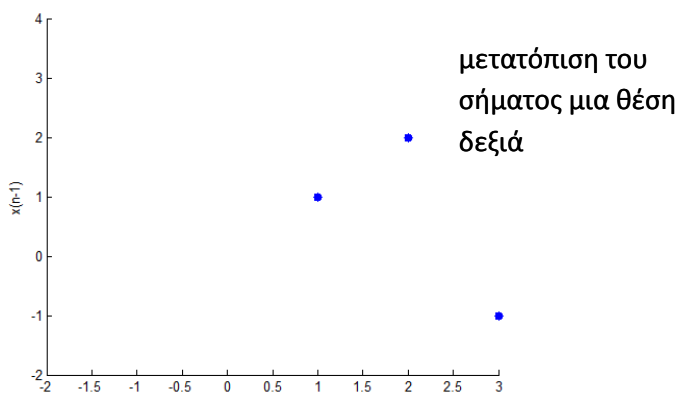
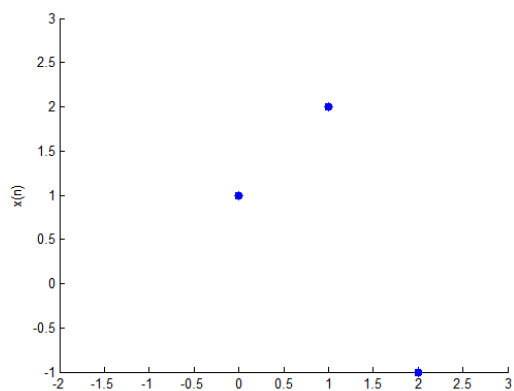
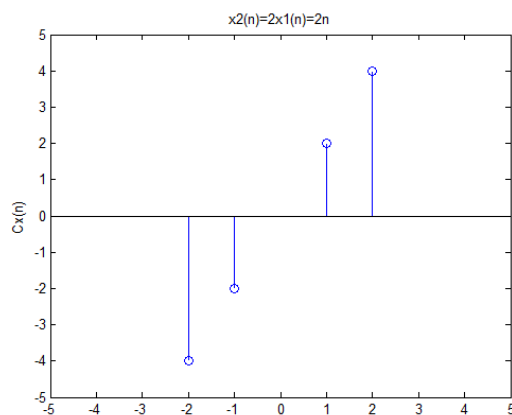
Αμφίπλευρης



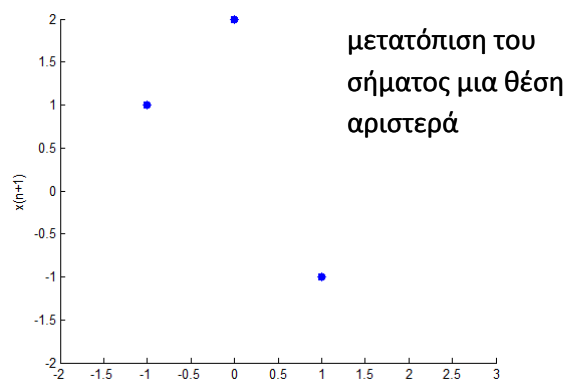
$$x_1(n)=n$$



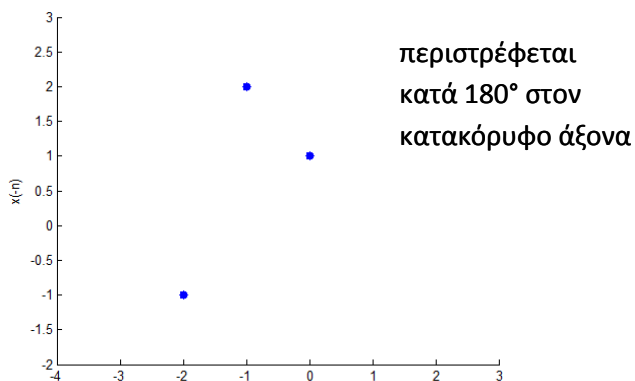
$$x_2(n)=2x_1(n)=2n \text{ κλιμάκωση κατά πλάτος}$$



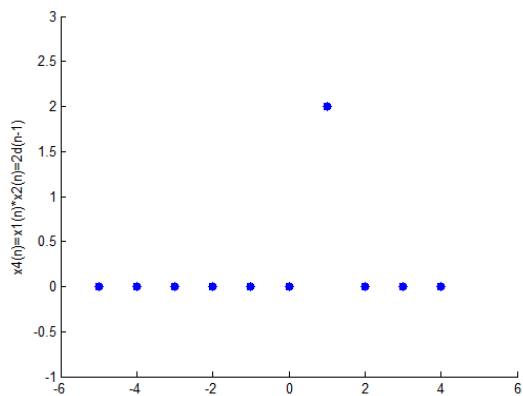
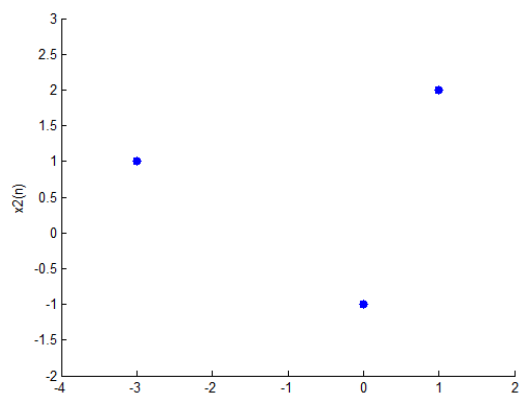
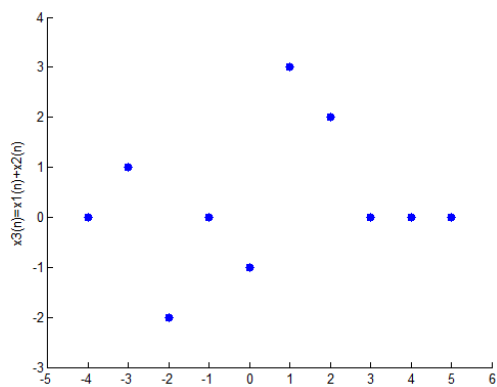
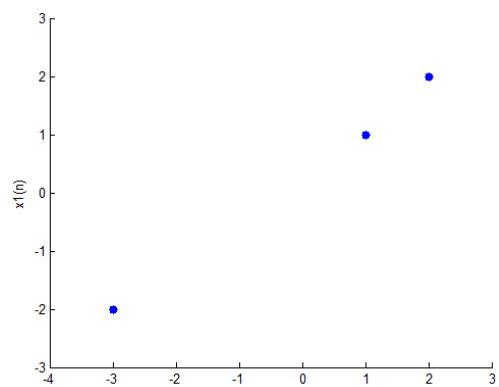
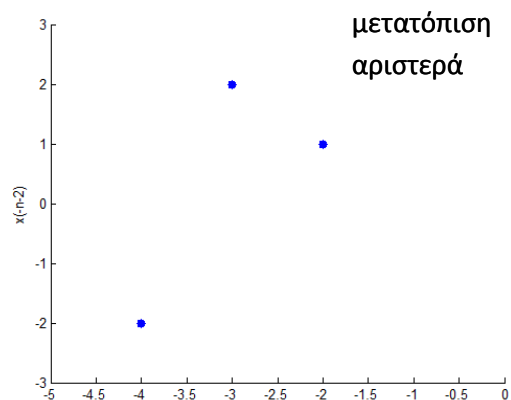
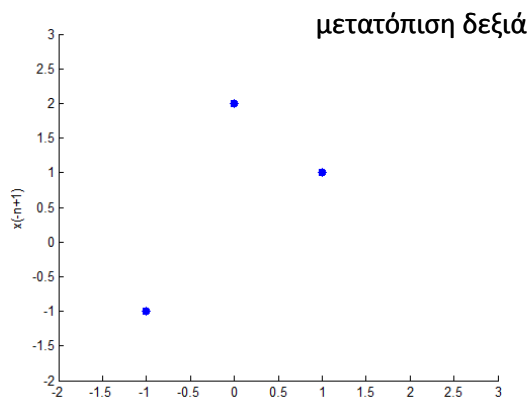
μετατόπιση του
σήματος μια θέση
δεξιά



μετατόπιση του
σήματος μια θέση
αριστερά



περιστρέφεται
κατά 180° στον
κατακόρυφο άξονα



3^ο ΜΑΘΗΜΑ

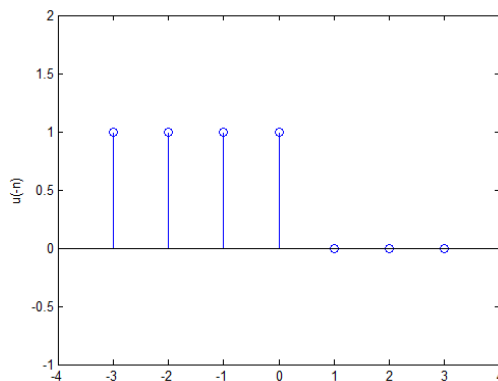
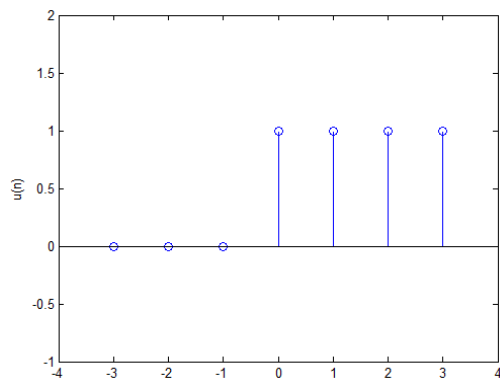
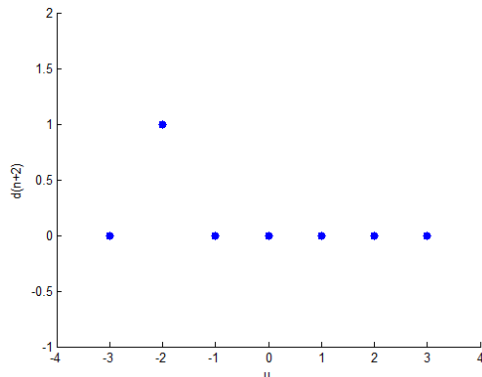
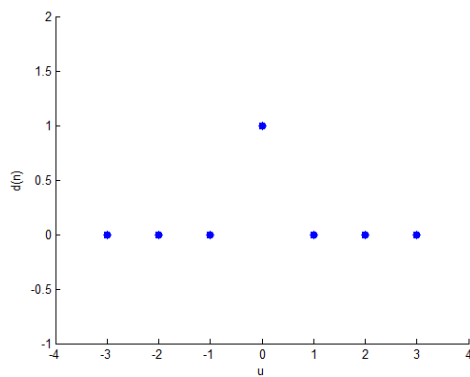
ΠΡΟΣΟΧΗ! Όταν έχουμε αντιστρέψει τη συνάρτηση, δηλ. $u(-n)$, τότε η μετατόπιση πάει με αντίθετη φορά.

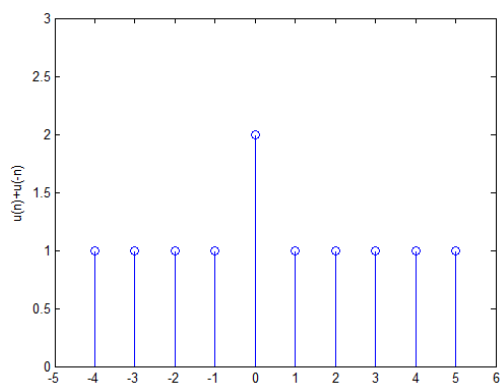
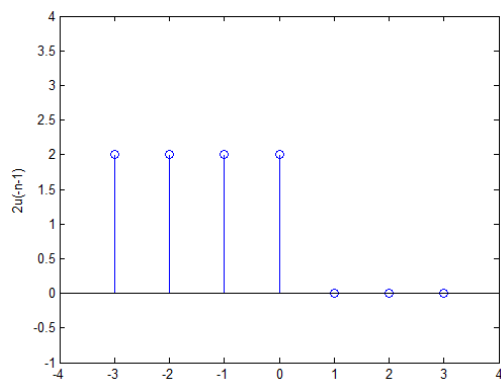
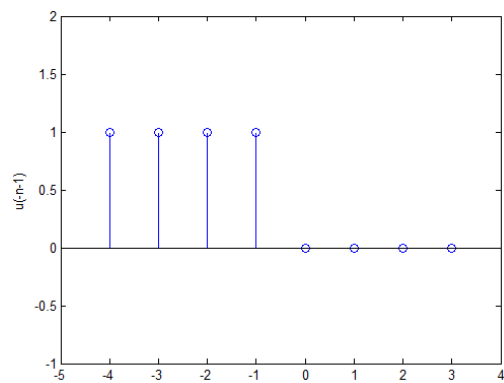
$$x_1(n) = 2u(-n-1)$$

$$x_2(n) = 3\delta(n+2)$$

$$x_3(n) = u(n) + u(-n)$$

$$x_4(n) = x_1(n) + x_2(n)$$





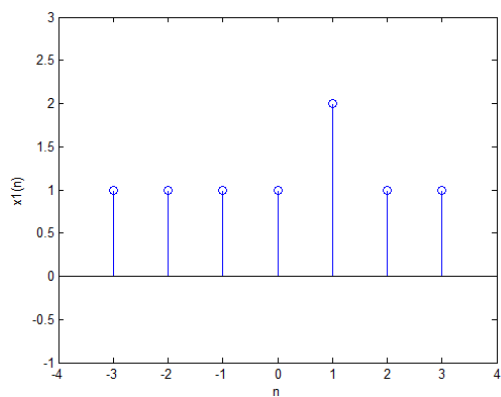
$$\forall n \quad n = -1 \rightarrow x_3(-1) = x_1(-1) + x_2(-1)$$

$$n = 0 \rightarrow x_3(0) = x_1(0) + x_2(0)$$

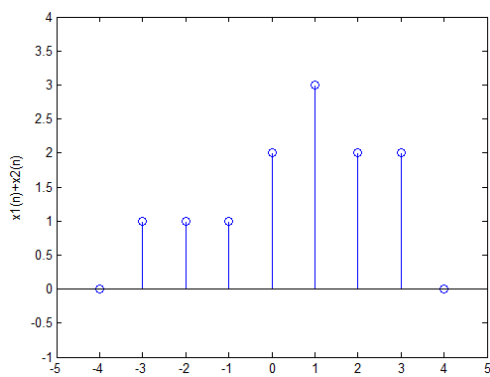
$$n = 1 \rightarrow x_3(1) = x_1(1) + x_2(1)$$

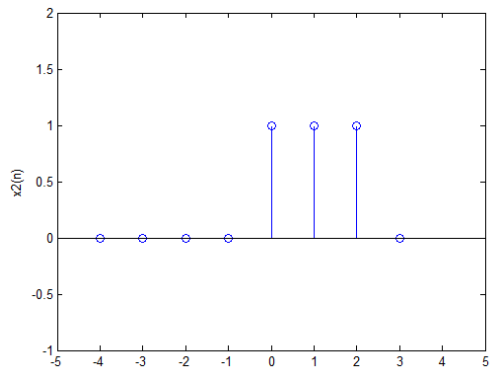
ισχύει και για αφαίρεση και για πολλαπλασιασμό

π.χ.

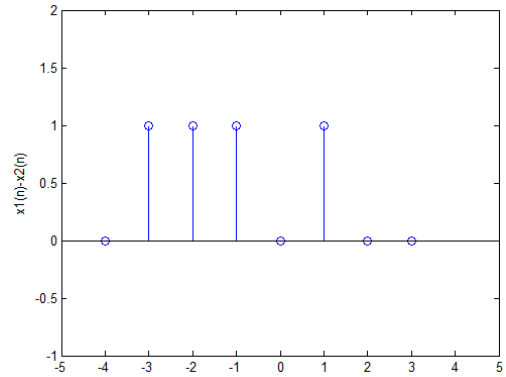


$x_1(n)$
+
 $x_2(n)$





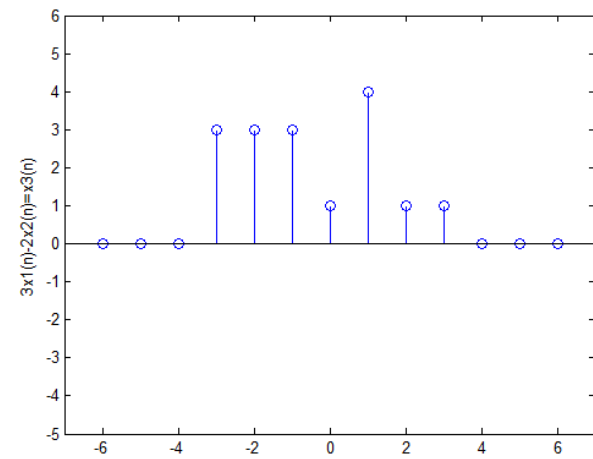
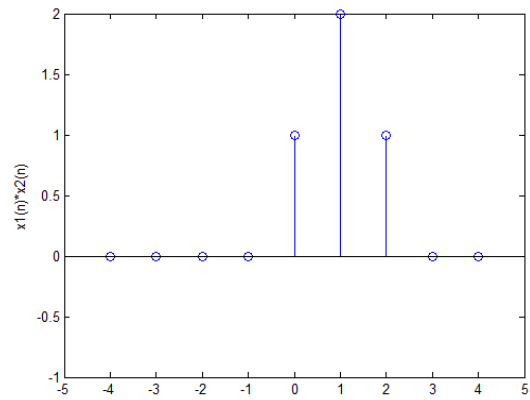
$x_1(n)$
-
 $x_2(n)$



$x_1(n)$

*

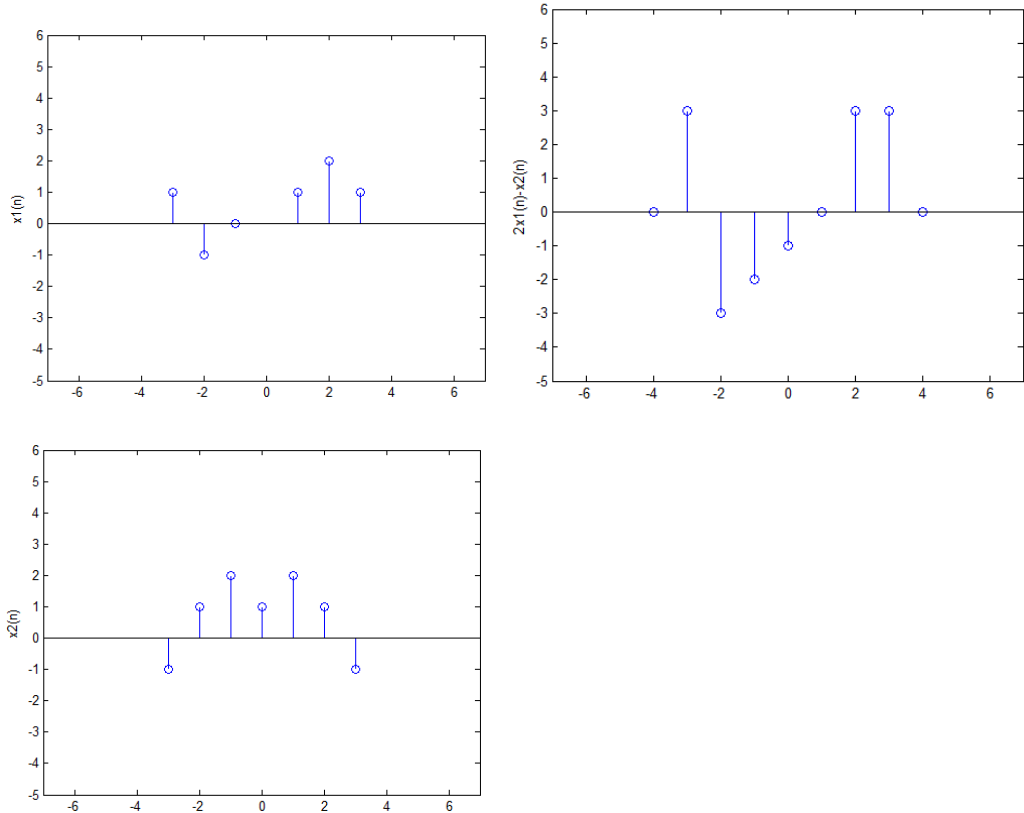
$x_2(n)$



γραμμική σχέση (πρόσθεση αφαίρεση σημάτων)

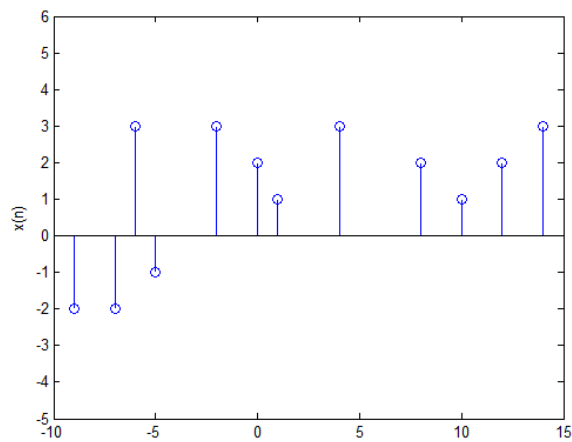
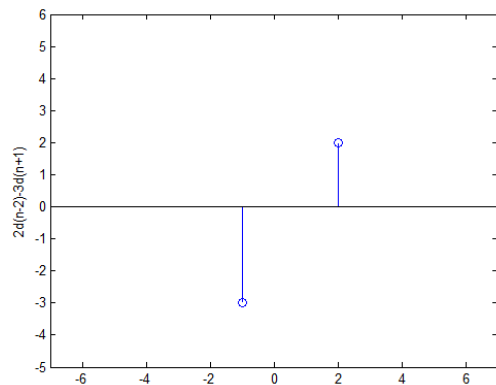
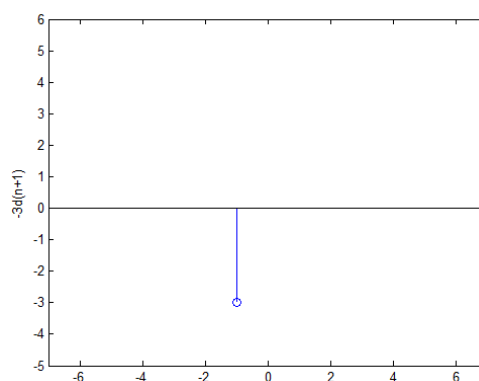
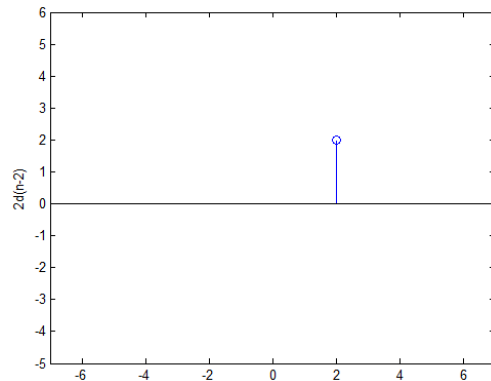
n	$x_1(n)$	$x_2(n)$	$3x_1(n)-2x_2(n)$
-3	1	0	$3 \cdot 1 - 0 = 3$
-2	1	0	$3 \cdot 1 - 0 = 3$
-1	1	0	$3 \cdot 1 - 0 = 3$
0	1	1	$3 \cdot 1 - 2 \cdot 1 = 1$
1	2	1	$3 \cdot 2 - 2 \cdot 1 = 4$
2	1	1	$3 \cdot 1 - 2 \cdot 1 = 1$
3	1	1	$3 \cdot 1 - 2 \cdot 1 = 1$
4	0	0	$3 \cdot 0 - 2 \cdot 0 = 0$

π.χ.



n	$x_1(n)$	$x_2(n)$	$2x_1(n)-x_2(n)$
-3	1	-1	$2 \cdot 1 - (-1) = 3$
-2	-1	1	$2 \cdot (-1) - 1 = -3$
-1	0	2	$2 \cdot 0 - 2 = -2$
0	0	1	$2 \cdot 0 - 1 = -1$
1	1	2	$2 \cdot 1 - 2 = 0$
2	2	1	$2 \cdot 2 - 1 = 3$
3	1	-1	$2 \cdot 1 - (-1) = 3$

π.χ.



$$x(n) = -2\delta(n+9) - 2\delta(n+7) + 3\delta(n+6) - \delta(n+5) + 3\delta(n+2) + 2\delta(n) + \delta(n-1) + 3\delta(n+4) + 2\delta(n-8) + 2\delta(n-12) + \delta(n-10) + 3\delta(n-14)$$

$$x(n) = \sum_{i=-\infty}^{\infty} a_i \delta(n-i)$$

μετατόπιση
κλιμάκωση
στο πλάτος

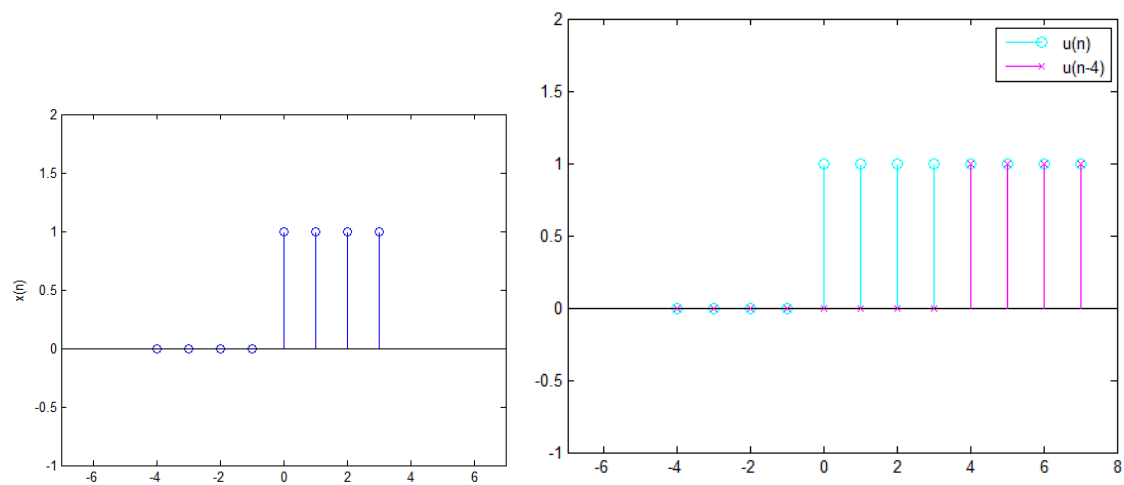
Στο προηγούμενη σχήμα →

$\alpha_{-3}=0$
$\alpha_{-2}=3$
$\alpha_{-1}=0$
$\alpha_0=2$
$\alpha_1=1$
$\alpha_2=0$
$\alpha_3=0$
$\alpha_4=3$
$\alpha_5=0$

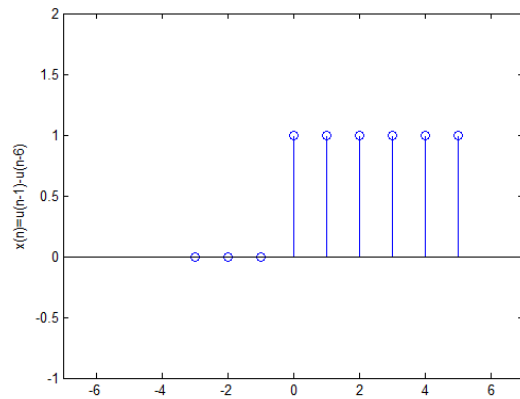
π.χ.

$$x(n) = \delta(n) + \delta(n-1) + \delta(n-2) + \delta(n-3)$$

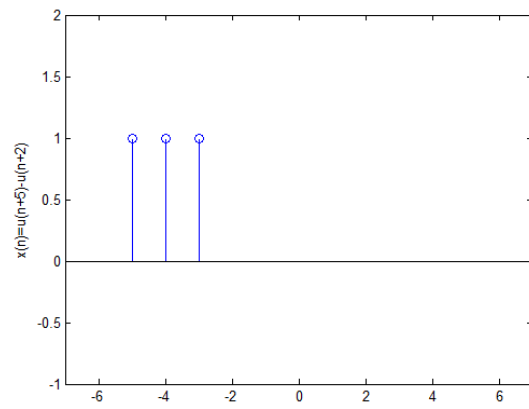
$$x(n) = u(n) - u(n-4)$$



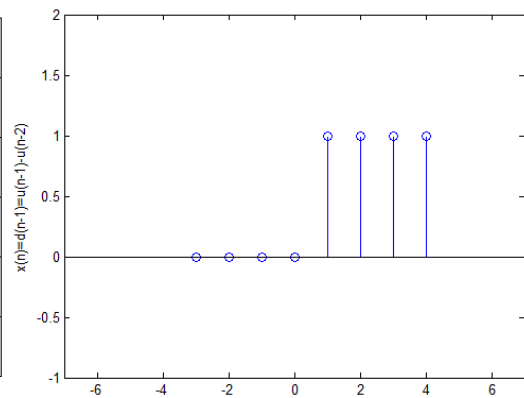
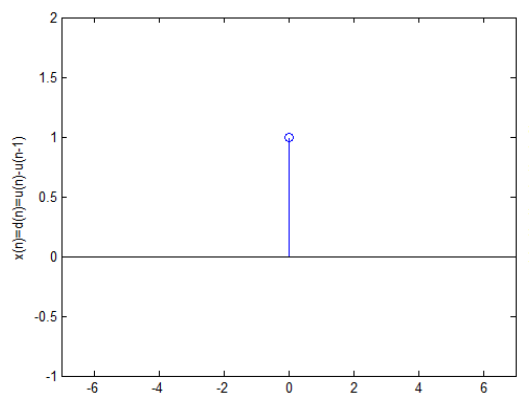
π.χ.



π.χ.

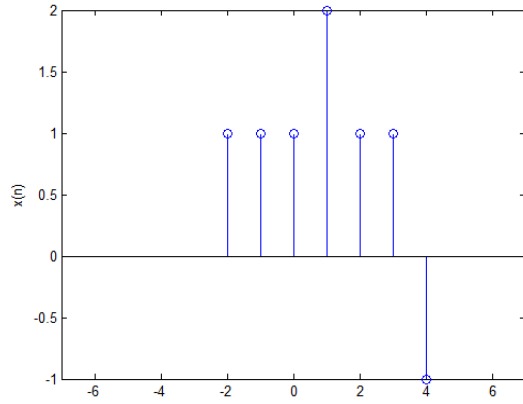


π.χ.



$$\text{Άρα} \rightarrow \forall n \quad \delta(n - n_0) = u(n - n_0) - u(n - (n_0 + 1))$$

π.χ.



$$x(n) = \delta(n+2) + \delta(n+1) + \delta(n) + 2\delta(n-1) + \delta(n-2) + \delta(n-3) - \delta(n-4) \quad (1)$$

$$\delta(n+2) = u(n+2) - u(n+1)$$

$$\delta(n+1) = u(n+1) - u(n)$$

$$\delta(n) = u(n) - u(n-1)$$

$$\delta(n-1) = u(n-1) - u(n-2)$$

$$\delta(n-2) = u(n-2) - u(n-3)$$

$$\delta(n-3) = u(n-3) - u(n-4)$$

$$\delta(n-4) = u(n-4) - u(n-5)$$

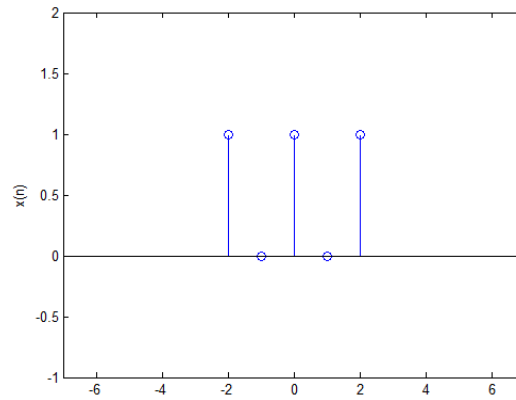
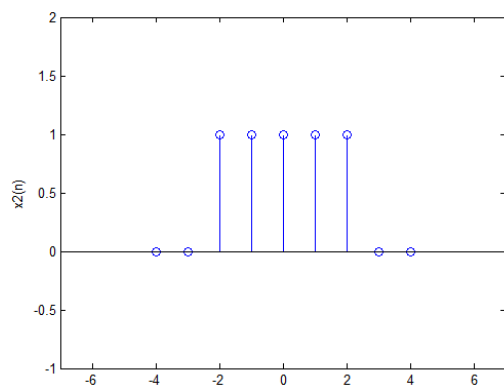
$$(1) \rightarrow x(n) = [u(n+2) - u(n+1)] + [u(n+1) - u(n)] + [u(n) - u(n-1)] + 2[u(n-1) - u(n-2)] + [u(n-2) - u(n-3)] + [u(n-3) - u(n-4)] - [u(n-4) - u(n-5)] \Rightarrow$$

$$x(n) = u(n+2) - u(n-1) + 2u(n-1) - 2u(n-2) + u(n-2) - u(n-4) - u(n-4) + u(n-5) \Rightarrow$$

$$x(n) = u(n+2) + u(n-1) - u(n-2) - 2u(n-4) + u(n-5)$$

4^ο ΜΑΘΗΜΑ

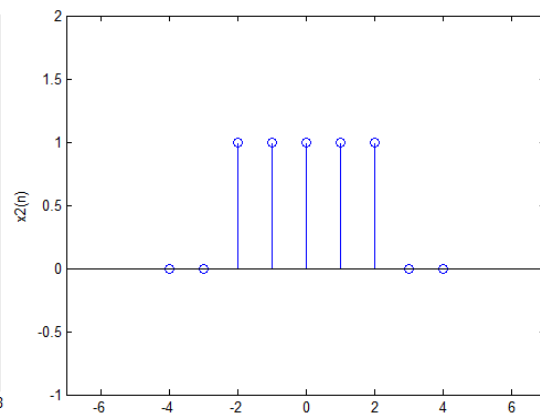
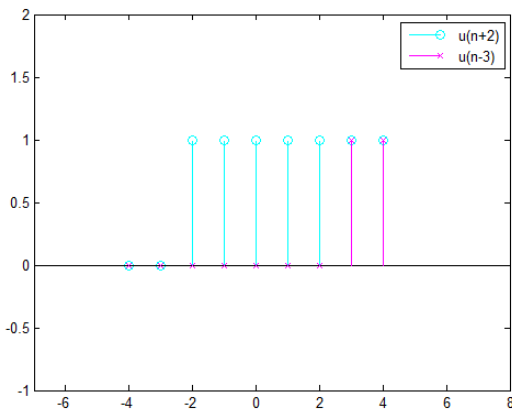
$$x(n) = \underbrace{(-1)^n}_{x_1(n)} \underbrace{[u(n+2) - u(n-3)]}_{x_2(n)}$$

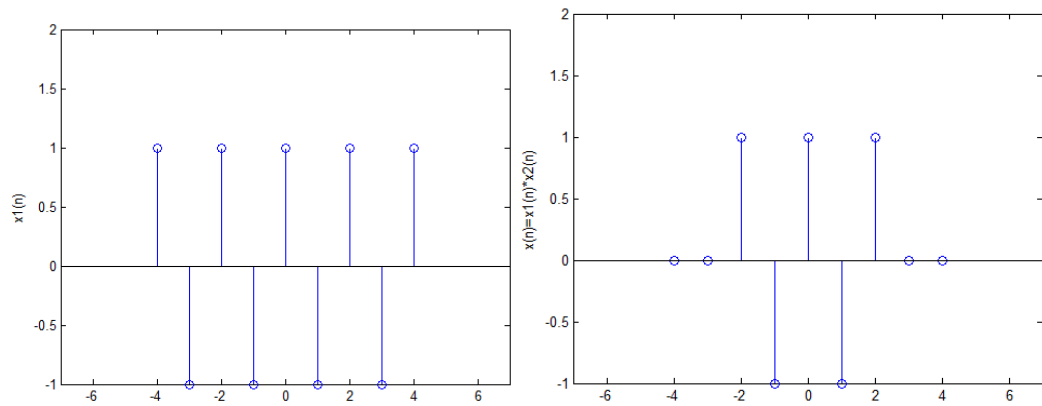


$$x_1(n) = (-1)^n$$

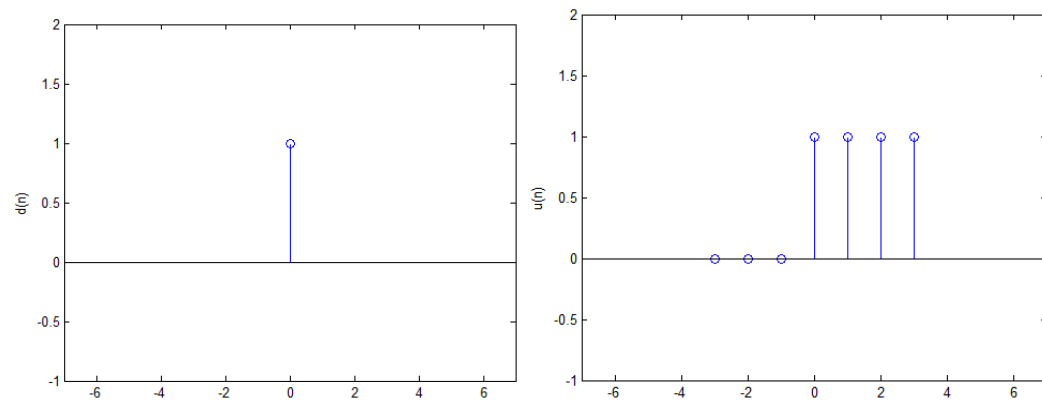
$$x_1(n) = u(n+2) - u(n-3)$$

$$x(n) = x_1(n) \cdot x_2(n)$$





Μοναδιαία συνάρτηση βήματος ως προς συνάρτηση δέλτα



Περιοδικά Σήματα

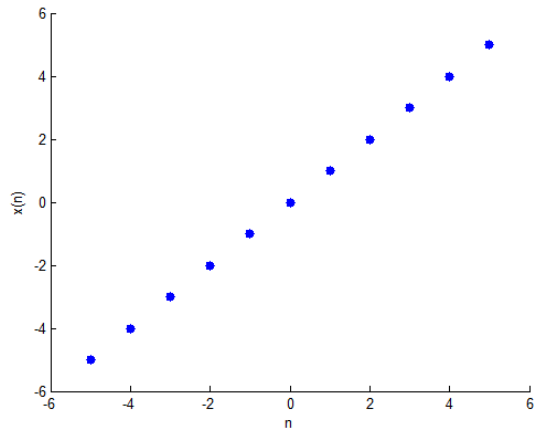
$$N: x(n) = x(n \pm kN) \quad \forall n$$

→ δηλ. αν προσθέσω έναν ακέραιο αριθμό στο n , τότε τη χρονική στιγμή $n+N$ έχει το ίδιο πλάτος με την τιμή n

για $n_0 \rightarrow n_0 \pm kN$

$$x(n_0) = x(n_0 + N)$$

Δίνεται σήμα $x(n)=n$. Είναι περιοδικό;



αφού δεν υπάρχει ακέραιο N για να υπάρχει ίδιο πλάτος, ΔΕΝ είναι περιοδικό.

$$\begin{aligned}
 x(n) &= \cos(0.125\pi n) = \cos\left(\frac{\pi}{8}n\right) = \cos\left(\frac{\pi}{8}n + 2\pi\right) = \\
 &= \cos\left(\frac{\pi n}{8} + \frac{16\pi}{8}\right) \Rightarrow x(n) = \cos\left(\frac{\pi}{8}(n+16)\right)
 \end{aligned}$$

Άρα το σήμα είναι περιοδικό με περίοδο u=16.

$$\bullet x(n) = \underbrace{\cos\left(\frac{n\pi}{12}\right)}_{x_1(n)} + \underbrace{\sin\left(\frac{n\pi}{18}\right)}_{x_2(n)}$$

$$x_1(n) = \cos\left(\frac{n\pi}{12}\right) = \cos\left(\frac{n\pi}{12} + 2\pi\right) = \cos\left(\frac{n\pi}{12} + \frac{24\pi}{12}\right) = \cos\left(\frac{\pi}{12}(n+24)\right) \rightarrow N_1 = 24, \text{άρα περιοδικό}$$

$$x_2(n) = \sin\left(\frac{n\pi}{18}\right) = \sin\left(\frac{n\pi}{18} + 2\pi\right) = \sin\left(\frac{n\pi}{18} + \frac{36\pi}{18}\right) = \cos\left(\frac{\pi}{18}(n+36)\right) \rightarrow N_2 = 36, \text{άρα περιοδικό}$$

$$N_{o\lambda} = \frac{N_1 N_2}{\text{ΜΔΚ}(N_1, N_2)} = \frac{24 \cdot 36}{\text{ΜΔΚ}(24, 36)} = \frac{24 \cdot 36}{12} = 72, \text{άρα και το άθροισμά τους περιοδικό}$$

$$\bullet x(n) = \underbrace{e^{j\frac{\pi}{16}n}}_{x_1(n)} \underbrace{\cos\left(\frac{n\pi}{17}\right)}_{x_2(n)}$$

$$x_1(n) = e^{j\frac{\pi}{16}n} = \cos\left(\frac{\pi n}{16}\right) + j \sin\left(\frac{\pi n}{16}\right) = \cos\left(\frac{\pi n}{16}\right) = \cos\left(\frac{\pi n}{16} + 2\pi\right) = \cos\left(\frac{\pi n}{16} + \frac{32\pi}{16}\right) = \\ = \cos\left(\frac{\pi}{16}(n+32)\right) \rightarrow N = 32$$

$$x_2(n) = \cos\left(\frac{n\pi}{17}\right) = \cos\left(\frac{n\pi}{17} + 2\pi\right) = \cos\left(\frac{n\pi}{17} + \frac{34\pi}{17}\right) = \cos\left(\frac{\pi}{17}(n+34)\right) \rightarrow N_1 = 34$$

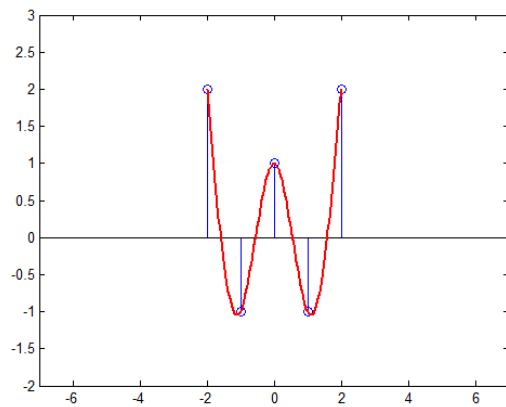
$$N_{o\lambda} = \frac{32 \cdot 34}{\text{ΜΔΚ}(32, 34)} = \frac{32 \cdot 34}{2} = 544$$

Συμμετρικές Ακολουθίες

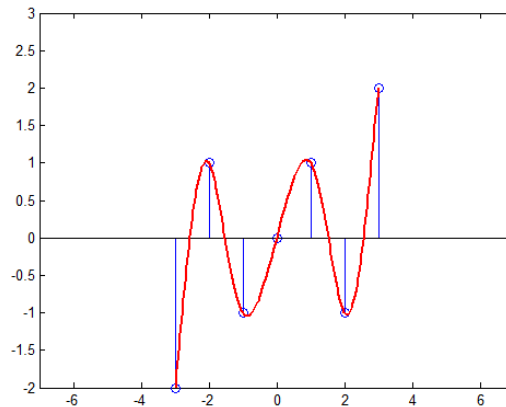
-άρτια, $x(n)=x(-n)$ (συμμετρικά ως προς τον κατακόρυφο άξονα)

-περιττά, $x(n)=-x(-n)$ (συμμετρικά ως προς την αρχή των αξόνων)

άρτιο



περιττό



$x_1(n)$: άρτιο

$x_2(n)$: περιττό

$$y(n) = x_1(n) \cdot x_2(n)$$

$$x_1(n) = x_1(-n)$$

$$x_2(n) = -x_2(-n) \Rightarrow x_2(-n) = -x_2(n)$$

$$y(-n) = x_1(-n) \cdot x_2(-n) = x_1(n) \cdot [-x_2(n)] = -x_1(n) \cdot x_2(n) = -y(n) \Rightarrow y(-n) = -y(n)$$

άρα περιττό $y(n)$

- άρτιο \cdot άρτιο = άρτιο
- άρτιο \cdot περιττό = περιττό

όταν έχουμε άρτιο αριθμό περιττών σημάτων, βγαίνει άρτιο. Όταν έχουμε περιττό αριθμό περιττών σημάτων, βγαίνει περιττό.

$$x_1(n): \text{άρτιο} \rightarrow x_1(n) = x_1(-n)$$

$$x_2(n): \text{περιττό} \rightarrow x_2(n) = -x_2(-n) \rightarrow x_2(-n) = -x_2(n)$$

$$x_3(n): \text{περιττό} \rightarrow x_3(n) = -x_3(-n) \rightarrow x_3(-n) = -x_3(n)$$

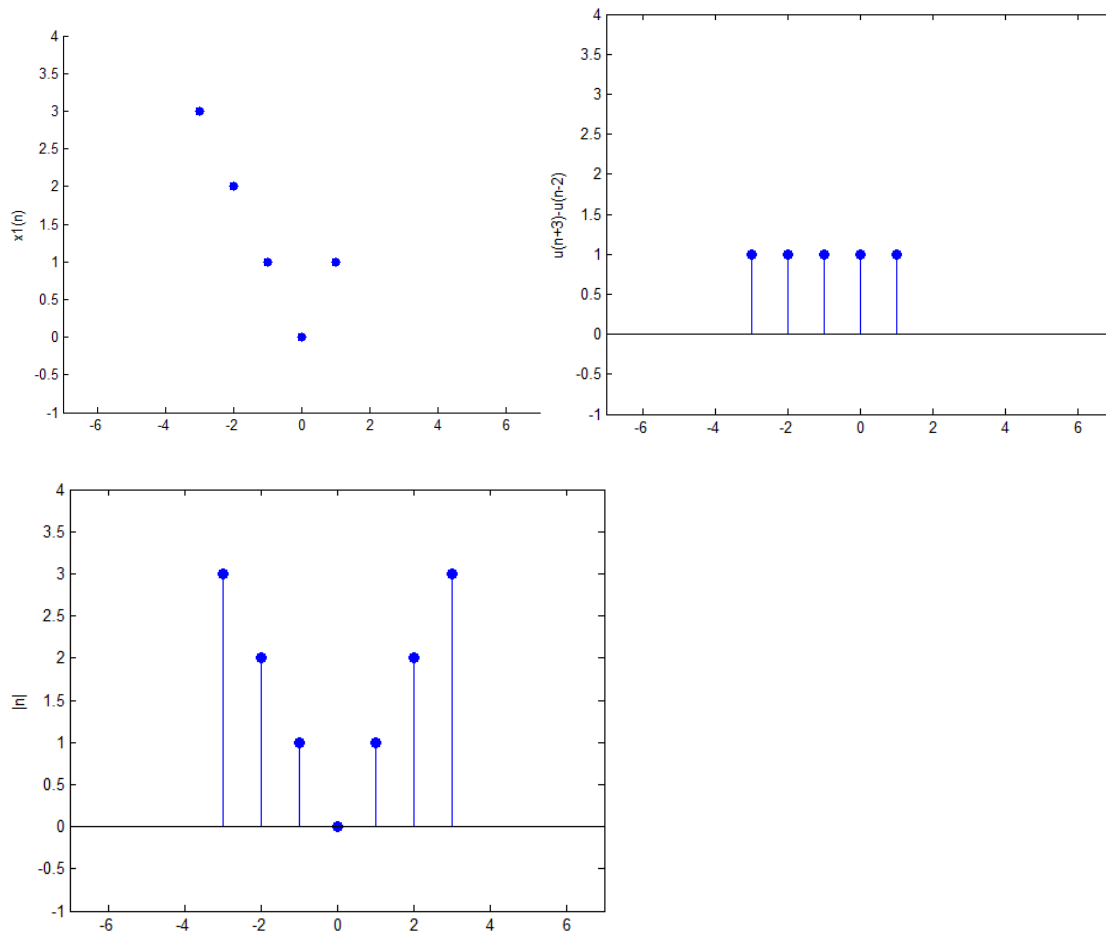
$$y(n) = x_1(n) \cdot x_2(n) \cdot x_3(n)$$

$$y(-n) = x_1(-n) \cdot x_2(-n) \cdot x_3(-n) = x_1(n) \cdot [-x_2(n)] \cdot [-x_3(n)] = x_1(n) \cdot x_2(n) \cdot x_3(n) \Rightarrow y(-n) = y(n)$$

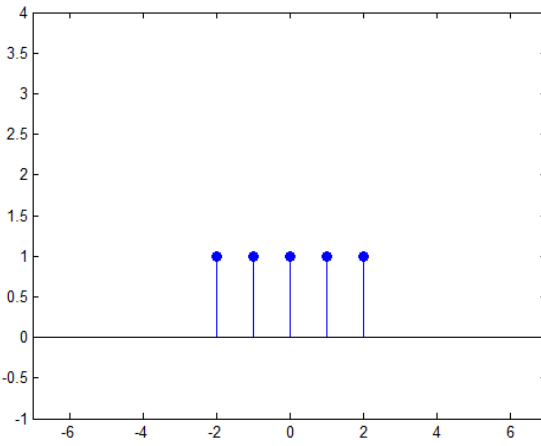
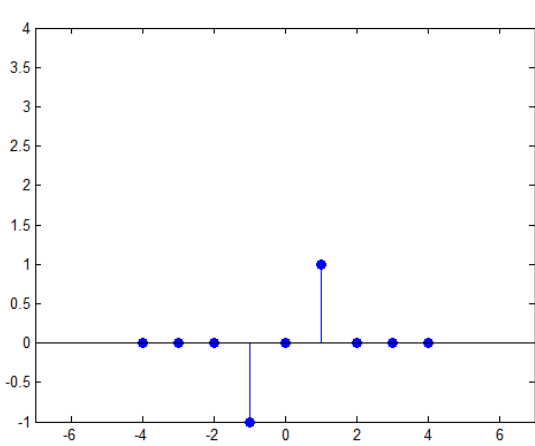
άρα άρτιο

5^o MAOHMA

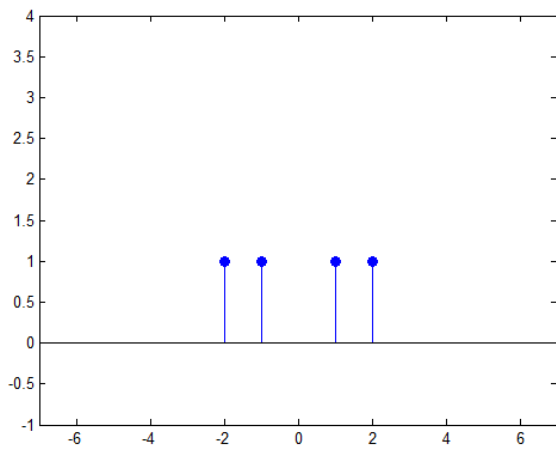
$$x_1(n) = |n| [u(n+3) - u(n-2)]$$



$$x_2(n) = \sin\left(\frac{n\pi}{2}\right) [u(n+2) - u(n-3)]$$




$$u(n+n_1)-u(n-n_2)$$




Συστήματα Διακριτού Χρόνου

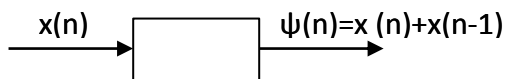
Σύστημα διακριτού χρόνου $T[\cdot]$



π.χ. $\psi(n) = x^2(n)$



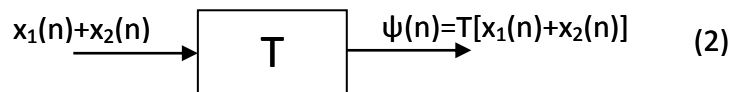
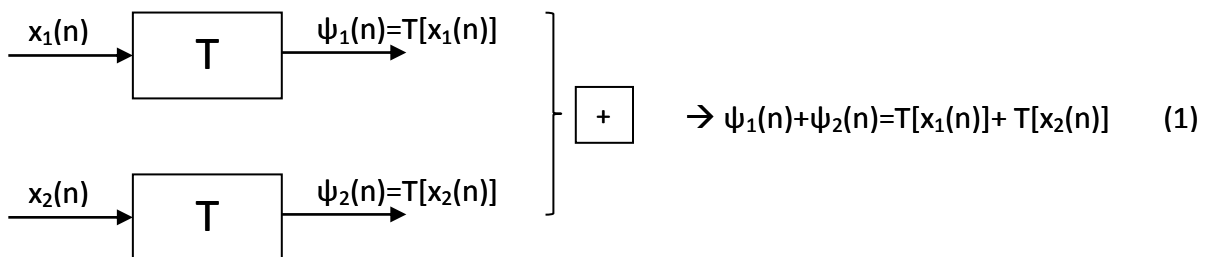
$x(n_0) \rightarrow x^2(n_0)$ δεν θέλει μνήμη



$x(n_0) \rightarrow \frac{x(n)}{x(n-1)}$ άρα πρόσθεση 2 χρονικών στιγμών, άρα θέλει μνήμη

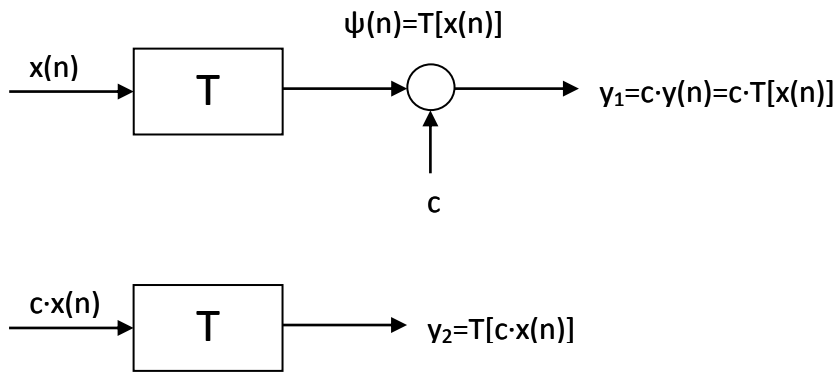
ΙΔΙΟΤΗΤΕΣ

- Υπέρθεση (Επαλληλία)



Αν το (1)=(2), τότε ισχύει η υπέρθεση και άρα θα ισχύει και $y(n) = y_1(n) + y_2(n)$

- Ομογένεια



αν το $y_1(n) = y_2(n)$ τότε ισχύει η ομογένεια.

π.χ. Έχω το σύστημα του διακριτού χρόνου $y(n) = \log(x(n))$. Να εξεταστεί αν ισχύει η αρχή της υπέρθεσης και η ομογένεια.

$$T[cx(n)] \stackrel{?}{=} cT[x(n)]$$

$$\log(cx(n)) \stackrel{?}{=} c \log(x(n)) \Rightarrow \log(c) + \log(x(n)) \stackrel{?}{\neq} c \log(x(n))$$

Πρέπει να ισχύει για όλες τις τιμές του n και του c . Αφού αυτό δεν ισχύει παρά ίσως για μία μόνο τιμή, το αρχικό δεν ισχύει, άρα το σύστημα δεν είναι ομογενές.

$$T[x_1(n) + x_2(n)] \stackrel{?}{=} T[x_1(n)] + T[x_2(n)]$$

$$\log(x_1(n) + x_2(n)) \stackrel{?}{=} \log(x_1(n)) + \log(x_2(n))$$

$$\log(x_1(n) + x_2(n)) \stackrel{?}{\neq} \log(x_1(n) \cdot x_2(n))$$

άρα δεν ισχύει η αρχή της υπέρθεσης

$$\text{π.χ. } y(n) = 6x(n) + \frac{x(n+1) \cdot x(n-1)}{x(n)} \quad \text{υπέρθεση? ομογένεια?}$$

$$\begin{aligned}
T[x_1(n) + x_2(n)] &\stackrel{?}{=} T[x_1(n)] + T[x_2(n)] \\
6(x_1(n) + x_2(n)) + \frac{(x_1(n+1) + x_2(n+1)) \cdot (x_1(n-1) + x_2(n-1))}{x_1(n) + x_2(n)} &\stackrel{?}{\neq} \\
6x_1(n) + \frac{x_1(n+1) \cdot x_1(n-1)}{x_1(n)} + 6x_2(n) + \frac{x_2(n+1) \cdot x_2(n-1)}{x_2(n)}
\end{aligned}$$

άρα δεν ισχύει η αρχή της υπέρθεσης

$$\begin{aligned}
T[c \cdot x(n)] &\stackrel{?}{=} cT[x(n)] \\
6(c \cdot x(n)) + \frac{(c \cdot x(n+1)) \cdot (c \cdot x(n-1))}{c \cdot x(n)} &\stackrel{?}{=} c \left(6x(n) + \frac{x(n+1) \cdot x(n-1)}{x(n)} \right) \Rightarrow \\
6cx(n) + \frac{cx(n+1)x(n-1)}{x(n)} &\stackrel{?}{=} 6cx(n) + c \frac{x(n+1)x(n-1)}{x(n)}
\end{aligned}$$

άρα ισχύει η ομογένεια

$$\text{π.χ. } y(n) = x(n) \cdot \sin\left(\frac{n\pi}{2}\right) \text{ υπέρθεση? ομογένεια?}$$

$$\begin{aligned}
T[x_1(n) + x_2(n)] &\stackrel{?}{=} T[x_1(n)] + T[x_2(n)] \\
(x_1(n) + x_2(n)) \cdot \sin\left(\frac{n\pi}{2}\right) &\stackrel{?}{\neq} x_1(n) \cdot \sin\left(\frac{n\pi}{2}\right) + x_2(n) \cdot \sin\left(\frac{n\pi}{2}\right)
\end{aligned}$$

άρα ισχύει η αρχή της υπέρθεσης

$$\begin{aligned}
T[c \cdot x(n)] &\stackrel{?}{=} cT[x(n)] \\
(c \cdot x(n)) \cdot \sin\left(\frac{n\pi}{2}\right) &\stackrel{?}{=} c \left(x(n) \cdot \sin\left(\frac{n\pi}{2}\right) \right) \Rightarrow \\
6cx(n) + \frac{cx(n+1)x(n-1)}{x(n)} &\stackrel{?}{=} 6cx(n) + c \frac{x(n+1)x(n-1)}{x(n)}
\end{aligned}$$

άρα ισχύει η ομογένεια

Γραμμικό Σύστημα

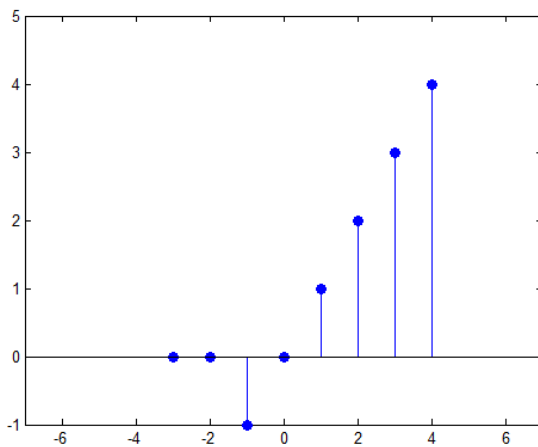
$$T[a_1 x_1(n) + a_2 x_2(n)] = a_1 T[x_1(n)] + a_2 T[x_2(n)]$$

το σύστημα στο οποίο ισχύει και η ομογένεια αλλά και η αρχή της υπέρθεσης.

6^ο ΜΑΘΗΜΑ

$$x(n) = n(u(n+1) - u(n-1))$$

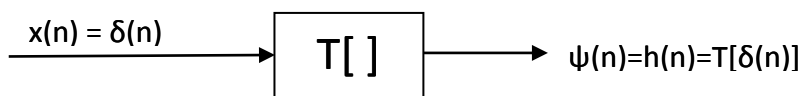
$$x(n) = \sum_{k=-\infty}^{\infty} x(k)\delta(n-k)$$



$$x(n) = x(-1)\delta(n+1) + x(0)\delta(n) + x(1)\delta(n-1) + x(2)\delta(n-2) + x(3)\delta(n-3) + \dots + x(k)\delta(n-k)$$

Κρουστική Απόκριση

$$x(n) = \delta(n)$$



έξοδος συστήματος όταν θέσουμε στην είσοδο τη μοναδιαία διακριτή ώση.

- Αμεταβλητότητα στη μετατόπιση

Αν το σύστημα είναι αμετάβλητο, τότε η είσοδος μετατοπίζεται 2 θέσεις αριστερά. Τότε και στην έξοδο θα μετατοπιστεί 2 θέσεις αριστερά.

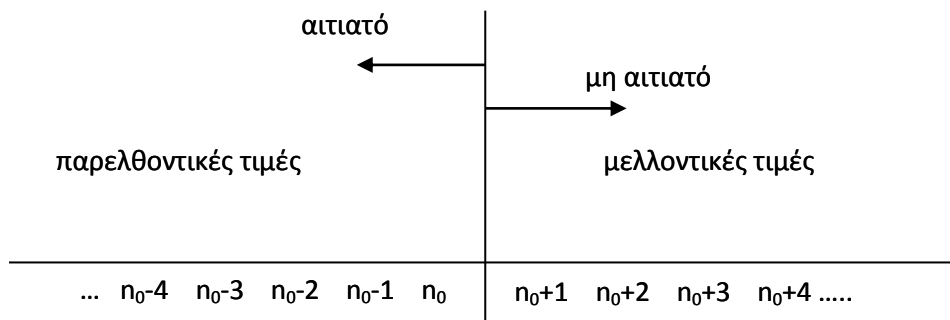
Η μετατόπιση θα είναι ίδια. Το $\psi(n)=3$ είναι μεταβλητό.

- Γραμμικά συστήματα αμετάβλητα στη μετατόπιση

Τα συστήματα που είναι γραμμικά όσο και αμετάβλητα στη μετατόπιση

- | | | |
|-------------------|---|-------------------|
| a) υπέρθεση | } | πρέπει να ισχύουν |
| b) ομογένεια | | |
| c) αμεταβλητότητα | | |

- Αιτιότητα



Το σύστημα είναι αιτιατό όταν εξαρτάται από τις παρελθοντικές τιμές χρόνου έως την παροντική, π.χ. $\psi(n_0) = x(n_0+3)$, $y(n_0) = x(n_0)$. Ενώ μη αιτιατό όταν εξαρτάται από μελλοντικές, π.χ. $y(n) = x(n_0-6)$.

- $y(n_0) = \frac{1}{2}x(n_0) - \frac{\sqrt{3}}{\pi}x(n_0 - 7) + \frac{x(n_0 + 1)}{12} \Rightarrow \text{μη αιτιατό}$

- $y(n_0) = cx(n_0 - 1) \Rightarrow \text{αιτιατό γιατί δεν εξαρτάται από τους συντελεστές}$

- $y(n) = \frac{x(n+5)x(n-1)x(n-2)}{x(n)} \Rightarrow \text{αιτιατό}$

- $y(n) = x(n_0 + 3)x(n_0 - 1) \Rightarrow \text{μη αιτιατό}$

- $y(n) = x(-n)$ για $n_0 \geq 0$ $n_0 \geq -n_0 \Rightarrow y(n_0)$ μετά το $x(-n_0)$
για $n_0 < 0$ $n_0 < -n_0 \Rightarrow y(n_0)$ πριν το $x(-n_0)$

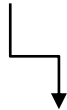
π.χ. $n=3 \rightarrow y(3) = x(-3)$

$n=-3 \rightarrow y(-3) = x(-(-3)) = x(3)$

- $y(n) = x(|n|) = \begin{cases} x(n), n \geq 0 & \text{αιτιατό} \\ x(-n), n < 0 & \text{αφού από το προηγούμενο δεν είναι αιτιατό} \end{cases}$

$|n| = \begin{cases} n, n \geq 0 \\ -n, n < 0 \end{cases}$ άρα το σύστημα δεν είναι αιτιατό.

- $y(n_0) = u(n+3)x(n_0) + u(-n)x(-n_0)$



αφού είναι μια συνάρτηση γνωστή που δεν την παίρνουμε στην είσοδο, δεν μας ενδιαφέρει

$$(1) \ n \in (-\infty, -4]: y(n) = u(n+3)x(n) + u(-n)x(-n)$$

$$y(n) = 0 \cdot x(n) + 1 \cdot x(-n) = x(-n)$$

μη αιτιατό

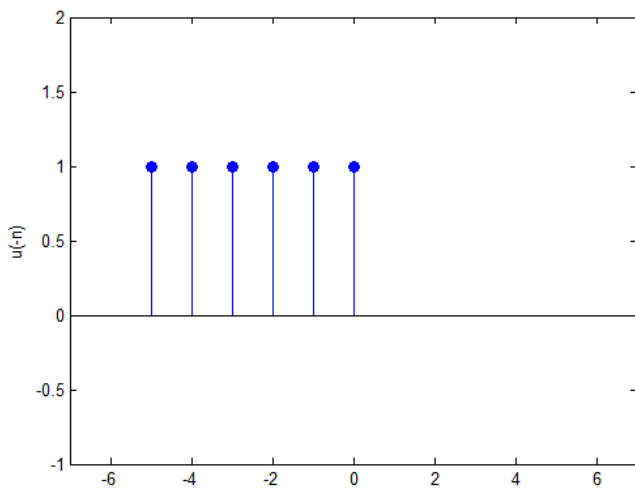
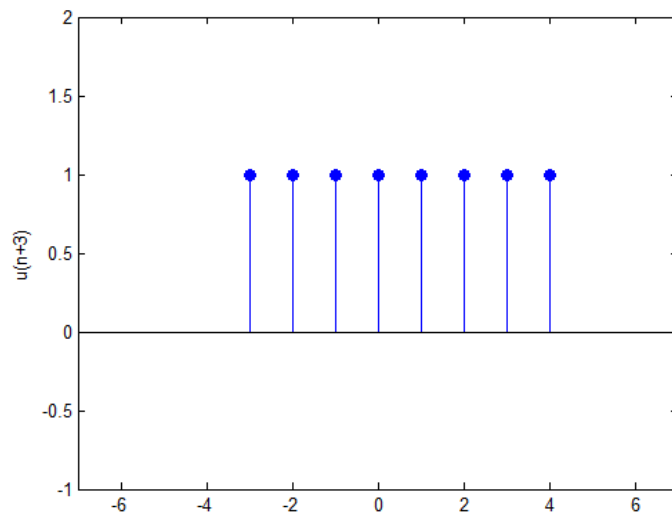
$$(2) \ n \in [-3, 0]: y(n) = 1 \cdot x(n) + 1 \cdot x(-n) = x(n) + x(-n)$$

μη αιτιατό

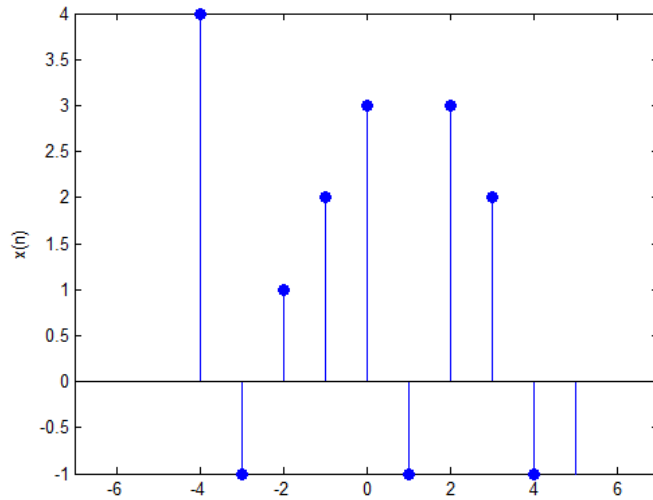
$$(3) \ n \in [1, \infty): y(n) = 1 \cdot x(n) + 0 \cdot x(-n) = x(n)$$

αιτιατό

άρα συνολικά το αρχικό σύστημα είναι μη αιτιατό!



- Ευστάθεια



αν $|x(n)| \leq A < \infty \rightarrow$ φραγμένο σύστημα

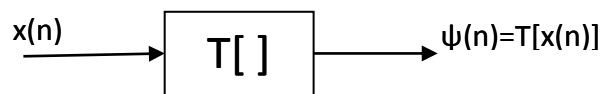


τότε $|y(n)| \leq B < \infty$ θα είναι φραγμένη και η έξοδος, όχι με την ίδια τιμή πλάτους στη φραγή.

$x(n) = n \rightarrow$ μη φραγμένη

$y(n) = \sin(x(n)) \leq 1 < \infty \rightarrow$ ευσταθές γιατί το sin είναι φραγμένη συνάρτηση μεταξύ του $-1 < \sin < 1$.

- Αντιστρεψιμότητα



$$\text{αν } y(n) = 2x(n) \Rightarrow x(n) = \frac{1}{2} y(n)$$

$$n = 3 \rightarrow x(3) = 2 \rightarrow y(3) = 2x(3) = 2 \cdot 2 = 4$$

$$n = -5 \rightarrow x(-5) = 7 \rightarrow y(-5) = 2x(-5) = 2 \cdot 7 = 14$$

$$\text{για } n = -5 \rightarrow y(-5) = 14, \text{ άρα } x(-5) = \frac{1}{2} y(-5) = \frac{1}{2} \cdot 14 \Rightarrow x(-5) = 7$$

όταν από την έξοδο μπορώ να βρω την είσοδο, τότε το σύστημα λέγεται αντιστρέψιμο.

$$\bullet y(n) = nx(n) \Rightarrow x(n) = \frac{1}{n} y(n)$$

$$n = 5 \rightarrow y(5) = 10 \rightarrow x(5) = \frac{1}{5} \cdot 10 = 2$$

$$n = 0 \rightarrow y(0) = 7 \rightarrow x(0) = ?$$

αφού υπάρχει έστω μια τιμή για την οποία δεν μπορώ να υπολογίσω την είσοδο, το σύστημα λέγεται μη αντιστρέψιμο.

$$\bullet y(n) = (n-1)x(n) \Rightarrow x(n) = \frac{1}{n-1} y(n) \text{ μη αντιστρέψιμο για } n=1, \text{ άρα όλο μη αντιστρέψιμο}$$

$$\bullet y(n) = \left(n - \frac{3}{2}\right)x(n) \Rightarrow x(n) = \frac{1}{n - \frac{3}{2}} y(n) \text{ αντιστρέψιμο αφού το } n \text{ είναι πάντα ακέραιος αριθμός}$$

$$\bullet y(n) = (n - \pi)x(n) \Rightarrow x(n) = \frac{y(n)}{n - \pi} \text{ αντιστρέψιμο}$$

$$\bullet y(n) = (n^2 + n - 2)x(n) \Rightarrow x(n) = \frac{y(n)}{n^2 + n - 2} \Rightarrow x(n) = \frac{y(n)}{n(n-1) + 2(n-1)} = \frac{y(n)}{(n-1)(n+2)}$$

για $n=1$ και $n=-2$ μη αντιστρέψιμο

$$\bullet y(n) = (n^2 + 1)x(n) \Rightarrow x(n) = \frac{y(n)}{n^2 + 1}, \quad n^2 + 1 \neq 0 \Rightarrow n^2 \neq -1 \text{ αντιστρέψιμο}$$

7^ο ΜΑΘΗΜΑ

$$y(n) = \delta(n+3)x(n-2) + u(n)x(n) \quad (|n|)$$

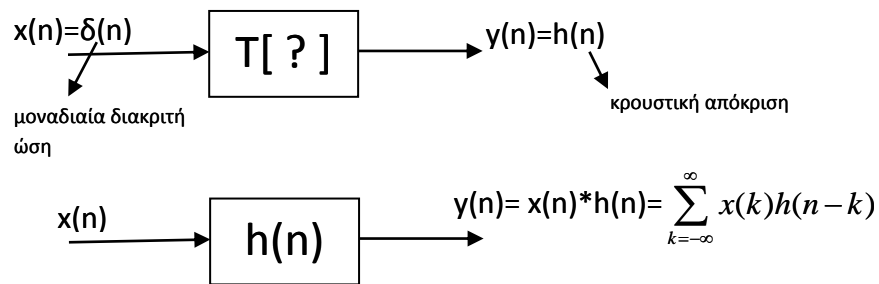
παρελθοντική τιμή ← 1 → τρέχουσα τιμή

$$y(n) = \begin{cases} \delta(n+3)x(n-2) + u(n)x(n), & \text{για } n \geq 0 \\ \delta(n+3)x(n-2) + u(n)x(-n), & \text{για } n < 0 \end{cases} = \begin{cases} \delta(n+3)x(n-2) + x(n), & \text{για } n \geq 0 \\ \delta(n+3)x(n-2), & \text{για } n < 0 \end{cases}$$

0

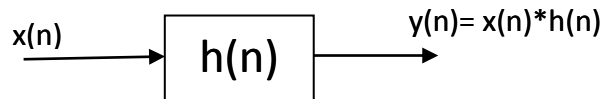
✓ Συνέλιξη

Η σχέση μεταξύ της εισόδου $x(n)$ ενός γραμμικού συστήματος και αμετάβλητου κατά τη μετατόπιση και της εξόδου $y(n)$ δίνεται από το άθροισμα της Συνέλιξης.

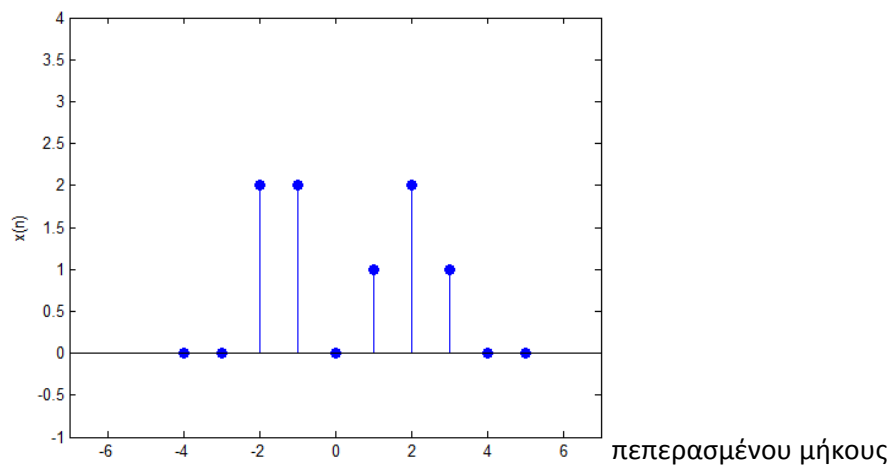


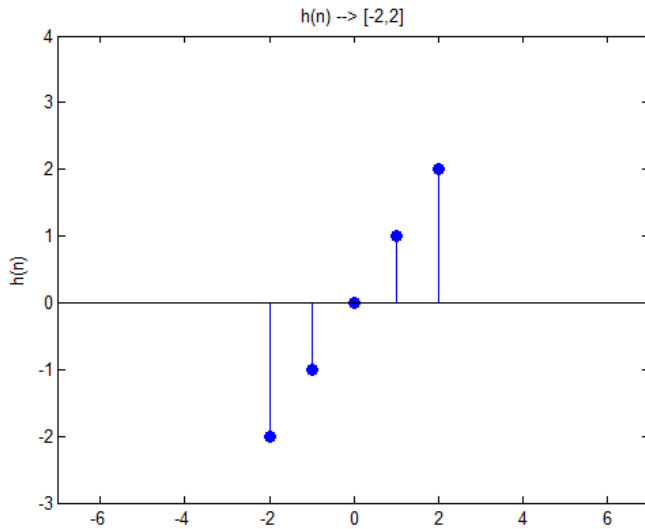
- Ιδιότητες

- a) Αντιμεταθετική $\rightarrow x(n) * h(n) = h(n) * x(n)$
- b) Προσεταιριστική $\rightarrow [x(n) * h_1(n)] * h_2(n) = x(n) * [h_1(n) * h_2(n)]$
- c) Επιμεριστική $\rightarrow x(n) * [h_1(n) + h_2(n)] = x(n) * h_1(n) + x(n) * h_2(n)$



πεπερασμένο στο διάστημα $[-2,3]$



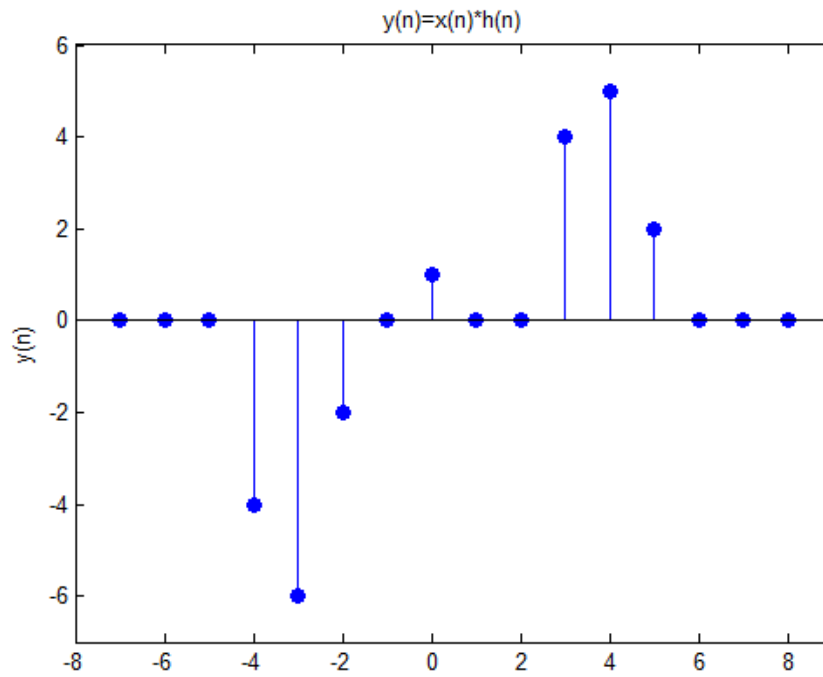


$y(n) \rightarrow$ πεπερασμένο στο διάστημα $[-2+(-2), 3+2]=[-4,5]$

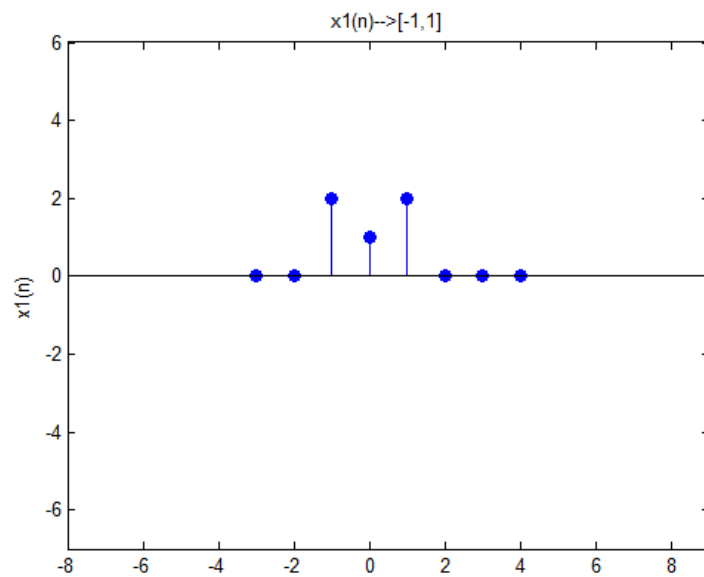
- Υπολογισμός της Συνέλιξης
 - a) μέθοδος του κανόνα (Μόνο σε σήματα πεπερασμένου μήκους)

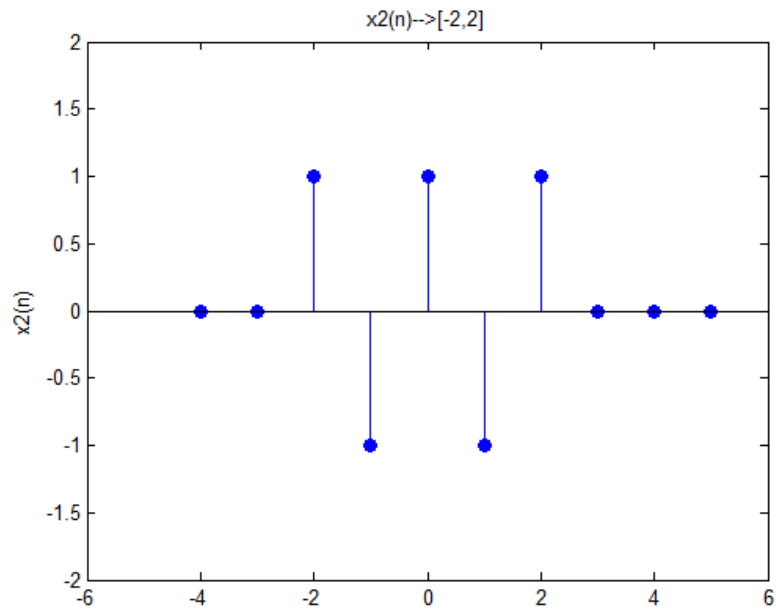
Τιμές πλάτους συνέλιξης	$x(-2)$	$x(-1)$	$x(0)$	$x(1)$	$x(2)$	$x(3)$
$x(n)$	2	2	0	1	2	1
$y(-4) = 2(-2) = -4$	-2					
$y(-3) = 2(-1) + 2(-2) =$ $-2 - 4 = -6$	-1	-2				
$y(-2) = 2 \cdot 0 + 2(-1) + 0(2) =$ $0 - 2 + 0 = -2$	0	-1	-2			
$y(-1) = 2 \cdot 1 + 2 \cdot 0 + 0(-1) + 1(-2) =$ $2 + 0 + 0 - 2 = 0$	1	0	-1	-2		
$y(0) = 2 \cdot 2 + 2 \cdot 1 + 0 \cdot 0 + 1(-1) = 1$	2	1	0	-1	-2	
$y(1) = 2 \cdot 2 + 0 \cdot 1 + 1 \cdot 0 + 2(-1) + 1(-2) =$ $4 + 0 + 0 - 2 - 2 = 0$		2	1	0	-1	-2
$y(2) = 0 \cdot 2 + 1 \cdot 1 + 2 \cdot 0 + 1(-1) =$ $0 + 1 + 0 - 1 = 0$			2	1	0	-1
$y(3) = 1 \cdot 2 + 2 \cdot 1 + 1 \cdot 0 = 2 + 2 + 0 = 4$				2	1	0
$y(4) = 2 \cdot 2 + 1 \cdot 1 = 4 + 1 = 5$					2	1
$y(5) = 1 \cdot 2 = 2$						2

γραφική παράσταση συνέλιξης



π.χ.





$x(-2)$	$x(-1)$	$x(0)$	$x(1)$	$x(2)$
1	-1	1	-1	1
2				
1	2			
2	1	2		
	2	1	2	
		2	1	2
			2	1
				2

$$y(n) = x_1(n) * x_2(n) \rightarrow$$

$$\rightarrow [-1+(-2), 1+2] \rightarrow [-3, 3]$$

$$y(-3) = 1 \cdot 2 = 2$$

$$y(-2) = 1 \cdot 1 + (-1) \cdot 2 = 1 - 2 = -1$$

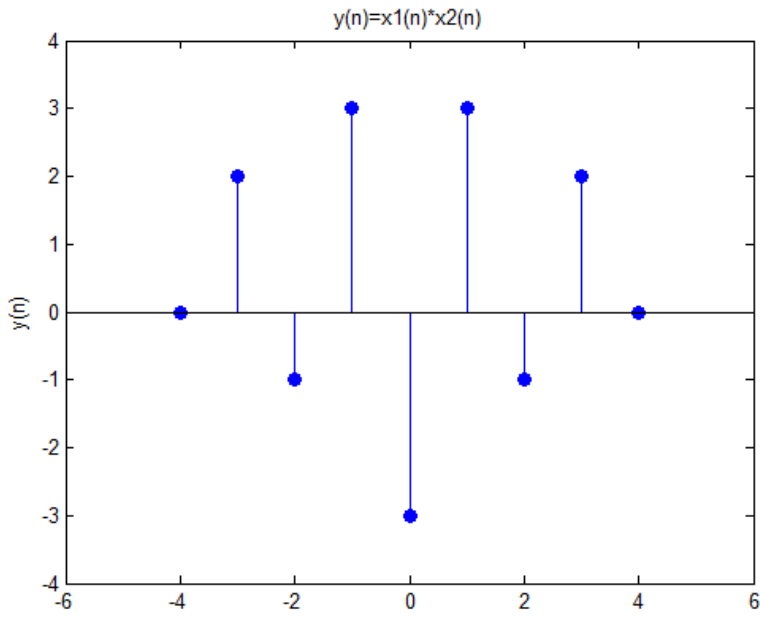
$$y(-1) = 1 \cdot 2 + (-1) \cdot 1 + 1 \cdot 2 = 2 - 1 + 2 = 3$$

$$y(0) = (-1) \cdot 2 + 1 \cdot 1 + (-1) \cdot 2 = -2 + 1 - 2 = -3$$

$$y(1) = 1 \cdot 2 + (-1) \cdot 1 + 1 \cdot 2 = 2 - 1 + 2 = 3$$

$$y(2) = (-1) \cdot 2 + 1 \cdot 1 = -2 + 1 = -1$$

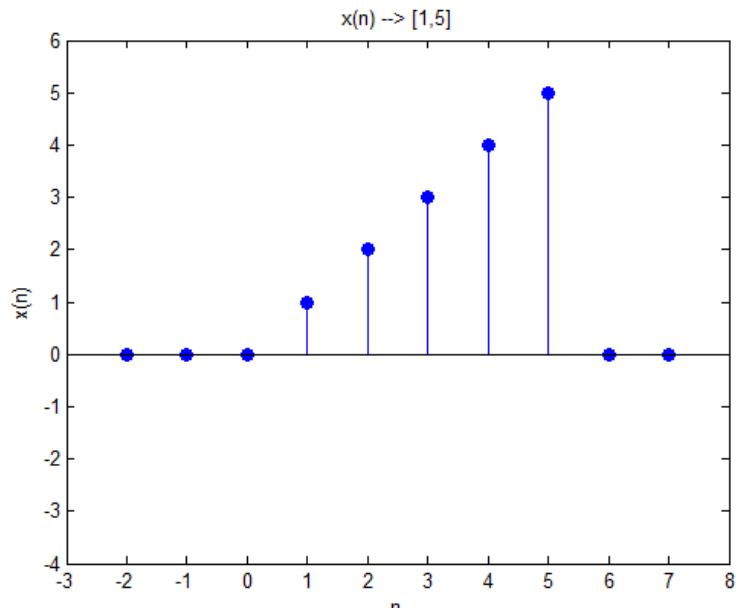
$$y(3) = 1 \cdot 2 = 2$$



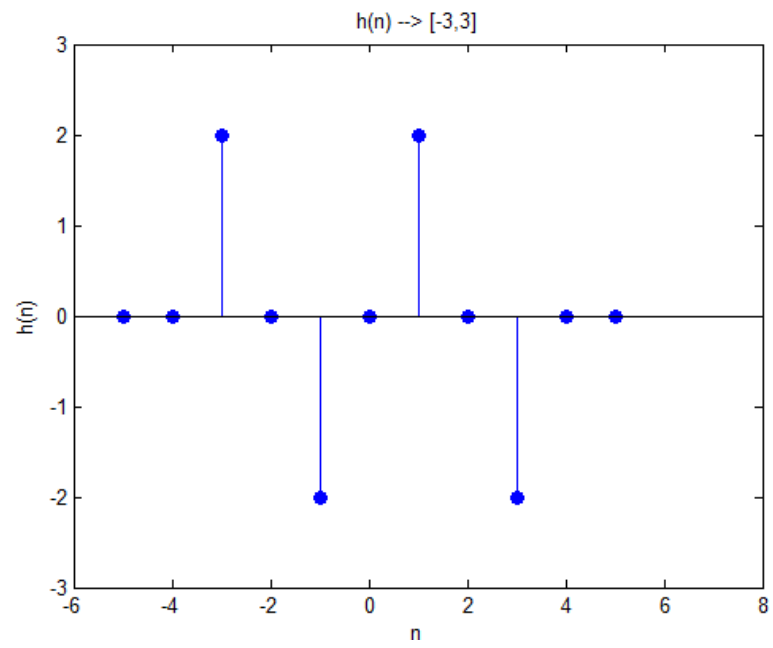
8° ΜΑΘΗΜΑ

$$x(n) = 0.5n[u(n) - u(n-6)]$$

$$h(n) = 2 \sin\left(\frac{n\pi}{2}\right)[u(n+3) - u(n-4)]$$

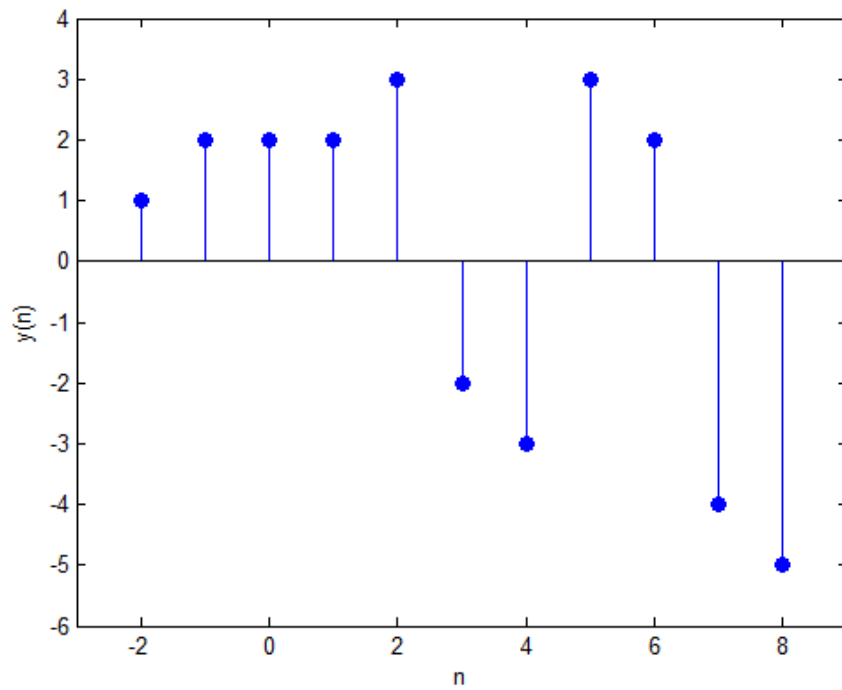


$$h(-n) = [-2, 0, 2, 0, 2, 0, 2]$$



$$y(n) \rightarrow [1+(-3), 5+3] \rightarrow [-2, 8]$$

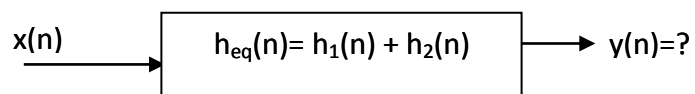
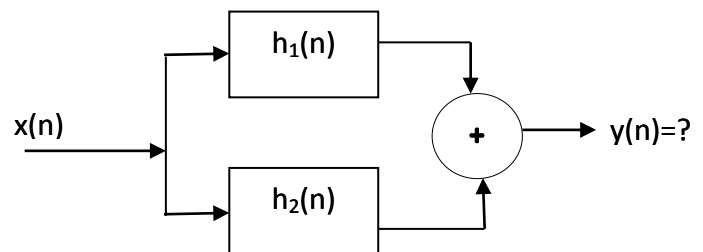
x(1)	x(2)	x(3)	x(4)	x(5)	
0.5	1	1.5	2.0	2.5	
2					y(-2)=1
0	2				y(-1)=2
-2	0	2			y(0)=2
0	-2	0	2		y(1)=2
2	0	-2	0	2	y(2)=3
0	2	0	-2	0	y(3)=-2
-2	0	2	0	-2	y(4)=-3
	-2	0	2	0	y(5)=3
		-2	0	2	y(6)=2
			-2	0	y(7)=-4
				-2	y(8)=-5

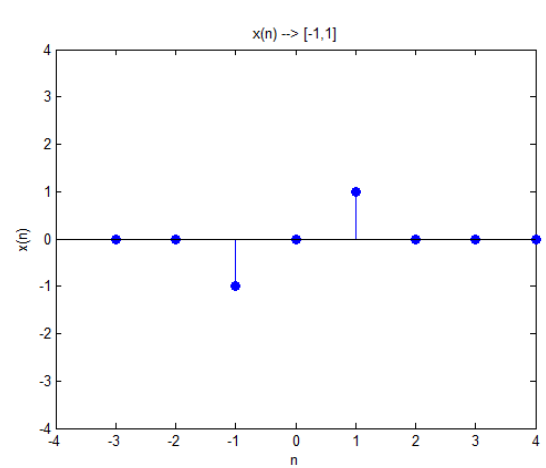
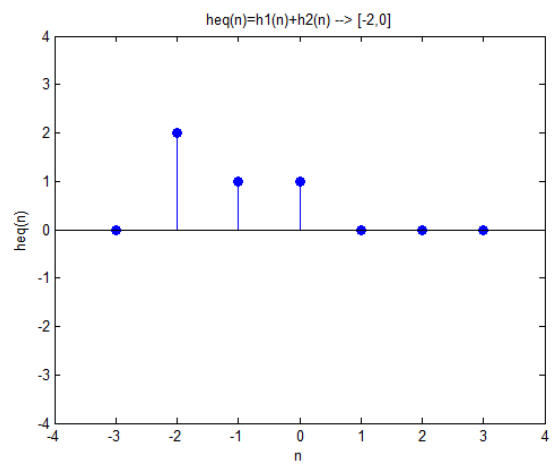
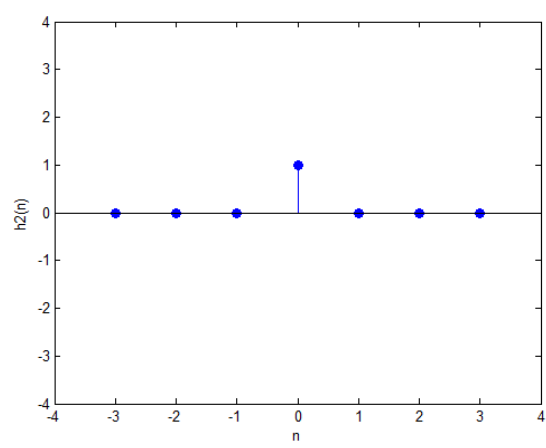
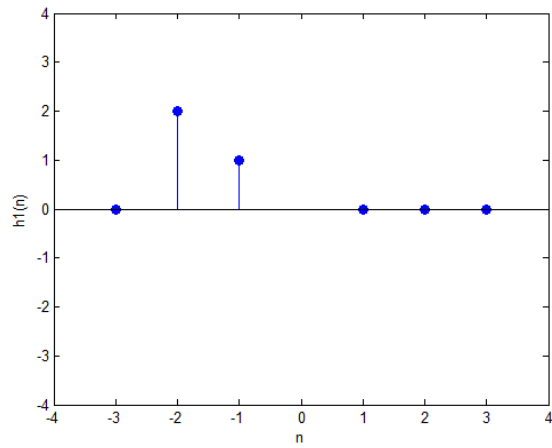


$$x(n) = n[u(n+1) - u(n-2)]$$

$$h_1(n) = |n| [u(n+2) - u(n-1)]$$

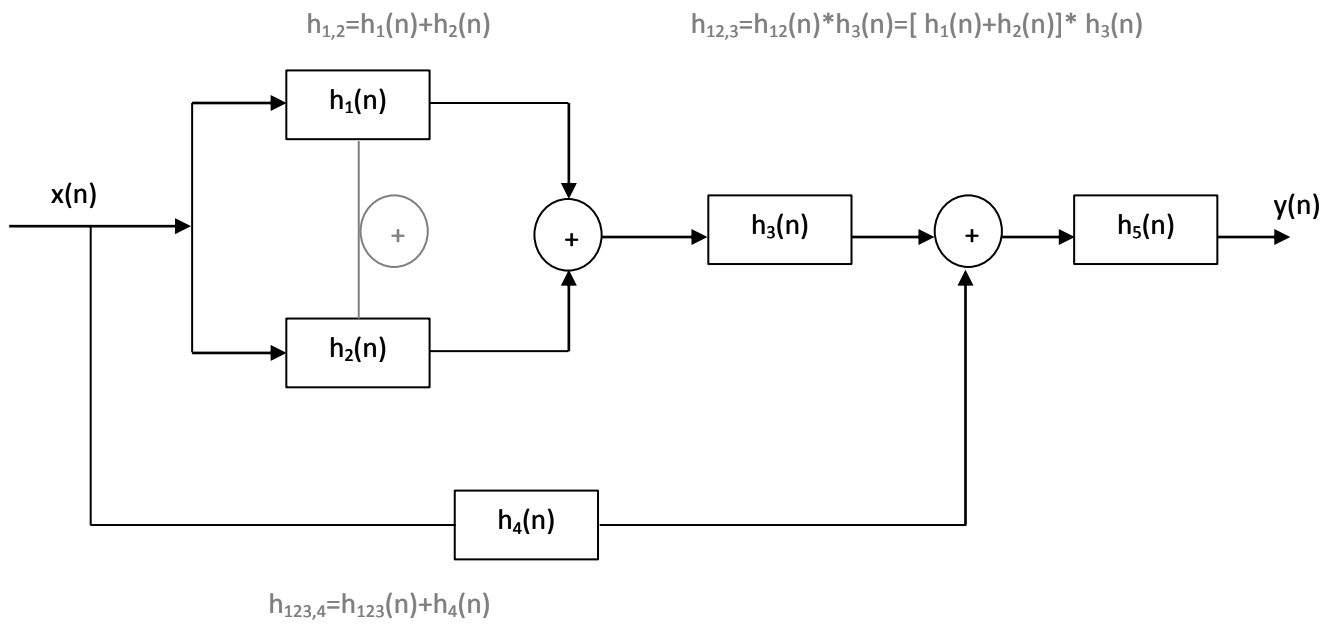
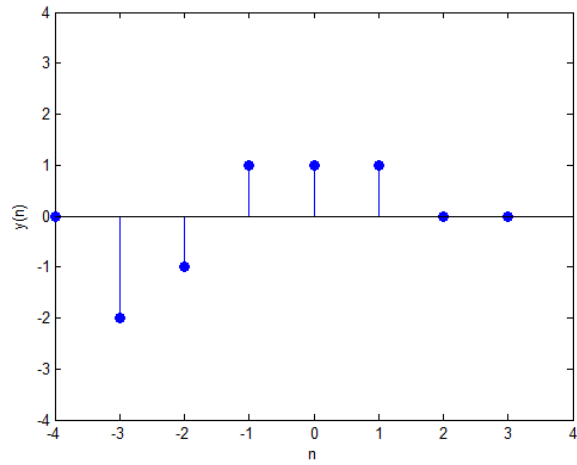
$$h_2(n) = \cos\left(\frac{n\pi}{2}\right) [u(n+1) - u(n-1)]$$





$h_{eq}(-2)$	$h_{eq}(-1)$	$h_{eq}(0)$	
2	1	1	
-1			$y(-3)=-2$
0	-1		$y(-2)=-1$
1	0	-1	$y(-1)=1$
	1	0	$y(0)=1$
		1	$y(1)=1$

$$y(n)=-2\delta(n+3)-1\delta(n+2)+1\delta(n+1)+1\delta(n)+\delta(n-1)$$



$$\acute{\alpha}\rho\alpha\,h_{\alpha\lambda}(n)=[\left[h_1(n)+h_2(n)\right]*h_3(n)+h_4(n)]*h_5(n)$$

$$y(n)=x(n)*h_{\alpha\lambda}(n)$$

$$x(n)=a^nu(n)$$

$$h(n)=u(n)$$

$$y(n)=x(n)*h(n)\,?$$

$$y(n)=\sum_{k=-\infty}^{\infty}x(k)h(n-k)=\sum_{k=-\infty}^{\infty}a^ku(k)u(n-k)\Rightarrow$$

$$y(n)=\sum_{k=-\infty}^{-1}a^k\overset{0}{\cancel{u(k)}}u(n-k)+\sum_{k=0}^{\infty}a^k\overset{1}{\cancel{u(k)}}u(n-k)\Rightarrow$$

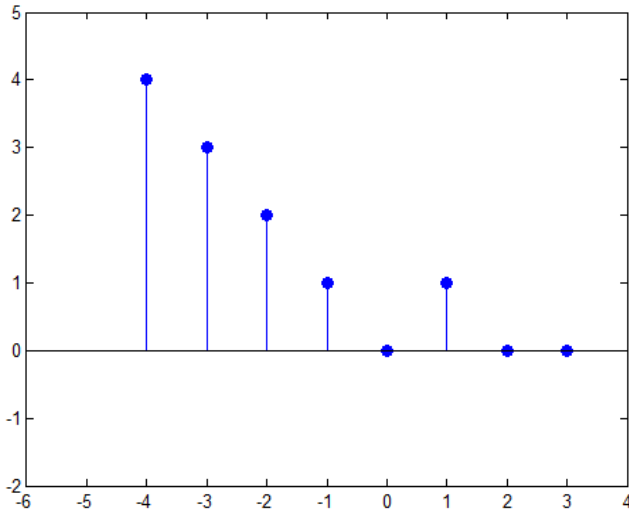
$$y(n)=\sum_{k=0}^{\infty}a^ku(n-k)=\sum_{k=0}^n a^k\overset{1}{\cancel{u(n-k)}}+\sum_{k=n+1}^{\infty}a^k\overset{0}{\cancel{u(n-k)}}\Rightarrow$$

$$y(n)=\sum_{k=0}^na^k\Rightarrow\frac{1-a^{n+1}}{1-a}$$

$$\bullet \sum_{n=0}^{N-1}a^n=\frac{1-a^N}{1-a}$$

$$9^0\,\mathrm{MAOHMA}$$

$$x(n)=\mid n\mid [u(n+4)-u(n-2)]$$



- Απευθείας Υπολογισμός Συνέλιξης

$$\bullet A = \sum_{k=-\infty}^{\infty} a \cdot u(k) = \sum_{k=-\infty}^{-1} a \cdot u(k) + \sum_{k=0}^{\infty} a \cdot u(k) = \sum_{k=-\infty}^{-1} 0 + \sum_{k=0}^{\infty} a \cdot 1 = \sum_{k=0}^{\infty} a$$

$$\bullet B = \sum_{k=-\infty}^{\infty} b \cdot u(n-2) = \sum_{k=-\infty}^1 b \cdot u(n-2) + \sum_{k=2}^{\infty} b \cdot u(n-2) = \sum_{k=2}^{\infty} b$$

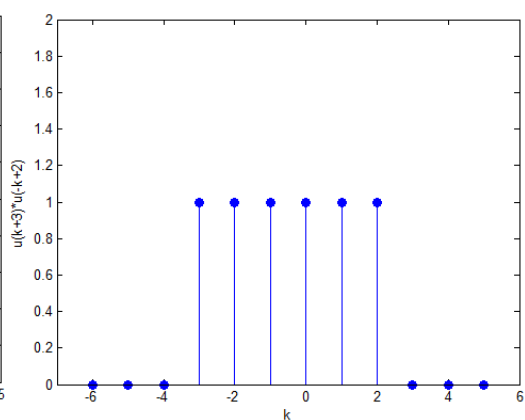
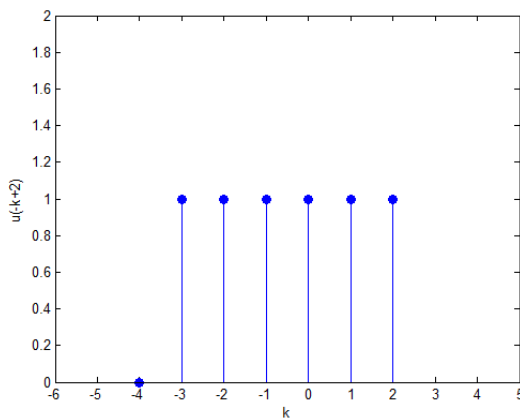
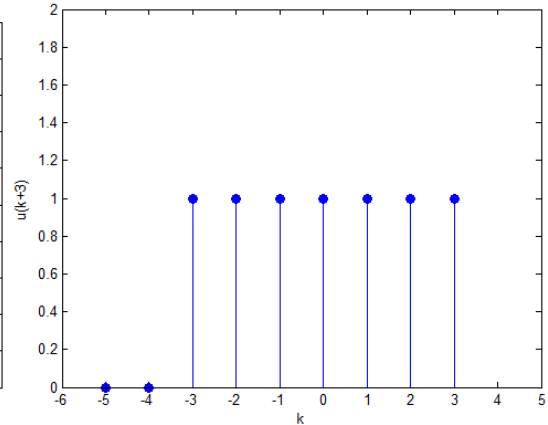
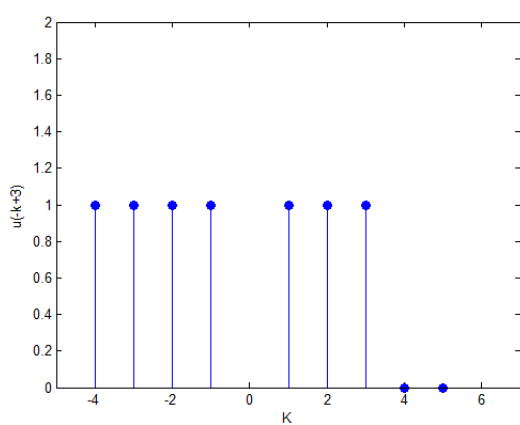
εξαρτάται από τον όρο του αθροίσματος που θα κόψουμε τα όρια.

$$\bullet C = \sum_{k=-\infty}^{\infty} c \cdot u(-k) = \sum_{k=-\infty}^0 c \cdot u(-k) + \sum_{k=1}^{\infty} c \cdot u(-k) = \sum_{k=-\infty}^0 c$$

$$\bullet D = \sum_{k=-\infty}^{\infty} d \cdot [u(k+3) - u(k-4)] = \sum_{k=-\infty}^{-4} d \cdot [u(k+3) - u(k-4)] + \sum_{k=-3}^3 d \cdot [u(k+3) - u(k-4)] + \sum_{k=4}^{\infty} d \cdot [u(k+3) - u(k-4)] = \sum_{k=-3}^3 d = 7d$$

$$\bullet M = \sum_{k=-\infty}^{\infty} m \cdot u(-k+3) = \sum_{k=-\infty}^3 m \cdot u(-k+3) + \sum_{k=4}^{\infty} m \cdot u(-k+3) = \sum_{k=-\infty}^3 m$$

$$\bullet N = \sum_{k=-\infty}^{\infty} n \cdot u(k+3) \cdot u(-k+2) = \sum_{k=-\infty}^{-4} n \cdot u(k+3) \cdot u(-k+2) + \sum_{k=-3}^2 n \cdot u(k+3) \cdot u(-k+2) + \sum_{k=3}^{\infty} n \cdot u(k+3) \cdot u(-k+2) = \sum_{k=-3}^2 n = 6n$$



$$\bullet L = \sum_{k=-\infty}^{\infty} l^k \cdot u(-k+2) = \sum_{k=-\infty}^2 l^k \cdot u(-k+2) + \sum_{k=3}^{\infty} l^k \cdot u(-k+2) = \sum_{k=-\infty}^2 l^k \xRightarrow[k=-k]{k=-n} L = \sum_{\substack{(-n)=2 \\ (-n)=-\infty}}^{(-n)=-2} l^{(-n)} \Rightarrow$$

$$\Rightarrow L = \sum_{n=-\infty}^{n=-2} \frac{1}{l^n}$$


$$x(n) = a^n \cdot u(n)$$

$$h(n) = u(n)$$

$$y(n) = x(n) * h(n) = \sum_{k=-\infty}^{\infty} x(k)h(n-k) = \sum_{k=-\infty}^{\infty} a^k u(k)u(n-k) = \sum_{k=-\infty}^{-1} a^k u(k)u(n-k) + \sum_{k=0}^{+\infty} a^k u(k)u(n-k) \Rightarrow$$

$$y(n) = \sum_{k=0}^{\infty} a^k u(n-k) = \sum_{k=0}^{\infty} a^k u(-k+n) = \sum_{k=0}^n a^k u(-k+n) + \sum_{k=n+1}^{\infty} a^k u(-k+n) \Rightarrow$$

$$y(n) = \sum_{k=0}^n a^k = \frac{1-a^{n+1}}{1-a}$$



$$n=N-1 \rightarrow N=n+1$$

$$\sum_{n=0}^{N-1} a^n = \frac{1-a^N}{1-a} \quad \text{για } n \geq 0$$

$$\text{για } n < 0 \rightarrow y(n) = 0$$

$$y(n) = \begin{cases} \frac{1-a^{n+1}}{1-a}, & \text{για } n \geq 0 \\ 0, & \text{για } n < 0 \end{cases} \quad \text{ή} \quad y(n) = \frac{1-a^{n+1}}{1-a} \cdot u(n)$$

ΣΕΛΙΔΑ 34 – ΣΧΗΜΑ ΚΑΤΩ-ΚΑΤΩ

Συνέλιξη με τον εαυτό του να βρω την πρώτη μη μηδενική τιμή και την τελευταία.

	x(-6)	...	x(24)	
		...		
x(24).....x(-5)	x(-6)			y(-12)=x(-6)·x(-6)
				y(48)=x(24)·x(24)
			x(24)	x(23)...x(-6)

$$\text{άρα } y(-12) = x(-6)^2 = 3^2 = 9$$

$$y(48) = x(24)^2 = (-4)^2 = 16$$

10^ο ΜΑΘΗΜΑ

$$x(n) = 0.9^n u(n)$$

$$h(n) = n \cdot u(n)$$

$$y(n) = x(n) * h(n) = \sum_{k=-\infty}^{+\infty} x(k) \cdot h(n-k) = \sum_{k=-\infty}^{+\infty} 0.9^k u(k) \cdot [(n-k) \cdot u(n-k)]$$

$$\Rightarrow y(n) = \sum_{k=-\infty}^{-1} 0.9^k u(k) \cdot [(n-k) \cdot u(n-k)] + \sum_{k=0}^{+\infty} 0.9^k u(k) \cdot [(n-k) \cdot u(n-k)]$$

$$\Rightarrow y(n) = \sum_{k=0}^{+\infty} 0.9^k (n-k) \cdot u(n-k)$$

$$u(n-k) = \begin{cases} 1, n \geq k \\ 0, n < k \end{cases}$$

$$- \text{για } n < 0 \Rightarrow u(n-k) = 0 \Rightarrow y(n) = 0$$

$$- \text{για } n \geq 0 \Rightarrow \sum_{k=0}^n 0.9^k (n-k) u(n-k) + \sum_{k=n+1}^{\infty} 0.9^k (n-k) u(n-k) \Rightarrow$$

Δυναμοσειρές

$$\Rightarrow y(n) = \sum_{k=0}^n 0.9^k (n-k)$$

$$\Rightarrow y(n) = \sum_{k=0}^n 0.9^k n - \sum_{k=0}^n 0.9^k k$$

$$\Rightarrow y(n) = n \sum_{k=0}^n 0.9^k - \sum_{k=0}^n 0.9^k k$$

$$\Rightarrow y(n) = n \frac{1-0.9^{(n+1)}}{1-0.9} - \frac{((n+1)-1) \cdot 0.9^{(n+1)+1} - (n+1) \cdot 0.9^{(n+1)} + 0.9}{(1+0.9)^2}$$

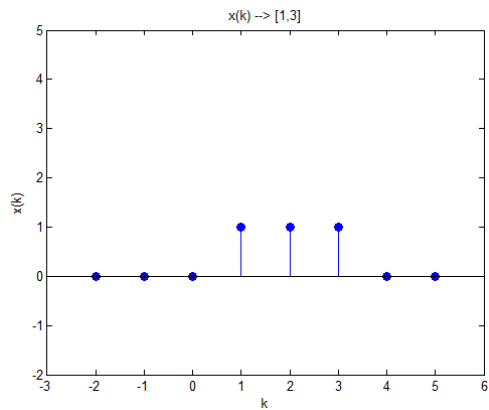
$$\Rightarrow y(n) = n \frac{1-0.9^{(n+1)}}{0.1} - \frac{n \cdot 0.9^{(n+2)} - (n+1) \cdot 0.9^{(n+1)} + 0.9}{0.01}, \text{ για } n \geq 0$$

$$y(n) = \left(n \frac{1-0.9^{(n+1)}}{0.1} - \frac{n \cdot 0.9^{(n+2)} - (n+1) \cdot 0.9^{(n+1)} + 0.9}{0.01} \right) \cdot u(n)$$

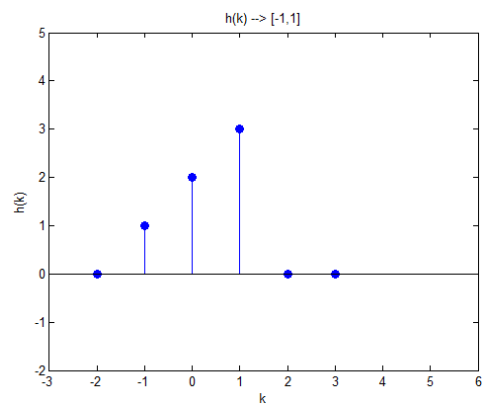
- Συνέλιξη με γραφική Προσέγγιση

$$y(n) = x(n) * h(n)$$

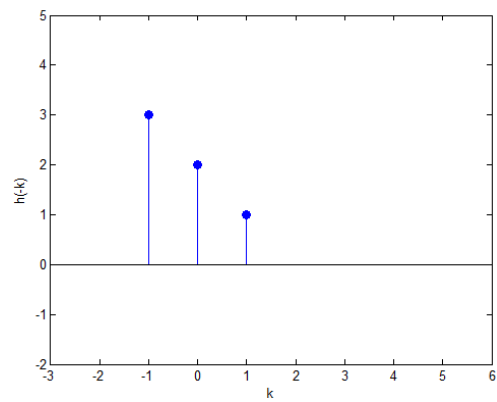
$$x(k) \rightarrow [1, 3]$$



$$y(0) = x(0) * h(0) = \sum_{k=-\infty}^{\infty} x(k)h(0-k) = \sum_{k=-\infty}^{\infty} x(k)h(-k) = \dots + 0 + x(1)h(-1) + 0 + \dots = 1$$



Γιατί αν δούμε το σχήμα, μόνο για την τιμή 1 δεν έχει μηδενική τιμή ο πολ/σμος του (1) με το (2).

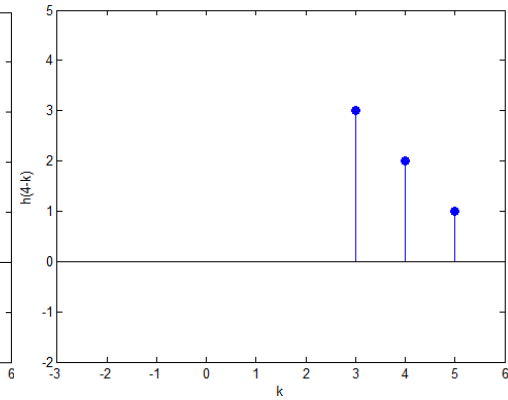
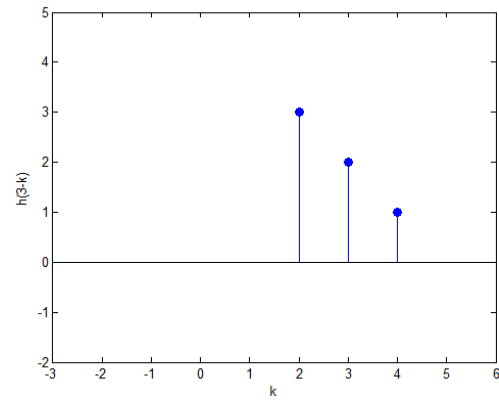
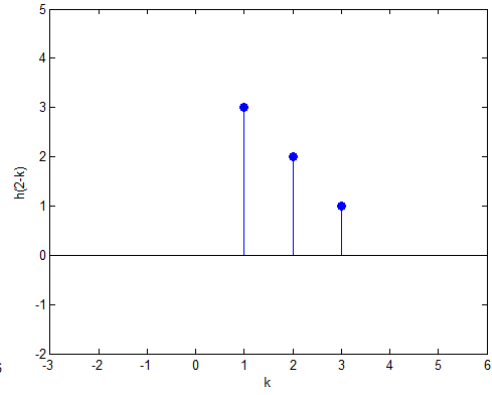
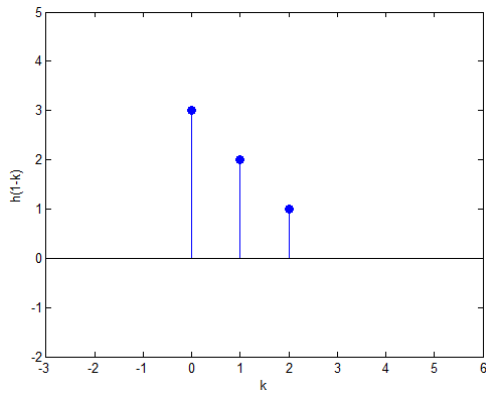


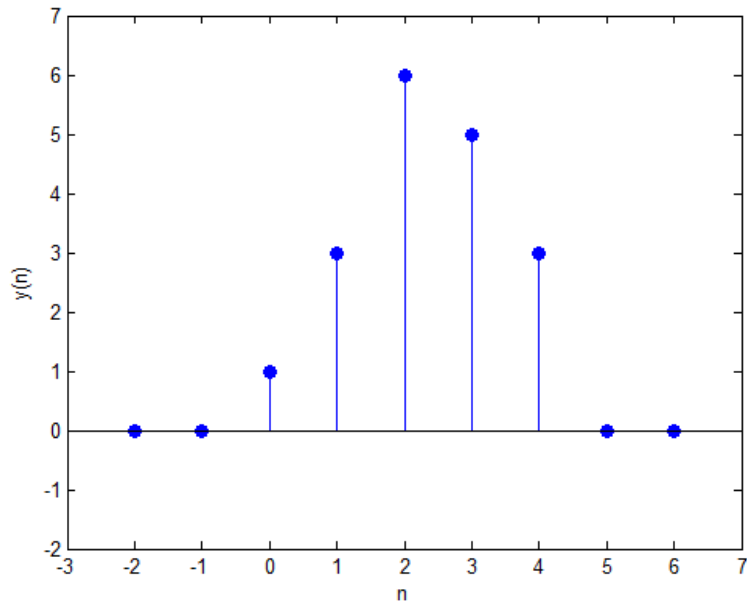
$$y(1) = x(1) * h(1) = \sum_{k=-\infty}^{\infty} x(k)h(1-k) \Rightarrow y(1) = 1 \cdot 2 + 1 \cdot 1 = 2 + 1 = 3$$

$$y(2) = \sum_{k=-\infty}^{\infty} x(k)h(2-k) = 1 \cdot 3 + 1 \cdot 2 + 1 \cdot 1 = 6$$

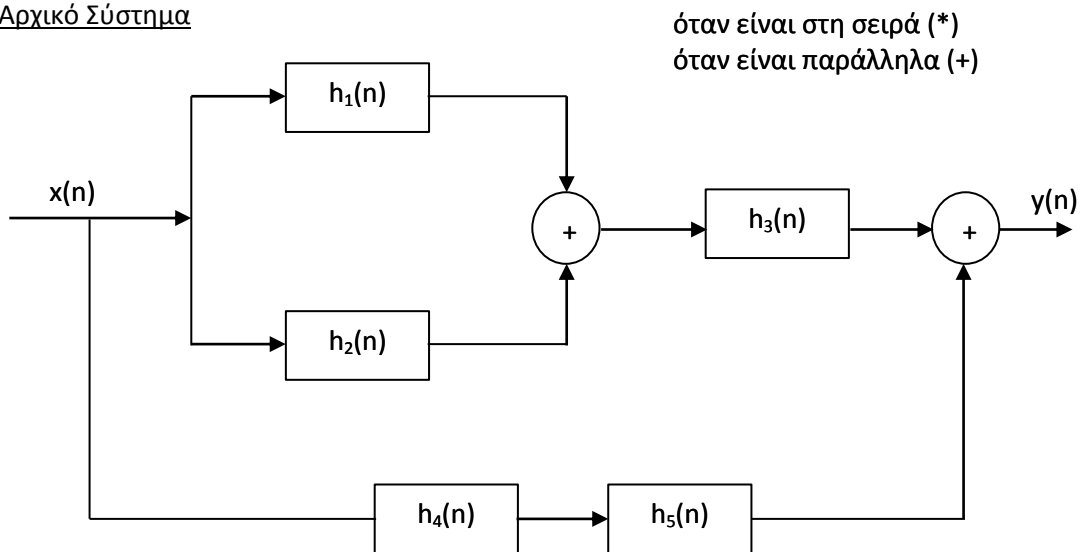
$$y(3) = \sum_{k=-\infty}^{\infty} x(k)h(3-k) = 1 \cdot 3 + 1 \cdot 2 = 5$$

$$y(4) = \sum_{k=-\infty}^{\infty} x(k)h(4-k) = 1 \cdot 3 = 3$$



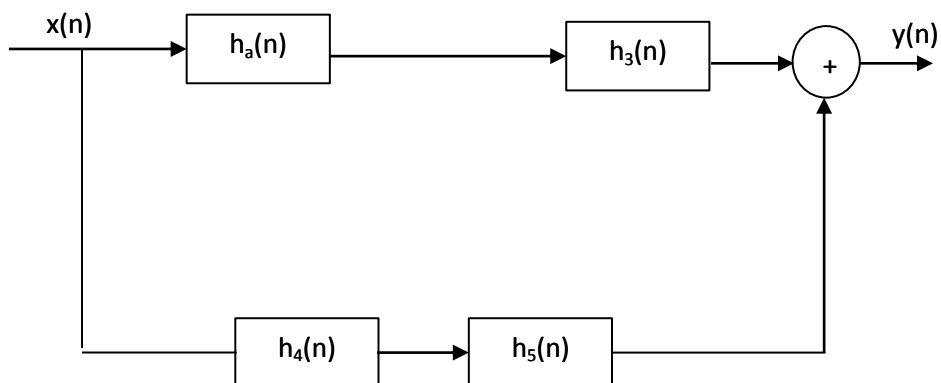


- Αρχικό Σύστημα



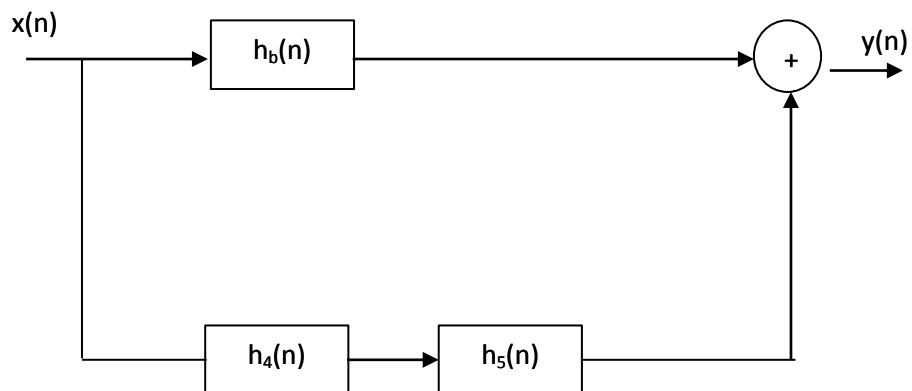
Βήμα 1

$$h_a(n) = h_1(n) + h_2(n)$$



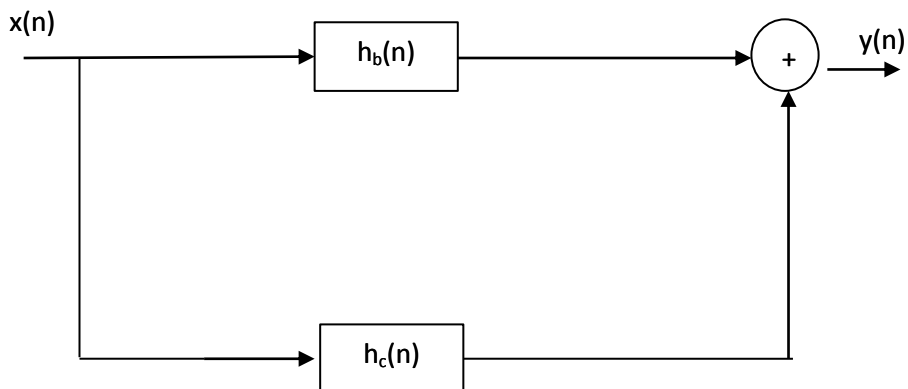
Βήμα 2

$$h_b(n) = h_a(n) * h_3(n) = (h_1(n) + h_2(n)) * h_3(n)$$



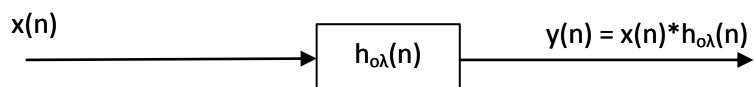
Βήμα 3

$$h_c(n) = h_4(n) * h_5(n)$$



Βήμα 4

$$h_{o\lambda}(n) = h_b(n) + h_c(n)$$



$$h_a(n) = h_1(n) + h_2(n)$$

$$h_b(n) = h_a(n) * h_3(n)$$

$$h_c(n) = h_4(n) * h_5(n)$$

$$h_{oa}(n) = h_b(n) + h_c(n) = h_a(n) * h_3(n) + h_4(n) * h_5(n) \Rightarrow$$

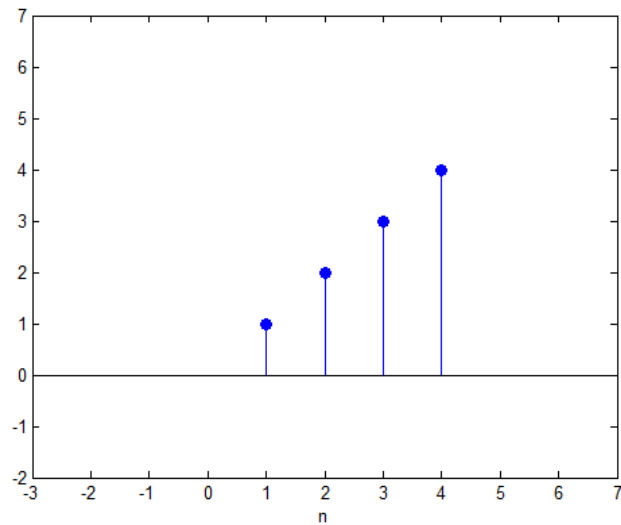
$$h_{oa}(n) = [h_1(n) + h_2(n)] * h_3(n) + h_4(n) * h_5(n)$$

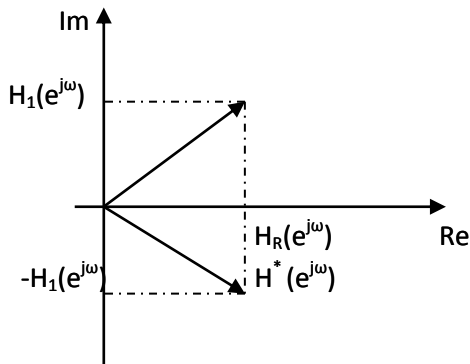
Εξίσωση Διαφορών

$$y(n) = \sum_{k=0}^q b(k) \cdot x(n-k) - \sum_{k=1}^p a(k) \cdot y(n-k)$$

- αναδρομική αν $a(k) \neq 0$
- μη αναδρομική αν όλοι οι όροι $a(k) = 0$

- $h(n) = a^n u(n)$





$$H(e^{j\omega}) = H_R(e^{j\omega}) + jH_I(e^{j\omega}) = |H(e^{j\omega})| \cdot e^{j\varphi}$$

$$\tan(\varphi) = \frac{H_I(e^{j\omega})}{H_R(e^{j\omega})} \Rightarrow \varphi = \tan^{-1} \left(\frac{H_I(e^{j\omega})}{H_R(e^{j\omega})} \right)$$

$$|H(e^{j\omega})|^2 = H(e^{j\omega}) \cdot H^*(e^{j\omega}) = H_R^2(e^{j\omega}) + H_I^2(e^{j\omega})$$

$$H^*(e^{j\omega}) = H_R(e^{j\omega}) - jH_I(e^{j\omega})$$

➤ Απόκριση Συχνότητας → περιοδική συνάρτηση με περίοδο 2π

Άσκηση: Να βρεθεί η απόκριση συχνότητας του $h(n) = \delta(n) + 6\delta(n-1) + 3\delta(n-2)$.

$$H(e^{j\omega}) = \sum_{n=-\infty}^{\infty} h(n) \cdot e^{-jn\omega} = \sum_{n=-\infty}^{\infty} [\delta(n) + 6\delta(n-1) + 3\delta(n-2)] \cdot e^{-jn\omega} \Rightarrow$$

$$H(e^{j\omega}) = \sum_{n=-\infty}^{\infty} \delta(n) \cdot e^{-jn\omega} + 6 \sum_{n=-\infty}^{\infty} \delta(n-1) \cdot e^{-jn\omega} + 3 \sum_{n=-\infty}^{\infty} \delta(n-2) \cdot e^{-jn\omega} \Rightarrow$$

$$H(e^{j\omega}) = \delta(0)e^{-j0\omega} + 6\delta(1-1)e^{-j1\omega} + 3\delta(2-2)e^{-j2\omega} \Rightarrow$$

$$H(e^{j\omega}) = 1 \cdot e^0 + 6 \cdot 1 \cdot e^{-j\omega} + 3 \cdot 1 \cdot e^{-j2\omega} = 1 + 6e^{-j\omega} + 3e^{-j2\omega}$$

Άσκηση




$$h(n) = a^n u(n), \quad |a| < 1$$

$$H(e^{j\omega}) = \sum_{n=-\infty}^{\infty} h(n) e^{-jn\omega} = \sum_{n=-\infty}^{\infty} a^n u(n) e^{-jn\omega} = \sum_{n=-\infty}^{-1} a^n u(n) e^{-jn\omega} + \sum_{n=0}^{\infty} a^n u(n) e^{-jn\omega} \Rightarrow$$

$$H(e^{j\omega}) = \sum_{n=0}^{\infty} a^n e^{-jn\omega} = \sum_{n=0}^{\infty} (a e^{-j\omega})^n = \frac{1}{1 - a e^{-j\omega}}$$

Άσκηση

$$h(n) = \delta(n) - a\delta(n-1)$$



$$H(e^{j\omega}) = \sum_{n=-\infty}^{\infty} h(n) e^{-jn\omega} = \sum_{n=-\infty}^{\infty} (\delta(n) - a\delta(n-1)) e^{-jn\omega} \Rightarrow$$

$$H(e^{j\omega}) = \sum_{n=-\infty}^{\infty} \delta(n) e^{-jn\omega} - a \sum_{n=0}^{\infty} \delta(n-1) e^{-jn\omega} =$$

$$= \delta(0) e^{-j0\omega} - a \delta(1-1) e^{-j1\omega} = 1 - a e^{-j\omega} \Rightarrow$$

$$H(e^{j\omega}) \stackrel{\text{Euler}}{=} 1 - a(\cos(\omega) - j\sin(\omega)) = \underbrace{1 - a\cos(\omega)}_{\text{Re}\{H(e^{j\omega})\}} + \underbrace{ja\sin(\omega)}_{\text{Im}\{H(e^{j\omega})\}}$$

$$H_{\text{Re}}(e^{j\omega}) = 1 - a\cos(\omega)$$

$$H_{\text{Im}}(e^{j\omega}) = a\sin(\omega)$$


$$|H(e^{j\omega})|^2 = H(e^{j\omega}) \cdot H^*(e^{j\omega}) = (H_{\text{Re}}(e^{j\omega}) + jH_{\text{Im}}(e^{j\omega})) \cdot (H_{\text{Re}}(e^{j\omega}) - jH_{\text{Im}}(e^{j\omega})) =$$

$$= (1 - a\cos(\omega) + ja\sin(\omega)) \cdot (1 - a\cos(\omega) - ja\sin(\omega)) \Rightarrow$$

$$|H(e^{j\omega})|^2 = 1 - 2a\cos(\omega) + a^2 \rightarrow \pi\lambda\acute{\alpha}\tau\omicron\varsigma$$

$$\varphi(\omega) = \tan^{-1} \left(\frac{H_{\text{Im}}(e^{j\omega})}{H_{\text{Re}}(e^{j\omega})} \right) = \tan^{-1} \left(\frac{a\sin(\omega)}{1 - a\cos(\omega)} \right) \rightarrow \varphi\acute{\alpha}\sigma\eta$$

Άσκηση



$$h(n) = \left(\frac{1}{3}\right)^{n+2} \cdot u(n-2)$$

$$\begin{aligned} H(e^{j\omega}) &= \sum_{n=-\infty}^{\infty} h(n) \cdot e^{-jn\omega} = \sum_{n=-\infty}^{\infty} \left(\frac{1}{3}\right)^{n+2} \cdot u(n-2) \cdot e^{-jn\omega} = \\ &= \sum_{n=-\infty}^1 \left(\frac{1}{3}\right)^{n+2} \cdot u(n-2) \cdot e^{-jn\omega} + \sum_{n=2}^{\infty} \left(\frac{1}{3}\right)^{n+2} \cdot u(n-2) \cdot e^{-jn\omega} \Rightarrow \end{aligned}$$

$$H(e^{j\omega}) = \sum_{n=2}^{\infty} \left(\frac{1}{3}\right)^{n+2} \cdot e^{-jn\omega} \xrightarrow[k=n+2]{k=n-2} H(e^{j\omega}) = \sum_{n=0}^{\infty} \left(\frac{1}{3}\right)^{(k+2)+2} \cdot e^{-j(k+2)\omega} \Rightarrow$$

$$H(e^{j\omega}) = \sum_{n=0}^{\infty} \left(\frac{1}{3}\right)^{k+4} \cdot e^{-j\omega(k+2)} \Rightarrow$$

$$\begin{aligned} H(e^{j\omega}) &= \sum_{n=0}^{\infty} \left(\frac{1}{3}\right)^4 \cdot \left(\frac{1}{3}\right)^k \cdot e^{-j\omega 2} \cdot e^{-j\omega k} = \left(\frac{1}{3}\right)^4 \cdot e^{-j\omega 2} \cdot \sum_{n=0}^{\infty} \left(\frac{1}{3}\right)^k \cdot e^{-j\omega k} = \\ &= \left(\frac{1}{3}\right)^4 \cdot e^{-j\omega 2} \cdot \sum_{n=0}^{\infty} \left(\frac{1}{3} \cdot e^{-j\omega k}\right)^k = \left(\frac{1}{3}\right)^4 \cdot e^{-j\omega 2} \cdot \frac{1}{1 - \frac{1}{3} e^{-j\omega}} \end{aligned}$$

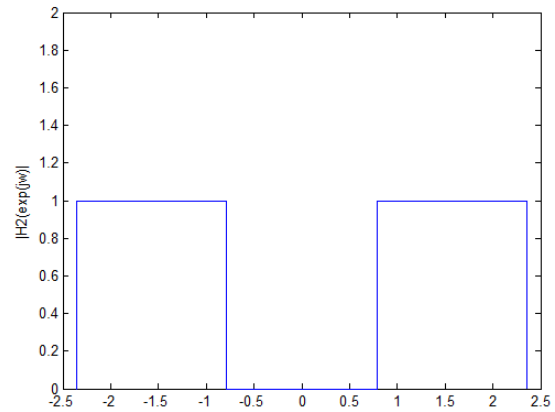
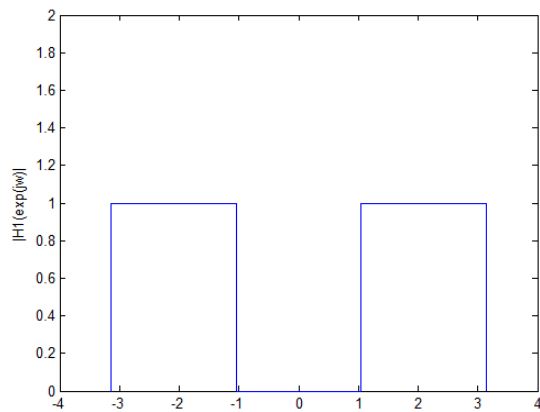
Κάθε σύστημα είναι και ένα φίλτρο!

- Ολοπερατό: $|H(e^{j\omega})| = c$
- Όταν περνάμε από το πεδίο του χρόνου στο πεδίο της συχνότητας, η συνέλιξη γίνεται πολλαπλασιασμός.

Άσκηση:

$$H_1(e^{j\omega}): \text{Z.}\Delta. \pi/3 \leq |\omega| \leq \pi$$

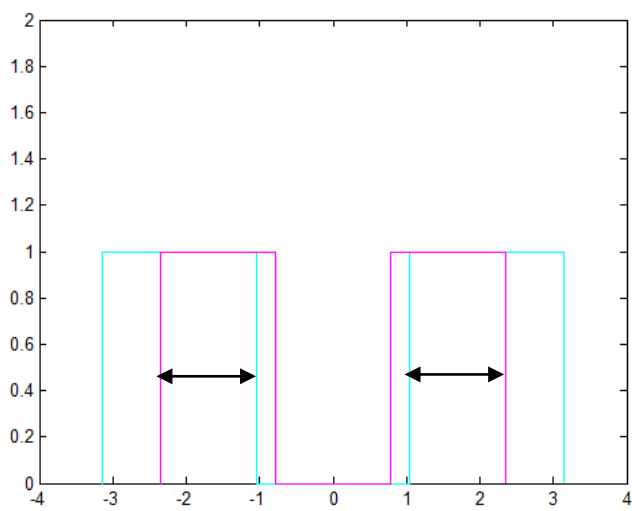
$$H_2(e^{j\omega}): \text{Z.}\Delta. \pi/4 \leq |\omega| \leq 3\pi/4$$



Σε σειρά:

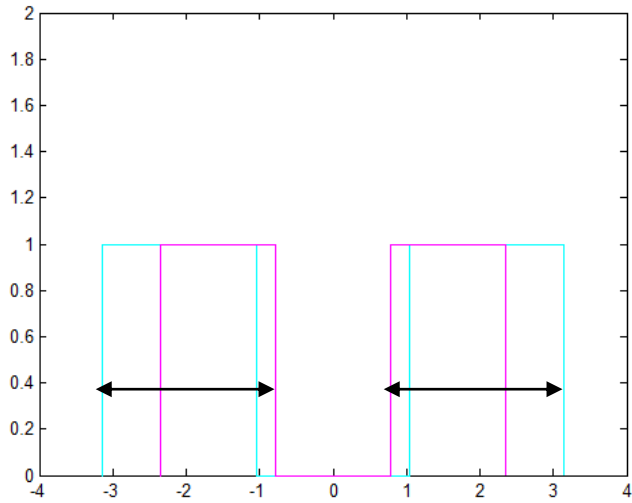
$$H_{\text{σειρά}}(e^{j\omega}) = H_1(e^{j\omega}) \cdot H_2(e^{j\omega})$$

$$\text{Ζ.Δ. } (\pi/3 \leq |\omega| \leq \pi) \cap (\pi/4 \leq |\omega| \leq 3\pi/4)$$



Παράλληλα:

$$\text{Ζ.Δ. } (\pi/3 \leq |\omega| \leq \pi) \cup (\pi/4 \leq |\omega| \leq 3\pi/4)$$



Άσκηση:

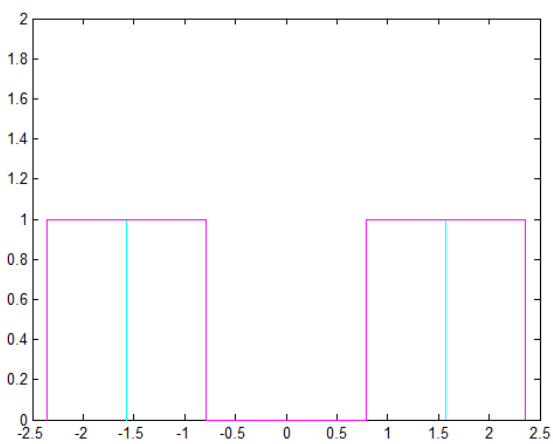
$$H_1(e^{j\omega}): \text{Z.}\Delta. \pi/4 \leq |\omega| \leq 5\pi/8$$

$$H_2(e^{j\omega}): \text{Z.}\Delta. 3\pi/8 \leq |\omega| \leq 3\pi/4$$

Σειρά:

$$H_{\Sigma}(e^{j\omega}) = H_1(e^{j\omega}) \cdot H_2(e^{j\omega})$$

$$\text{Z.}\Delta. (3\pi/8 \leq |\omega| \leq 5\pi/8)$$



Παράλληλα:

$$H_{\Pi\alpha\rho}(e^{j\omega}) = H_1(e^{j\omega}) + H_2(e^{j\omega})$$

$$\text{Z.}\Delta. (\pi/4 \leq |\omega| \leq 3\pi/4)$$

Άσκηση:

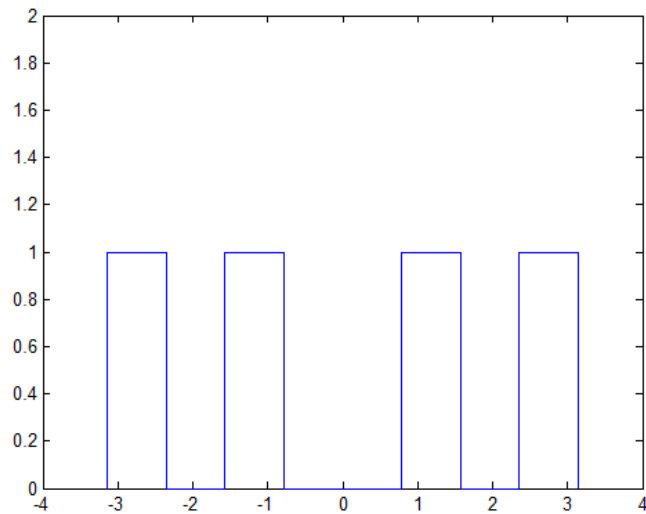
$$H_1(e^{j\omega}) : \text{Z.}\Delta. \pi/4 \leq |\omega| \leq \pi/2$$

$$H_2(e^{j\omega}) : \text{Z.}\Delta. 3\pi/4 \leq |\omega| \leq \pi$$

Σειρά:

$$H_{\Sigma}(e^{j\omega}) = H_1(e^{j\omega}) \cdot H_2(e^{j\omega})$$

$$\text{Z.}\Delta. \rightarrow 0$$

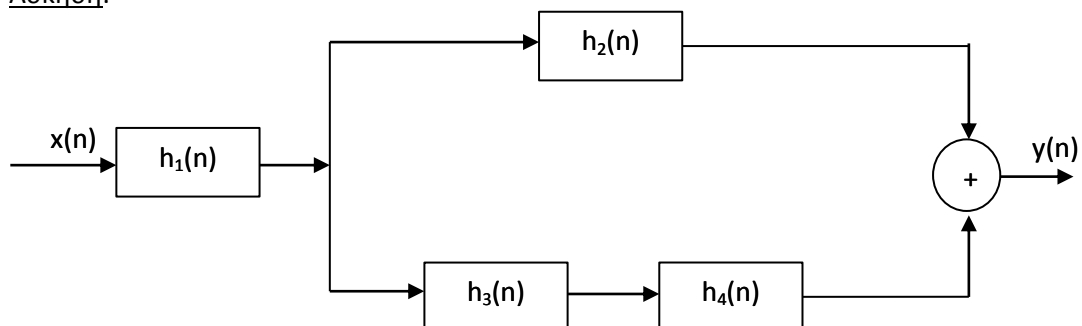


Παράλληλα:

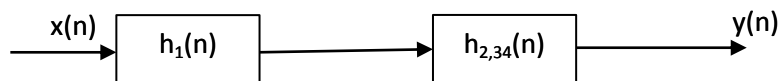
$$H_{\Pi\alpha\rho}(e^{j\omega}) = H_1(e^{j\omega}) + H_2(e^{j\omega})$$

$$\text{Z.}\Delta. (\pi/4 \leq |\omega| \leq \pi/2) \cup (3\pi/4 \leq |\omega| \leq \pi)$$

Άσκηση:



$$H_{34}(e^{j\omega}) = H_3(e^{j\omega}) \cdot H_4(e^{j\omega})$$



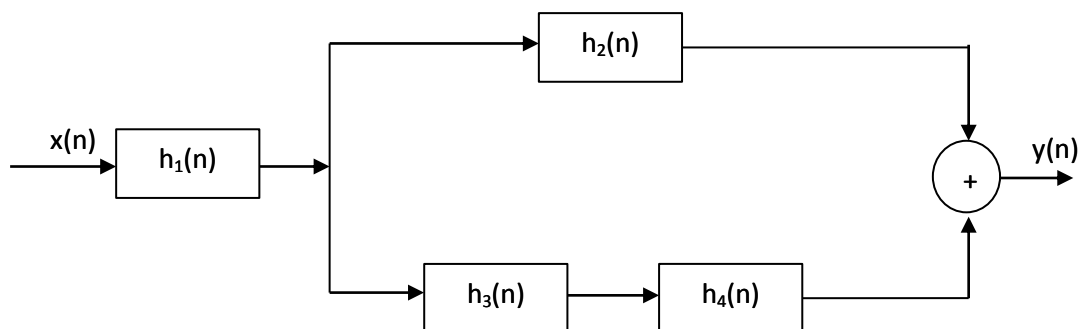
$$H_{2,34}(e^{j\omega}) = H_2(e^{j\omega}) + H_{34}(e^{j\omega})$$

$$H_{o\lambda}(e^{j\omega}) = H_1(e^{j\omega}) \cdot H_{2,34}(e^{j\omega}) \Rightarrow$$

$$H_{o\lambda}(e^{j\omega}) = H_1(e^{j\omega}) \cdot [H_2(e^{j\omega}) + H_{34}(e^{j\omega})] \Rightarrow$$

$$H_{o\lambda}(e^{j\omega}) = H_1(e^{j\omega}) \cdot [H_2(e^{j\omega}) + H_3(e^{j\omega}) \cdot H_4(e^{j\omega})]$$

12° MAOHMA



$$h_1(n) = \delta(n) + 2\delta(n-2) + \delta(n-4)$$

$$h_2(n) = h_3(n) = (0.2)^n \cdot u(n)$$

$$h_4(n) = \delta(n-2)$$

$$\triangleright H_{\text{ολ}}(e^{j\omega}) = H_1(e^{j\omega}) \cdot [H_2(e^{j\omega}) + H_3(e^{j\omega}) \cdot H_4(e^{j\omega})]$$

$$\square H_1(e^{j\omega}) = \sum_{n=-\infty}^{\infty} h_1(n)e^{-jn\omega} = \sum_{n=-\infty}^{\infty} (\delta(n) + 2\delta(n-2) + \delta(n-4))e^{-jn\omega} =$$

$$= \sum_{n=-\infty}^{\infty} \delta(n)e^{-jn\omega} + 2 \sum_{n=-\infty}^{\infty} \delta(n-2)e^{-jn\omega} + \sum_{n=-\infty}^{\infty} \delta(n-4)e^{-jn\omega} \Rightarrow$$

$$H_1(e^{j\omega}) = \delta(0)e^{-j0\omega} + 2\delta(2-2)e^{-j2\omega} + \delta(4-4)e^{-j4\omega} \Rightarrow$$

$$H_1(e^{j\omega}) = 1 + 2e^{-j2\omega} + e^{-j4\omega}$$

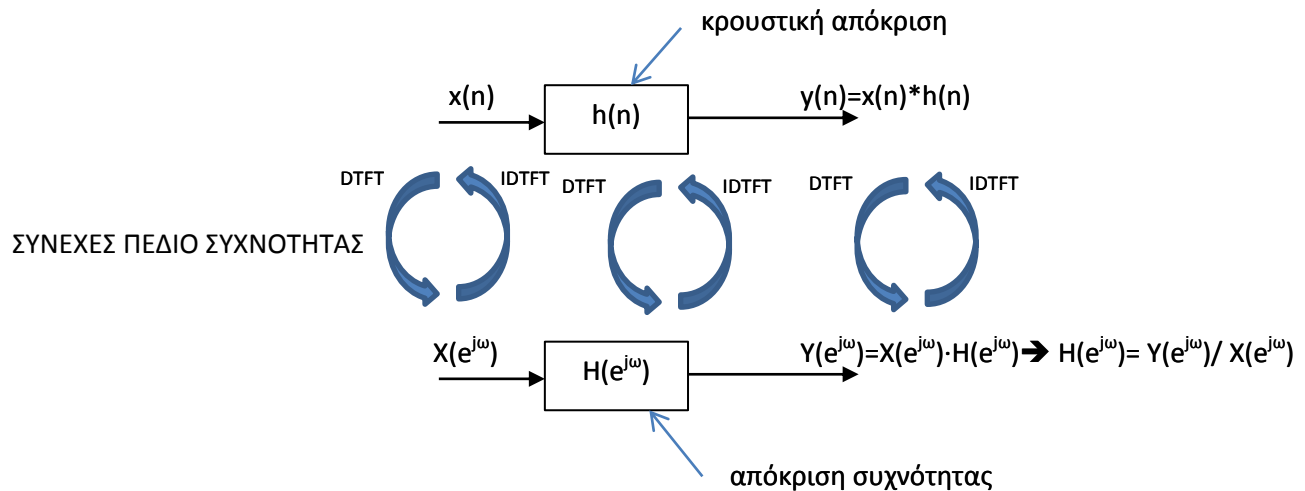
$$\square H_2(e^{j\omega}) = \sum_{n=-\infty}^{\infty} h_2(n)e^{-jn\omega} = \sum_{n=-\infty}^{\infty} (0.2)^n \cdot u(n)e^{-jn\omega} =$$

$$= \sum_{n=-\infty}^{-1} (0.2)^n \cdot u(n)e^{-jn\omega} + \sum_{n=0}^{\infty} (0.2)^n \cdot u(n)e^{-jn\omega} \Rightarrow$$

$$H_2(e^{j\omega}) = \sum_{n=0}^{\infty} 0.2^n \cdot e^{-jn\omega} = \sum_{n=0}^{\infty} (0.2 \cdot e^{-j\omega})^n = \frac{1}{1-0.2e^{-j\omega}} = H_3(e^{j\omega})$$

$$\square H_4(e^{j\omega}) = \sum_{n=-\infty}^{\infty} h_4(n)e^{-jn\omega} = \sum_{n=-\infty}^{\infty} \delta(n-2)e^{-jn\omega} = e^{-j2\omega}$$

ΔΙΑΚΡΙΤΟ ΠΕΔΙΟ ΧΡΟΝΟΥ



Άσκηση:

$$x_1(n) = a^n \cdot u(n) \quad |a| < 1$$

$$X_1(e^{j\omega}) = \sum_{n=-\infty}^{\infty} x_1(n)e^{-jn\omega} = \sum_{n=-\infty}^{\infty} a^n \cdot u(n)e^{-jn\omega} = \sum_{n=-\infty}^{-1} a^n \cdot u(n)e^{-jn\omega} + \sum_{n=0}^{\infty} a^n \cdot u(n)e^{-jn\omega} \Rightarrow$$

$$X_1(e^{j\omega}) = \sum_{n=0}^{\infty} a^n e^{-jn\omega} = \sum_{n=0}^{\infty} (ae^{-j\omega})^n = \frac{1}{1 - ae^{-j\omega}}$$

Άσκηση:

Από το πεδίο συχνότητας \rightarrow στο πεδίο του χρόνου

$$X_1(e^{j\omega}) = \delta(\omega - \omega_0)$$

$$x_1(n) = \frac{1}{2\pi} \int_{-\infty}^{\infty} X_1(e^{j\omega}) \cdot e^{jn\omega} d\omega = \frac{1}{2\pi} \int_{-\infty}^{\infty} \delta(\omega - \omega_0) \cdot e^{jn\omega} d\omega = \frac{1}{2\pi} e^{jn\omega_0}$$

Άσκηση:

$$X_2(e^{j\omega}) = \pi\delta(\omega - \omega_0) + \pi\delta(\omega + \omega_0)$$

$$x_2(n) = \frac{1}{2\pi} \int_{-\infty}^{\infty} X_2(e^{j\omega}) \cdot e^{jn\omega} d\omega = \frac{1}{2\pi} \int_{-\infty}^{\infty} (\pi\delta(\omega - \omega_0) + \pi\delta(\omega + \omega_0)) \cdot e^{jn\omega} d\omega \Rightarrow$$

$$x_2(n) = \frac{1}{2\pi} \pi \int_{-\infty}^{\infty} \delta(\omega - \omega_0) \cdot e^{jn\omega} d\omega + \frac{1}{2\pi} \pi \int_{-\infty}^{\infty} \delta(\omega + \omega_0) \cdot e^{jn\omega} d\omega \Rightarrow$$

$$x_2(n) = \frac{1}{2} \int_{-\infty}^{\infty} \delta(\omega - \omega_0) \cdot e^{jn\omega} d\omega + \frac{1}{2} \int_{-\infty}^{\infty} \delta(\omega + \omega_0) \cdot e^{jn\omega} d\omega \Rightarrow$$

$$x_2(n) = \frac{1}{2} e^{jn\omega_0} + \frac{1}{2} e^{jn(-\omega_0)}$$

Άσκηση:

$$x(n) = \left(\frac{1}{4}\right)^{|n|} = \begin{cases} \left(\frac{1}{4}\right)^n, & n \geq 0 \\ \left(\frac{1}{4}\right)^{-n}, & n < 0 \end{cases}$$

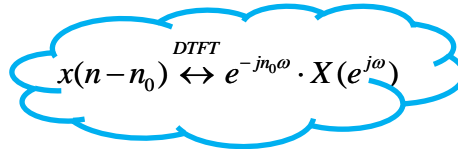
$$x(n) = \left(\frac{1}{4}\right)^n \cdot u(n) + \left(\frac{1}{4}\right)^{-n} \cdot u(-n) - \delta(n)$$

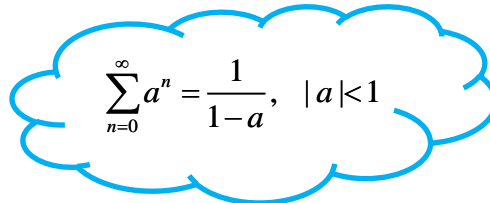
$$X(e^{j\omega}) = \frac{1}{1 - \frac{1}{4}e^{-j\omega}} + \frac{1}{1 - \frac{1}{4}e^{j\omega}} - 1 = \dots = \frac{\frac{15}{16}}{\left(1 - \frac{1}{4}e^{-j\omega}\right)\left(1 - \frac{1}{4}e^{j\omega}\right)}$$

Άσκηση:

$$x(n) = 0.7^{(n-2)} \cdot u(n-2)$$

$$X(e^{j\omega}) = \frac{1}{1 - 0.7e^{-j\omega}} \cdot e^{-j2\omega}$$


$$x(n - n_0) \xleftrightarrow{DTFT} e^{-jn_0\omega} \cdot X(e^{j\omega})$$


$$\sum_{n=0}^{\infty} a^n = \frac{1}{1-a}, \quad |a| < 1$$

Άσκηση:

$$x(n) = \left(\frac{1}{2}\right)^n \cdot u(n+3)$$

$$X(e^{j\omega}) = \sum_{n=-\infty}^{\infty} x(n) \cdot e^{-jn\omega} = \sum_{n=-\infty}^{\infty} \left(\frac{1}{2}\right)^n \cdot u(n+3) \cdot e^{-jn\omega} \Rightarrow$$

$$X(e^{j\omega}) = \sum_{n=-\infty}^{-4} \left(\frac{1}{2}\right)^n \cdot u(n+3) \cdot e^{-jn\omega} + \sum_{n=-3}^{\infty} \left(\frac{1}{2}\right)^n \cdot u(n+3) \cdot e^{-jn\omega} =$$

$$= \sum_{n=-3}^{\infty} \left(\frac{1}{2}\right)^n \cdot e^{-jn\omega} \Rightarrow$$

$$X(e^{j\omega}) = \left(\frac{1}{2}\right)^{-3} e^{-j(-3)\omega} + \left(\frac{1}{2}\right)^{-2} e^{-j(-2)\omega} + \left(\frac{1}{2}\right)^{-1} e^{-j(-1)\omega} + \sum_{n=0}^{\infty} \left(\frac{1}{2}\right)^n \cdot e^{-jn\omega} =$$

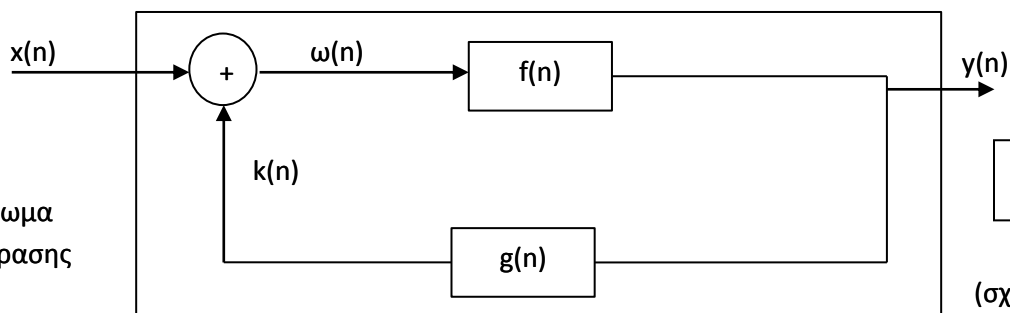
$$= \left(\frac{1}{2}\right)^{-3} e^{3j\omega} + \left(\frac{1}{2}\right)^{-2} e^{2j\omega} + \left(\frac{1}{2}\right)^{-1} e^{j\omega} + \frac{1}{1 - \frac{1}{2}e^{j\omega}}$$

$$\sum_{i=-3}^{\infty} = a_{-3} + a_{-2} + a_{-1} + \sum_{i=0}^{\infty} a_i$$

$$\sum_{i=2}^{\infty} = \sum_{i=0}^{\infty} a_i - (a_0 + a_1)$$

13° ΜΑΘΗΜΑ

Δικτύωμα
ανάδρασης

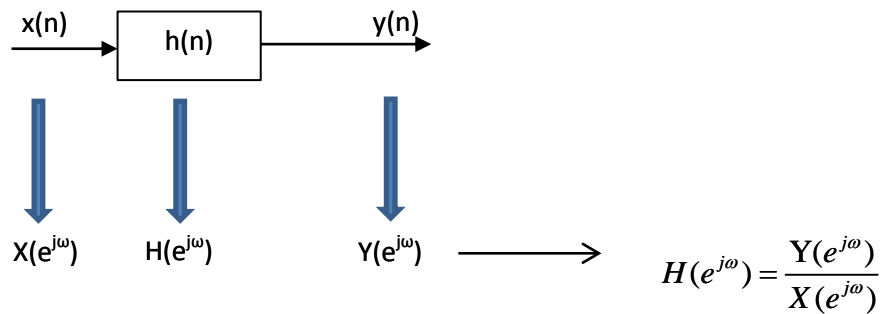


Δεν είναι παράλληλα!

(σχήμα α)

Όταν προκύψει το $y(n)$ θα μπει σαν είσοδο στο $g(n)$, στη συνέχεια θα προστεθεί με το $x(n)$ και μπαίνουν στο $f(n)$

➤ Απόκριση συστήματος στο δίκτυο ανάδρασης



$$(1) y(n) = \omega(n) * f(n)$$

$$(2) \omega(n) = x(n) + k(n)$$

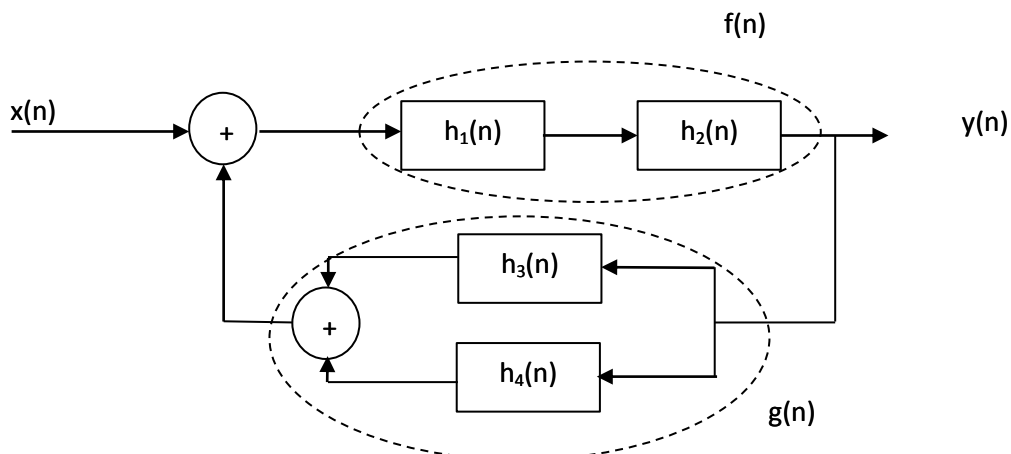
$$(3) k(n) = y(n) * g(n)$$

$$(2), (3) \rightarrow \omega(n) = x(n) + y(n) * g(n) \quad (4)$$

από το σχήμα α: $(1), (4) \rightarrow y(n) = (x(n) + y(n) * g(n)) * f(n) \Rightarrow$

$$\begin{aligned}
 y(n) &= x(n) * f(n) + y(n) * g(n) * f(n) \xRightarrow{DTFT} \\
 Y(e^{j\omega}) &= X(e^{j\omega}) \cdot F(e^{j\omega}) + Y(e^{j\omega}) \cdot G(e^{j\omega}) \cdot F(e^{j\omega}) \Rightarrow \\
 Y(e^{j\omega}) - Y(e^{j\omega}) \cdot G(e^{j\omega}) \cdot F(e^{j\omega}) &= X(e^{j\omega}) \cdot F(e^{j\omega}) \Rightarrow \\
 Y(e^{j\omega})(1 - G(e^{j\omega}) \cdot F(e^{j\omega})) &= X(e^{j\omega}) \cdot F(e^{j\omega}) \Rightarrow \\
 \frac{Y(e^{j\omega})}{X(e^{j\omega})} &= \frac{F(e^{j\omega})}{1 - G(e^{j\omega}) \cdot F(e^{j\omega})} = H(e^{j\omega})
 \end{aligned}$$

Άσκηση:



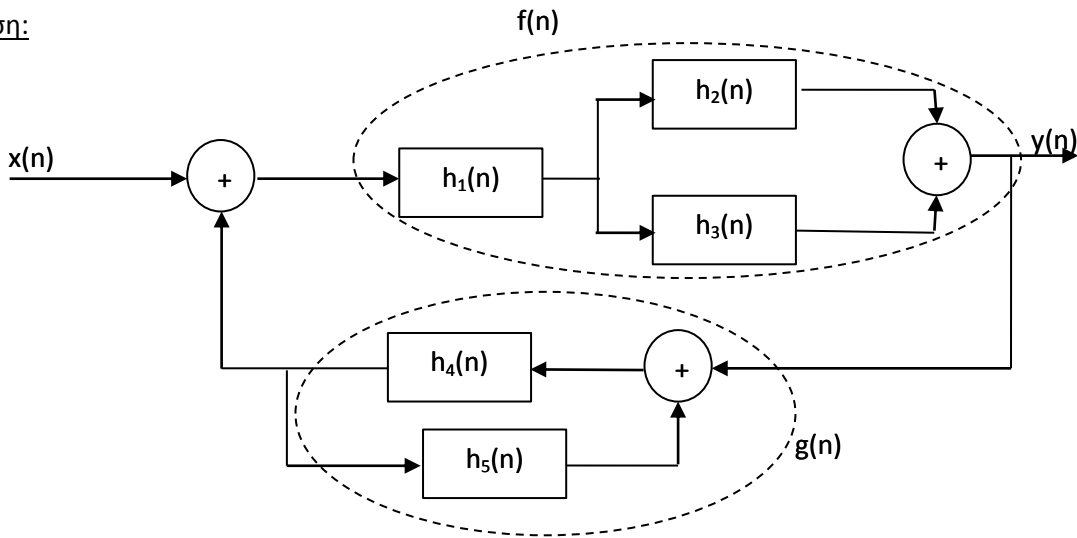
σύμφωνα με το προηγούμενο:

$$H(e^{j\omega}) = \frac{H_1(e^{j\omega}) \cdot H_2(e^{j\omega})}{1 - (H_3(e^{j\omega}) + H_4(e^{j\omega})) \cdot H_1(e^{j\omega}) \cdot H_2(e^{j\omega})}$$

$$f(n) = h_1(n) * h_2(n) \xrightarrow{DTFT} F(e^{j\omega}) = H_1(e^{j\omega}) \cdot H_2(e^{j\omega})$$

$$g(n) = h_3(n) + h_4(n) \xrightarrow{DTFT} G(e^{j\omega}) = H_3(e^{j\omega}) + H_4(e^{j\omega})$$

Άσκηση:



$$f(n) = h_1(n) * (h_2(n) + h_3(n)) \xrightarrow{DTFT} F(e^{j\omega}) = H_1(e^{j\omega}) \cdot (H_2(e^{j\omega}) + H_3(e^{j\omega}))$$

$$g(n) \rightarrow G(e^{j\omega}) = \frac{H_4(e^{j\omega})}{1 - H_4(e^{j\omega}) \cdot H_5(e^{j\omega})}$$

$$H(e^{j\omega}) = \frac{F(e^{j\omega})}{1 - G(e^{j\omega}) \cdot F(e^{j\omega})} = \frac{H_1(e^{j\omega}) \cdot (H_2(e^{j\omega}) + H_3(e^{j\omega}))}{1 - \frac{H_4(e^{j\omega})}{1 - H_4(e^{j\omega}) \cdot H_5(e^{j\omega})} \cdot H_1(e^{j\omega}) \cdot (H_2(e^{j\omega}) + H_3(e^{j\omega}))}$$

Άσκηση:

Γενική εξίσωση \rightarrow Απόκριση Συχνότητας

$$y(n) = 1.34y(n-1) - 0.9y(n-2) + x(n) - 1.41x(n-1) + x(n-2)$$



DTFT

$$Y(e^{j\omega}) = 1.34e^{-j(1)\omega}Y(e^{j\omega}) - 0.9e^{-j(2)\omega}Y(e^{j\omega}) + X(e^{j\omega}) - 1.41e^{-j(1)\omega}X(e^{j\omega}) + e^{-j(2)\omega}X(e^{j\omega}) \Rightarrow$$

$$Y(e^{j\omega}) - 1.34e^{-j\omega}Y(e^{j\omega}) + 0.9e^{-j2\omega}Y(e^{j\omega}) = X(e^{j\omega}) - 1.41e^{-j\omega}X(e^{j\omega}) + e^{-j2\omega}X(e^{j\omega}) \Rightarrow$$

$$Y(e^{j\omega})(1 - 1.34e^{-j\omega} + 0.9e^{-j2\omega}) = X(e^{j\omega})(1 - 1.41e^{-j\omega} + e^{-j2\omega}) \Rightarrow$$

$$\frac{Y(e^{j\omega})}{X(e^{j\omega})} = \frac{1 - 1.41e^{-j\omega} + e^{-j2\omega}}{1 - 1.34e^{-j\omega} + 0.9e^{-j2\omega}} = H(e^{j\omega})$$

Άσκηση:

Απόκριση Συχνότητας \rightarrow Γενική εξίσωση

$$H(e^{j\omega}) = \frac{Y(e^{j\omega})}{X(e^{j\omega})} = \frac{1 - 0.5e^{-j\omega} + e^{-3j\omega}}{1 + 0.5e^{-j\omega} + 0.75e^{-2j\omega}} \Rightarrow$$

$$X(e^{j\omega})(1 - 0.5e^{-j\omega} + e^{-3j\omega}) = Y(e^{j\omega})(1 + 0.5e^{-j\omega} + 0.75e^{-2j\omega}) \Rightarrow$$

$$X(e^{j\omega}) - 0.5e^{-j\omega}X(e^{j\omega}) + e^{-3j\omega}X(e^{j\omega}) = Y(e^{j\omega}) + 0.5e^{-j\omega}Y(e^{j\omega}) + 0.75e^{-2j\omega}Y(e^{j\omega}) \xRightarrow{IDTFT}$$

$$x(n) - 0.5x(n-1) + x(n-3) = y(n) + 0.5y(n-1) + 0.75y(n-2) \Rightarrow$$

$$y(n) = -0.5y(n-1) - 0.75y(n-2) + x(n) - 0.5x(n-1) + x(n-3)$$

Άσκηση:

$$y(n) - 0.25y(n-1) = x(n) - x(n-2)$$

$$x(n) = \delta(n) \xrightarrow{DTFT} X(e^{j\omega}) = 1$$

Ποια είναι η είσοδος;



DTFT

$$\begin{aligned}
Y(e^{j\omega}) - 0.25e^{-j\omega}Y(e^{j\omega}) &= X(e^{j\omega}) - e^{-2j\omega}X(e^{j\omega}) \Rightarrow \\
Y(e^{j\omega}) - 0.25e^{-j\omega}Y(e^{j\omega}) &= 1 - e^{-2j\omega} \cdot 1 \Rightarrow \\
Y(e^{j\omega})(1 - 0.25e^{-j\omega}) &= 1 - e^{-j2\omega} \Rightarrow \\
Y(e^{j\omega}) &= \frac{1 - e^{-j2\omega}}{1 - 0.25e^{-j\omega}} = \frac{1}{1 - 0.25e^{-j\omega}} - \frac{e^{-j2\omega}}{1 - 0.25e^{-j\omega}} \xrightarrow{IDTFT} \\
y(n) &= 0.25^n u(n) - 0.25^{n-2} u(n-2)
\end{aligned}$$

Άσκηση:

κρουστική απόκριση του αντίστροφου συστήματος?

$$H(e^{j\omega}) = \frac{1 - \frac{1}{4}e^{-j\omega}}{1 + \frac{1}{2}e^{-j\omega}} \Rightarrow$$

αντίστροφο σύστημα :

$$\begin{aligned}
G(e^{j\omega}) &= \frac{1}{H(e^{j\omega})} = \frac{1}{\frac{1 - \frac{1}{4}e^{-j\omega}}{1 + \frac{1}{2}e^{-j\omega}}} = \frac{1 + \frac{1}{2}e^{-j\omega}}{1 - \frac{1}{4}e^{-j\omega}} = \frac{1}{1 - \frac{1}{4}e^{-j\omega}} + \frac{1}{2} \frac{e^{-j\omega}}{1 - \frac{1}{4}e^{-j\omega}} \Rightarrow \\
\xrightarrow{IDTFT} g(n) &= \left(\frac{1}{4}\right)^n u(n) + \frac{1}{2} \left(\frac{1}{4}\right)^{n-1} u(n-1)
\end{aligned}$$

14^ο ΜΑΘΗΜΑ

Άσκηση:

$$H(e^{j\omega}) = \frac{e^{j\omega}}{1.1 + \cos(\omega)} \quad \text{Γενική εξίσωση?}$$

Euler

$$e^{j\varphi} = \cos(\varphi) + j \sin(\varphi) \quad (\text{A})$$

$$e^{-j\varphi} = \cos(-\varphi) + j \sin(-\varphi) \xrightarrow[\sin(-\varphi)=-\sin(\varphi)]{\cos(-\varphi)=\cos(\varphi)} e^{-j\varphi} = \cos(\varphi) - j \sin(\varphi) \quad (\text{B})$$

$$\begin{aligned} (\text{A}) + (\text{B}) &\Rightarrow e^{j\varphi} + e^{-j\varphi} = \cos(\varphi) + j \sin(\varphi) + \cos(\varphi) - j \sin(\varphi) \Rightarrow \\ &\Rightarrow e^{j\varphi} + e^{-j\varphi} = 2 \cos(\varphi) \Rightarrow \cos(\varphi) = \frac{1}{2} e^{j\varphi} + \frac{1}{2} e^{-j\varphi} \end{aligned}$$

$$\begin{aligned} (\text{A}) - (\text{B}) &\Rightarrow e^{j\varphi} - e^{-j\varphi} = \cos(\varphi) + j \sin(\varphi) - \cos(\varphi) + j \sin(\varphi) \Rightarrow \\ &\Rightarrow e^{j\varphi} - e^{-j\varphi} = 2j \sin(\varphi) \Rightarrow \sin(\varphi) = \frac{1}{2j} e^{j\varphi} - \frac{1}{2j} e^{-j\varphi} \end{aligned}$$

$a^\nu \cdot a^\mu = a^{\nu+\mu}$

$$H(e^{j\omega}) = \frac{e^{j\omega}}{1.1 + \cos(\omega)} \Rightarrow \frac{Y(e^{j\omega})}{X(e^{j\omega})} = \frac{e^{j\omega}}{1.1 + \left(\frac{1}{2} e^{j\omega} + \frac{1}{2} e^{-j\omega} \right)} \Rightarrow$$

$$\Rightarrow Y(e^{j\omega}) \cdot \left(1.1 + \left(\frac{1}{2} e^{j\omega} + \frac{1}{2} e^{-j\omega} \right) \right) = X(e^{j\omega}) \cdot e^{j\omega} \Rightarrow$$

$$\Rightarrow 1.1Y(e^{j\omega}) + \frac{1}{2} e^{j\omega} Y(e^{j\omega}) + \frac{1}{2} e^{-j\omega} Y(e^{j\omega}) = e^{j\omega} X(e^{j\omega}) \Rightarrow$$

$$\Rightarrow e^{-j\omega} \left(1.1Y(e^{j\omega}) + \frac{1}{2} e^{j\omega} Y(e^{j\omega}) + \frac{1}{2} e^{-j\omega} Y(e^{j\omega}) \right) = e^{-j\omega} \left(e^{j\omega} X(e^{j\omega}) \right) \Rightarrow$$

$$\Rightarrow 1.1e^{-j\omega} Y(e^{j\omega}) + \frac{1}{2} e^{(-j\omega+j\omega)} Y(e^{j\omega}) + \frac{1}{2} e^{(-j\omega-j\omega)} Y(e^{j\omega}) = e^{-j\omega+j\omega} X(e^{j\omega}) \Rightarrow$$

$$\Rightarrow 1.1e^{-j\omega} Y(e^{j\omega}) + \frac{1}{2} e^0 Y(e^{j\omega}) + \frac{1}{2} e^{(-2j\omega)} Y(e^{j\omega}) = e^0 X(e^{j\omega}) \Rightarrow$$

$$\Rightarrow 1.1e^{-j\omega} Y(e^{j\omega}) + \frac{1}{2} Y(e^{j\omega}) + \frac{1}{2} e^{(-2j\omega)} Y(e^{j\omega}) = X(e^{j\omega}) \Rightarrow$$

$$\xrightarrow{IDTFT} \Rightarrow 1.1y(n-1) + \frac{1}{2} y(n) + \frac{1}{2} y(n-2) = x(n) \Rightarrow$$

$$\Rightarrow \frac{1}{2} y(n) = -1.1y(n-1) - \frac{1}{2} y(n-2) + x(n) \Rightarrow$$

$$\Rightarrow y(n) = -2.2y(n-1) - y(n-2) + 2x(n)$$

Άσκηση:

$$h(n) = a^n u(n), |a| < 1$$

$$x(n) = b^n u(n), |b| < 1$$

$$y(n) = h(n) * x(n) = ?$$

\downarrow *DFT*

$$Y(e^{j\omega}) = H(e^{j\omega}) \cdot X(e^{j\omega})$$

$$\left. \begin{aligned} X(e^{j\omega}) &= \frac{1}{1-b \cdot e^{-j\omega}} \\ H(e^{j\omega}) &= \frac{1}{1-a \cdot e^{-j\omega}} \end{aligned} \right\} \rightarrow Y(e^{j\omega}) = H(e^{j\omega}) \cdot X(e^{j\omega}) = \frac{1}{1-a \cdot e^{-j\omega}} \cdot \frac{1}{1-b \cdot e^{-j\omega}} = \frac{1}{(1-a \cdot e^{-j\omega}) \cdot (1-b \cdot e^{-j\omega})} =$$

$$\frac{A}{1-a \cdot e^{-j\omega}} + \frac{B}{1-b \cdot e^{-j\omega}} = \frac{A(1-b \cdot e^{-j\omega})}{1-a \cdot e^{-j\omega}} + \frac{B(1-a \cdot e^{-j\omega})}{1-b \cdot e^{-j\omega}} = \frac{A - Ab \cdot e^{-j\omega} + B - Ba \cdot e^{-j\omega}}{(1-a \cdot e^{-j\omega}) \cdot (1-b \cdot e^{-j\omega})}$$

θα πρέπει

$$A + B - (Ab + Ba) \cdot e^{-j\omega} = 1 \Rightarrow$$

$$\left. \begin{aligned} A + B &= 1 \\ Ab + Ba &= 0 \end{aligned} \right\} \Rightarrow \left. \begin{aligned} B &= 1 - A \\ Ab + (1 - A)a &= 0 \end{aligned} \right\} \Rightarrow \left. \begin{aligned} B &= 1 - A \\ Ab + a - Aa &= 0 \end{aligned} \right\} \Rightarrow \left. \begin{aligned} B &= 1 - A \\ A(b - a) &= -a \end{aligned} \right\} \Rightarrow$$

$$\Rightarrow \left. \begin{aligned} B &= 1 - A \\ A &= -\frac{a}{b-a} \end{aligned} \right\} \Rightarrow B = 1 - A = 1 - \left(-\frac{a}{b-a} \right) = \frac{b-a}{b-a} + \frac{a}{b-a} = \frac{b}{b-a} = B$$

άρα

$$Y(e^{j\omega}) = \frac{-\frac{a}{b-a}}{1-a \cdot e^{-j\omega}} + \frac{\frac{b}{b-a}}{1-b \cdot e^{-j\omega}} \xrightarrow{IDTFT} y(n) = -\frac{a}{b-a} a^n u(n) + \frac{b}{b-a} b^n u(n)$$

Άσκηση:

$$y(n) = 0.5y(n-1) + bx(n)$$

Να βρεθεί η τιμή του b που για συχνότητα 0 το μέτρο της απόκρισης είναι 1.

$$|H(e^{j\omega})|=1 \Big|_{\omega=0}$$

$$\stackrel{IDTFT}{\Rightarrow} Y(e^{j\omega}) = 0.5e^{-j\omega}Y(e^{j\omega}) + bX(e^{j\omega}) \Rightarrow$$

$$Y(e^{j\omega})(1 - 0.5e^{-j\omega}) = bX(e^{j\omega}) \Rightarrow$$

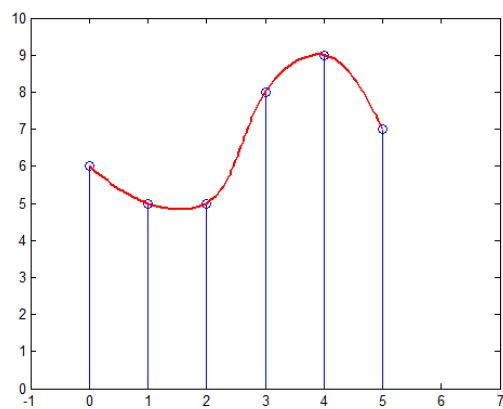
$$H(e^{j\omega}) = \frac{Y(e^{j\omega})}{X(e^{j\omega})} = \frac{b}{1 - 0.5e^{-j\omega}}$$

$$|H(e^{j\omega})|^2 = \frac{b^2}{(1 - 0.5e^{-j\omega})(1 - 0.5e^{j\omega})} = \dots = \frac{b^2}{1.25 - \cos(\omega)} \Rightarrow$$

$$|H(e^{j\omega})|^2 = 1 \Rightarrow \frac{b^2}{1.25 - \cos(\omega)} = 1 \Rightarrow \frac{b^2}{1.25 - 1} = 1 \Rightarrow \frac{b^2}{0.25} = 1 \Rightarrow$$

$$b^2 = 0.25 \Rightarrow b = \pm 0.5$$

Δειγματοληψία



$$S_a(t) = \sum_{n=-\infty}^{\infty} \delta(t - nT_s)$$

$$F_s = \frac{1}{T_s}$$

$$\omega_s = \frac{2\pi}{T_s}$$

Άσκηση:

$$s(t) = \cos(2\pi 200\sqrt{2}t)$$

$$f_s = 1000 \text{ Hz}$$

$$s(t) = \cos(\Omega t)$$

$$\Omega = 2\pi 200\sqrt{2} = 2\pi f \Rightarrow f = 200\sqrt{2} = 282.84 \text{ Hz}$$

$f_s > 2f \rightarrow$ ισχύει το θεώρημα του Nyquist άρα δεν θα υπάρξει φασματική παραμόρφωση

Άσκηση:

ΣΕΛΙΔΑ 60

15^ο ΜΑΘΗΜΑ

➤ Μετασχηματισμός Z

Υπερσύνολο του μετασχηματισμού
Fourier στο διακριτό χρόνο

$$x(z) = \sum_{n=-\infty}^{\infty} x(n)z^{-n} \quad (1), \quad z = re^{j\omega}$$

$$(1) \rightarrow \sum_{n=-\infty}^{\infty} x(n)(re^{j\omega})^{-n} \stackrel{\text{για } r=1}{=} \sum_{n=-\infty}^{\infty} x(n)e^{-j\omega n}$$

$$X(z) = \frac{B(z)}{A(z)} = \frac{(z-2)(z-3+2j)}{(z+1)(z-1+4j)}$$

μηδενικά: ρίζες B(z)
πόλοι: ρίζες A(z)

$$\begin{aligned} \text{μηδενικά: } z-2=0 &\Rightarrow z=2 \\ z-3+2j=0 &\Rightarrow z=3-2j \end{aligned}$$

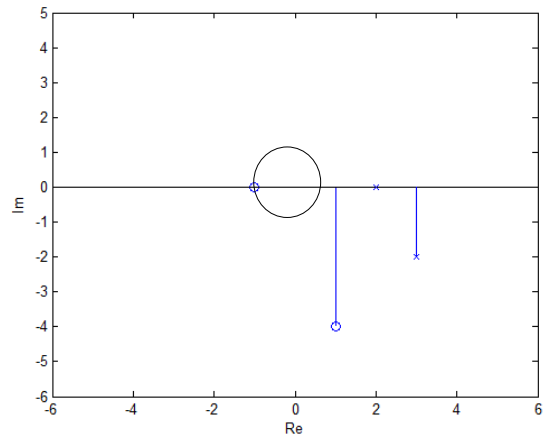
$$\begin{aligned} \text{πόλοι: } z+1=0 &\Rightarrow z=-1 \\ z-1+4j=0 &\Rightarrow z=1-4j \end{aligned}$$

Μηδενικά 0

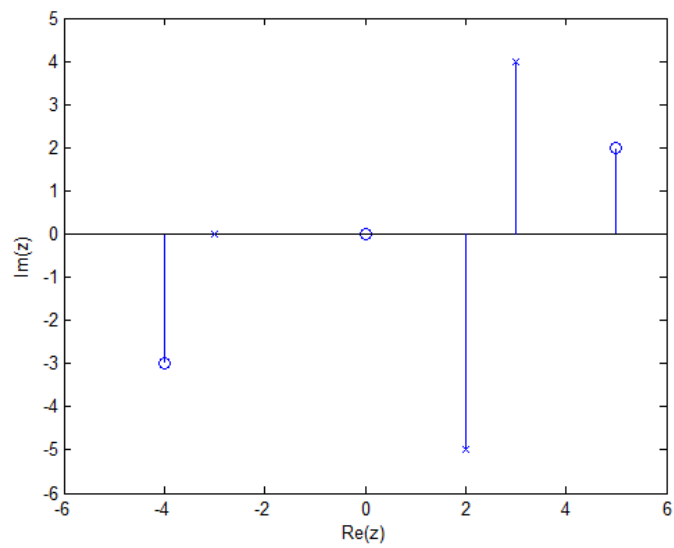
- Για $z=2 \rightarrow B(2)=0 \rightarrow x(2)=0/A(z)=0$
- Για $z=3-2j \rightarrow B(3-2j)=0 \rightarrow x(3-2j)=0/A(z)=0$

Πόλοι x

- Για $z=-1 \rightarrow A(-1)=0 \rightarrow x(-1)=B(z)/0=\infty$
- Για $z=1-4j \rightarrow A(1-4j)=0 \rightarrow x(1-4j)=B(z)/0=\infty$



Άσκηση:



$$x(z) = c \frac{(z - z_1)(z - z_2)(z - z_3)}{(z - z_4)(z - z_5)(z - z_6)(z - z_7)} \Rightarrow$$

Μηδενικά

Πόλοι

$$z_1 = -4 - 3j$$

$$z_4 = -3$$

$$z_2 = 0$$

$$z_5 = 2 - 5j$$

$$z_3 = 5 + 2j$$

$$z_6 = 3 + 4j$$

$$z_7 = 5$$

$$\Rightarrow \frac{(z + 4 + 3j)z(z - 5 - 2j)}{(z - 3)(z - 2 + 5j)(z - 3 - 4j)(z - 5)}$$

Άσκηση:

$$x(z) = \frac{z + 2z^{-2} + z^{-3}}{1 - 3z^{-4} + z^{-5}}$$

Δίνεται ο μετασχηματισμός z . Η περιοχή σύγκλισης περιλαμβάνει το μοναδιαίο κύκλο \rightarrow άρα ορίζεται ο Fourier

$$\left. \begin{array}{l} \omega = \pi \\ \omega = 0 \end{array} \right\} \rightarrow \text{DTFT} = ?$$

$$z = re^{j\omega} \Big|_{r=1} \Rightarrow z = 1 \cdot e^{j\omega} = e^{j\omega}$$

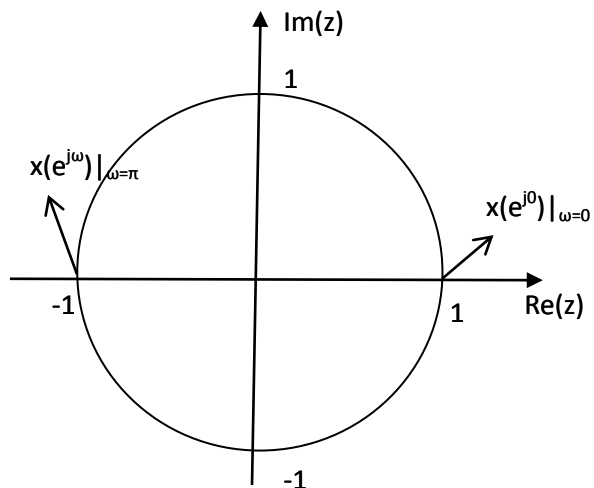
$$X(e^{j\omega}) = x(z) \Big|_{r=1} = \frac{e^{j\omega} + 2(e^{j\omega})^{-2} + (e^{j\omega})^{-3}}{1 - 3(e^{j\omega})^{-4} + (e^{j\omega})^{-5}} \Rightarrow$$

$$\text{για } \omega = \pi \Rightarrow e^{j\pi} = \cos(\pi) + j \sin(\pi) = 1 + j0 = 1$$

$$\begin{aligned} X(e^{j\pi}) &= \frac{(-1) + 2(-1)^{-2} + (-1)^{-3}}{1 - 3(-1)^{-4} + (-1)^{-5}} = \frac{(-1) + 2 \frac{1}{(-1)^{-2}} + \frac{1}{(-1)^{-3}}}{1 - 3 \frac{1}{(-1)^{-4}} + \frac{1}{(-1)^{-5}}} = \\ &= \frac{(-1) + 2 \cdot 1 + (-1)}{1 - 3 \cdot 1 + (-1)} = \frac{0}{3} = 0 \end{aligned}$$

$$\text{για } \omega = 0 \Rightarrow e^{j0} = \cos(0) + j \sin(0) = 1 + j0 = 1$$

$$X(e^{j\pi}) = \frac{1 + 2 \cdot 1 + 1}{1 - 3 \cdot 1 + 1} = \frac{4}{-1} = -4$$



Άσκηση:

$$x(z) = a^n u(n)$$

$$x(z) = \sum_{n=-\infty}^{\infty} x(n) z^{-n} = \sum_{n=-\infty}^{\infty} a^n u(n) z^{-n} =$$

$$= \sum_{n=-\infty}^{-1} a^n u(n) z^{-n} + \sum_{n=0}^{\infty} a^n u(n) z^{-n} \Rightarrow$$

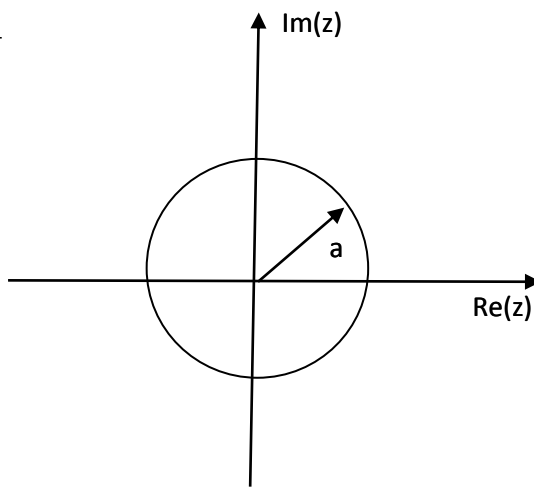
$$x(z) = \sum_{n=0}^{\infty} a^n z^{-n} = \sum_{n=0}^{\infty} (a z^{-1})^n = \frac{1}{1 - a z^{-1}} \Rightarrow$$

$$\left[|a z^{-1}| < 1 \Rightarrow |a| \cdot |z^{-1}| < 1 \Rightarrow \frac{|a|}{|z|} < 1 \Rightarrow |a| < |z| \right]$$

$$\Rightarrow x(z) = \frac{1}{1 - \frac{a}{z}} = \frac{1}{\frac{z}{z} - \frac{a}{z}} = \frac{1}{\frac{z-a}{z}} = \frac{z}{z-a}$$

Μηδενικό $\rightarrow z=0$

Πόλος $\rightarrow z=a$



Άσκηση:

$$x(n) = -a^n u(-n-1)$$

$$x(z) = \sum_{n=-\infty}^{\infty} x(n)z^{-n} = \sum_{n=-\infty}^{\infty} -a^n u(-n-1)z^{-n} =$$

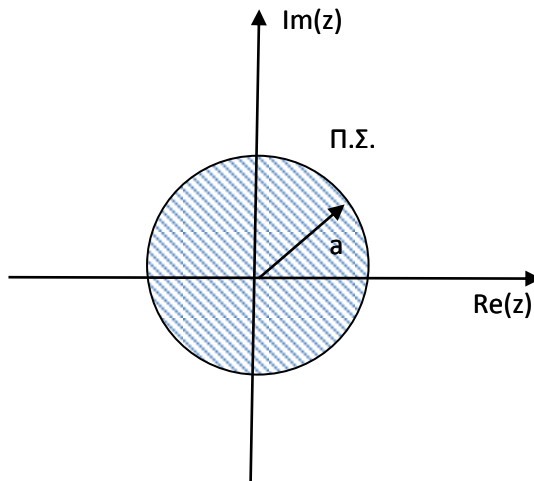
$$= \sum_{n=-\infty}^{-1} -a^n u(-n-1)z^{-n} + \sum_{n=0}^{\infty} -a^n u(-n-1)z^{-n} \Rightarrow$$

$$x(z) = \sum_{n=-\infty}^{-1} -a^n z^{-n} = - \sum_{n=-\infty}^{-1} (az^{-1})^n \stackrel{k=-n-1}{=} - \sum_{-k-1=-\infty}^{k=0} (az^{-1})^{-k-1} =$$

$$= - \sum_{k=0}^{\infty} (az^{-1})^{-k-1} = - \sum_{k=0}^{\infty} (az^{-1})^{-k-1} = - \sum_{k=0}^{\infty} (az^{-1})^{-1} \cdot (az^{-1})^{-k} =$$

$$= - (az^{-1})^{-1} \sum_{k=0}^{\infty} \left(\frac{1}{az^{-1}} \right)^k = - (az^{-1})^{-1} \frac{1}{1 - \left(\frac{1}{az^{-1}} \right)}$$

$$\left[\left| \frac{1}{az^{-1}} \right| < 1 \Rightarrow \frac{1}{|az^{-1}|} < 1 \Rightarrow 1 < |az^{-1}| \Rightarrow 1 < \frac{|a|}{|z|} \Rightarrow |z| < |a| \right]$$



16^ο ΜΑΘΗΜΑ

$$\bullet \sum_{n=-\infty}^{\infty} a^n = \sum_{n=-k}^{k=-n} a^{-k} = \sum_{k=\infty}^{k=0} a^{-k} = \sum_{k=0}^{k=\infty} a^{-k} = \sum_{k=0}^{\infty} \left(\frac{1}{a}\right)^k$$

$$\bullet \sum_{n=-\infty}^{n=-1} a^n = \sum_{n=-k-1}^{k=-n-1} a^{(-k-1)} = \sum_{-k=-\infty}^{k=0} a^{(-k-1)} = \sum_{k=\infty}^{k=0} a^{-(k+1)} = \sum_{k=0}^{\infty} \left(\frac{1}{a}\right)^{k+1}$$

$$k = -n + c$$

$$0 = 1 + c$$

$$-1 = c$$

$$\sum_{n=0}^{\infty} b^n = \frac{1}{1-b}, \quad |b| < 1$$

Αλλαγή ορίου ώστε να χτίσω
το άθροισμα μου και να έρθω
σε αυτή τη μορφή

Άσκηση:

$$x(n) = \left(\frac{1}{2}\right)^n u(n) - 2^n u(n-1)$$

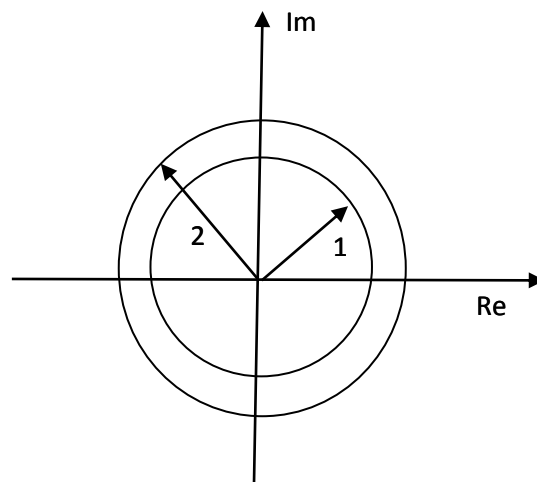
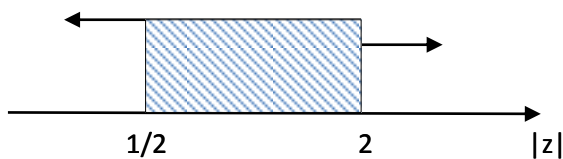
$$x(n) = x_1(n) - x_2(n)$$

$$x_1(n) = \frac{1}{1 - \frac{1}{2}z^{-1}}, \quad \text{Π.Σ.: } |z| > 1/2$$

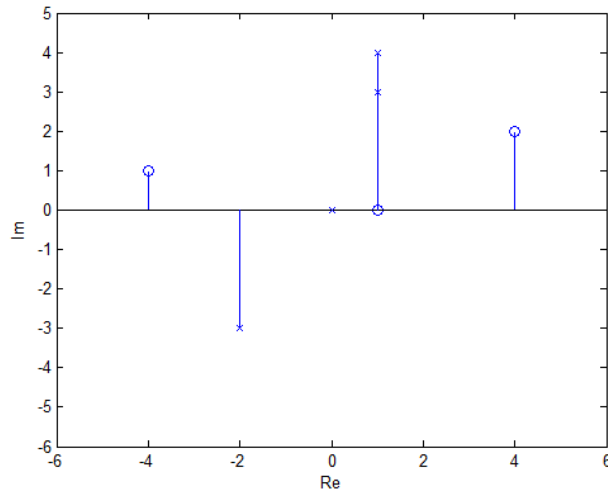
$$x_2(n) = \frac{1}{1 - 2z^{-1}}, \quad \text{Π.Σ.: } |z| < 2$$

$$x(n) = x_1(n) - x_2(n) = \frac{1}{1 - \frac{1}{2}z^{-1}} - \frac{1}{1 - 2z^{-1}}$$

$$\text{Π.Σ.: } \frac{1}{2} < z < 2$$



Άσκηση:



Μηδενικά:

Πόλοι:

$$z_1 = -4 + j$$

$$z_4 = -2 - 3j$$

$$z_2 = 1$$

$$z_5 = 0$$

$$z_3 = 4 + 2j$$

$$z_6 = 1 + 3j$$

$$z_7 = 1 + 4j$$

Δεν μπορώ να έχω και μηδενικό και πόλο στο ίδιο σημείο γιατί αλληλοεξουδετερώνονται όταν τα βάλουμε στο κλάσμα.

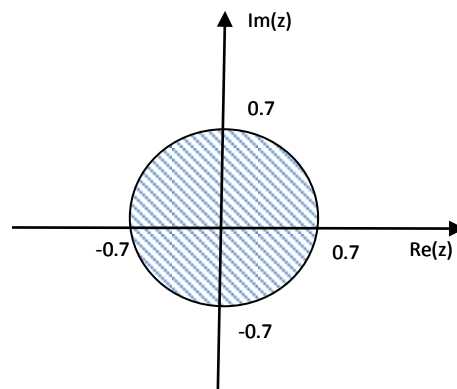
$$x(z) = c \frac{(z - z_1)(z - z_2)(z - z_3)}{(z - z_4)(z - z_5)(z - z_6)(z - z_7)}$$

$$x(z) = c \frac{(z + 4 - j)(z - 1)(z - 4 - 2j)}{(z + 2 + 3j)z(z - 1 - 3j)(z - 1 - 4j)}$$

Άσκηση:

$$x(z) = \frac{1}{1 - 0.7z^{-1}}$$

$$x(n) = -0.7^n u(n-1)$$



Άσκηση:

$$x(z) = \frac{z^{-1} + 2z^{-2} - 4z^{-3}}{z^{-3} + z^{-4} - 3z^{-7}}$$

$$x(e^{j\omega}) = ?$$

$$\text{για } \omega = 0$$

$$\text{για } \omega = \pi$$

$$\text{για } \omega = 0$$

$$x(e^{j\omega}) = x(z) \big|_{z=1} = \frac{(1)^{-1} + 2(1)^{-2} - 4(1)^{-3}}{(1)^{-3} + (1)^{-4} - 3(1)^{-7}} = \frac{-1}{-1} = 1$$

$$z = re^{j\omega} \big|_{r=1} = e^{j\omega} \big|_{\omega=1} = e^{j0} = 1$$

αφού για $\omega=\pi$ βρίσκεται εκτός της περιοχής σύγκλισης, ο μετασχηματισμός Fourier δεν ορίζεται.

Άσκηση:

$$x(n) = 2^n u(n) + 3 \left(\frac{1}{2} \right)^n u(n)$$

$$x_1(z) = \frac{1}{1-2z^{-1}}, \text{Π.Σ.} |z| > 2$$

$$x_2(z) = \frac{3}{1-\frac{1}{2}z^{-1}}, \text{Π.Σ.} |z| > 1/2$$

$$x(z) = x_1(z) + x_2(z) = \frac{1}{1-2z^{-1}} + \frac{3}{1-\frac{1}{2}z^{-1}}$$

$$\text{Π.Σ.} |z| > 2$$

Άσκηση:

$$x(n) = \cos(n\omega_0)u(n) \Rightarrow$$

$$\Rightarrow x(n) = \frac{1}{2} [e^{j\omega_0 n} + e^{-j\omega_0 n}] u(n) \Rightarrow$$

$$\Rightarrow x(n) = \frac{1}{2} e^{j\omega_0 n} u(n) + \frac{1}{2} e^{-j\omega_0 n} u(n)$$

$$x_1(n) = \frac{1}{2} (e^{j\omega_0})^n u(n) \xrightarrow{(z)} \frac{1}{2} \frac{1}{1 - e^{j\omega_0} z^{-1}}$$

$$x_2(n) = \frac{1}{2} (e^{-j\omega_0})^n u(n) \xrightarrow{(z)} \frac{1}{2} \frac{1}{1 - e^{-j\omega_0} z^{-1}}$$

$$e^{j\omega_0 n} = \cos(\omega_0 n) + j \sin(\omega_0 n)$$

$$e^{-j\omega_0 n} = \cos(\omega_0 n) - j \sin(\omega_0 n)$$

$$e^{j\omega_0 n} + e^{-j\omega_0 n} = 2 \cos(\omega_0 n) \Rightarrow$$

$$\Rightarrow \cos(\omega_0 n) = \frac{1}{2} [e^{j\omega_0 n} + e^{-j\omega_0 n}]$$

➤ Θεώρημα Αρχικής Τιμής

Άσκηση:

$$x(z) = \frac{1}{1 - az^{-1}} \quad \text{Π.Σ. } |z| > a$$

$$x(n)|_{n=0} = ?$$

$$x(0) = \lim_{z \rightarrow \infty} x(z) = \lim_{z \rightarrow \infty} \frac{1}{1 - az^{-1}} \Rightarrow x(0) = \lim_{z \rightarrow \infty} \frac{1}{1 - \frac{a}{z}} = 1$$

17° ΜΑΘΗΜΑ

Άσκηση:

$$x(z) = \frac{2}{1 - 0.5z^{-1}} - \frac{3 + 3.22z^{-1}}{1 - 0.7z^{-1}}$$

$$x(n)|_{n=0} = x(0) = \lim_{z \rightarrow \infty} x(z) = \lim_{z \rightarrow \infty} \left[\frac{2}{1 - 0.5z^{-1}} - \frac{3 + 3.22z^{-1}}{1 - 0.7z^{-1}} \right] \Rightarrow$$

$$\Rightarrow x(0) = \lim_{z \rightarrow \infty} \frac{2}{1 - 0.5z^{-1}} - \lim_{z \rightarrow \infty} \frac{3 + 3.22z^{-1}}{1 - 0.7z^{-1}} = \lim_{z \rightarrow \infty} \frac{2}{1 - \frac{0.5}{z}} - \lim_{z \rightarrow \infty} \frac{3 + \frac{3.22}{z}}{1 - \frac{0.7}{z}} = \frac{2}{1} - \frac{3}{1} = 2 - 3 = -1$$

Άσκηση:

$$x(z) = \frac{2 + 3z^{-2} - 5z^{-3} + 2z^{-5}}{2z^{-1} - 4z^{-3} + 7z^{-7}}$$

DTFT

$$z = re^{j\omega} \stackrel{r=1}{=} e^{j\omega}$$

$$\omega = \pi \rightarrow z = e^{j\pi} = -1$$

$$\omega = 0 \rightarrow z = e^{j0} = 1$$

$$\begin{aligned} \bullet x(e^{j\pi}) &= x(z) \big|_{z=-1} = \frac{2 + 3(-1)^{-2} - 5(-1)^{-3} + 2(-1)^{-5}}{2(-1)^{-1} - 4(-1)^{-3} + 7(-1)^{-7}} = \frac{2 + 3 \cdot 1 - 5 \cdot (-1) + 2 \cdot (-1)}{2 \cdot (-1) - 4 \cdot (-1) + 7 \cdot (-1)} = \\ &= \frac{2 + 3 + 5 - 2}{-2 + 4 - 7} = \frac{8}{-5} \end{aligned}$$

$$\begin{aligned} \bullet x(e^{j0}) &= x(z) \big|_{z=1} = \frac{2 + 3(1)^{-2} - 5(1)^{-3} + 2(1)^{-5}}{2(1)^{-1} - 4(1)^{-3} + 7(1)^{-7}} = \frac{2 + 3 \cdot 1 - 5 \cdot 1 + 2 \cdot 1}{2 \cdot 1 - 4 \cdot 1 + 7 \cdot 1} = \\ &= \frac{2 + 3 - 5 + 2}{2 - 4 + 7} = \frac{2}{5} \end{aligned}$$

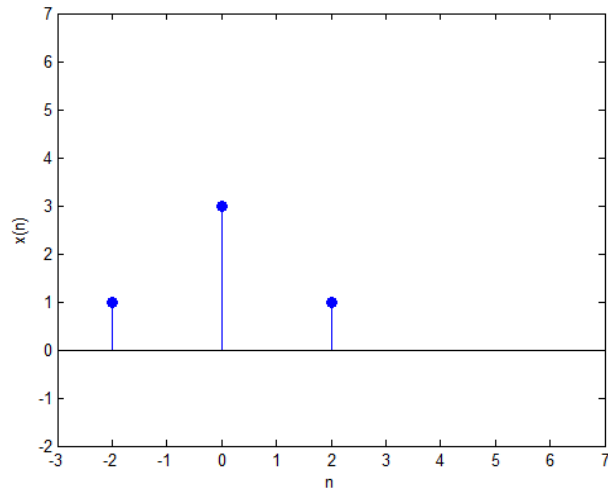
Άσκηση:

$$x(n) = 3\delta(n) + \delta(n-2) + \delta(n+2)$$

$$x(z) = ?$$

$$\left. \begin{aligned} x_1(n) &= 3 \cdot 1 = 3 \\ x_2(n) &= z^{-2} \cdot 1 = z^{-2} \\ x_3(n) &= z^{-(-2)} \cdot 1 = z^2 \end{aligned} \right\} x(z) = 3 + z^{-2} + z^2$$

$$\text{Π.Σ.} 0 < |z| < \infty$$



Αφού για $n < 0$ δεν είναι παντού 0, τότε δεν συμπεριλαμβάνεται το ∞ και ομοίως αφού δεν είναι για $n > 0$ πάντα 0, δεν συμπεριλαμβάνεται το 0.

Άσκηση:

$$x(n) = a^{|n|} = \begin{cases} a^n, & n \geq 0 \\ a^{-n}, & n < 0 \end{cases}$$

$$x(n) = a^n u(n) + a^{-n} u(-n) - \delta(n)$$

$$x_1(n) = \frac{1}{1 - az^{-1}} \quad \text{Π.Σ. } |z| > |a|$$

$$x_3(n) = 1 \quad \text{Π.Σ. } 0 \leq |z| \leq \infty$$

$$x_2(n) = \frac{1}{1 - a(z^{-1})^{-1}} = \frac{1}{1 - az} \quad \text{Π.Σ. } |z| > 1/|a|$$

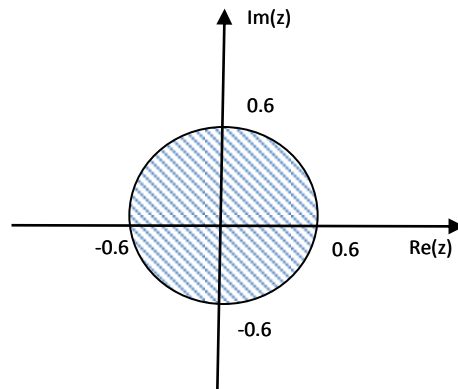
$$x(z) = \frac{1}{1 - az^{-1}} + \frac{1}{1 - az} + 1$$

Άρα η περιοχή σύγκλισης θα είναι η τομή όλων.

Άσκηση:

$$x(z) = \frac{1}{1 - 0.6z^{-1}}$$

$$x(n) = ?$$



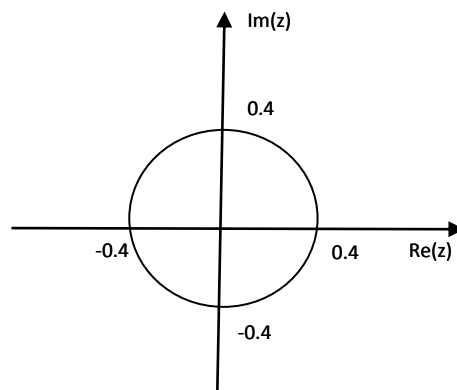
Άσκηση:

$$x(z) = \frac{2 - 3z^{-2}}{1 - 0.4z^{-1}} = \frac{2}{1 - 0.4z^{-1}} - 3 \frac{z^{-2}}{1 - 0.4z^{-1}}$$

$$x_1(n) = 2(0.4^n u(n))$$

$$x_2(n) = 3(0.4^{(n-2)} u(n-2))$$

$$x(n) = 2(0.4^n u(n)) - 3(0.4^{(n-2)} u(n-2))$$



Άσκηση:

$$y(n) = x_1(n) * x_2(n) \xrightarrow{z} Y(z) = X_1(z) \cdot X_2(z) = X_1(z) \cdot 1 = X_1(z)$$

$$X_1(z)$$

$$x_2(n) = \delta(n) \rightarrow X_2(z) = 1$$

$$y(n) = ?$$

$$\begin{aligned} x(z) &= \frac{a_0 + a_1 z^{-1} + a_2 z^{-2} + a_3 z^{-3} + a_4 z^{-4} + \dots}{1 - az^{-1}} = \\ &= \frac{a_0}{1 - az^{-1}} + \frac{a_1 z^{-1}}{1 - az^{-1}} + \frac{a_2 z^{-2}}{1 - az^{-1}} + \dots \end{aligned}$$

18^ο ΜΑΘΗΜΑ

Άσκηση:

$$x(n) = a^n u(n)$$

$$h(n) = \delta(n) - a\delta(n-1)$$

$$y(n) = x(n) * h(n)$$

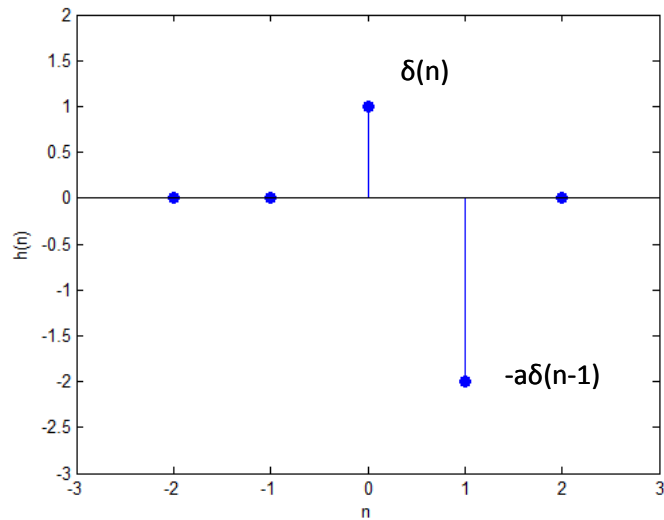
$$Y(z) = ?$$

$$Y(z) = X(z) \cdot H(z)$$

$$X(z) = \frac{1}{1 - az^{-1}} \quad \text{Π.Σ.: } |z| > a$$

$$H(z) = 1 - az^{-1} \quad \text{Π.Σ.: } 0 < |z|$$

$$Y(z) = \frac{1}{1 - az^{-1}} (1 - az^{-1}) = 1 \quad \text{Π.Σ.: } |z|$$



Ο ένας μετασχηματισμός εξουδετέρωσε τον άλλον γι' αυτό η περιοχή σύγκλισης δεν είναι η τομή, αλλά μόνο της μοναδιαίας.

Άσκηση:

$$y(n) = 0.25y(n-2) + x(n) \quad (*)$$

$$x(n) = \delta(n-1)$$

$$y(-1) = y(-2) = 1 \longrightarrow \text{Αρχικές συνθήκες-στιγμές εκκίνησης}$$

$$y(n) = ?$$

n	x(n)	y(n)
-2	0	1
-1	0	1
0	0	$y(0) = 0.25y(0-2) + x(0) = 0.25y(-2) + x(0) = 0.25 \cdot 1 + 0 = 0.25$
1	1	$y(1) = 0.25y(1-2) + x(1) = 0.25y(-1) + x(1) = 0.25 \cdot 1 + 1 = 1.25$
2	0	$y(2) = 0.25y(2-2) + x(2) = 0.25y(0) + x(2) = 0.25 \cdot 0.25 + 0 = 0.0625$
3	0	...
4	0	...

Μονόπλευρος Μετασχηματισμός z

$(*) \xrightarrow{z}$

$$\alpha \vee y(n) \xrightarrow{z_1} Y_1(z) \quad (1)$$

$$y(n-2) \xrightarrow{z_1} \sum_{n=0}^{\infty} y(n-2)z^{-n} \stackrel{k=n-2}{=} \sum_{k+2=0}^{\infty} y(k)z^{-(k+2)} = \sum_{k=-2}^{\infty} y(k)z^{-k}z^{-2} =$$

$$= z^{-2} \sum_{k=-2}^{\infty} y(k)z^{-k} = z^{-2}y(-2)z^2 + z^{-2}y(-1)z^1 + z^{-2} \sum_{k=0}^{\infty} y(k)z^{-k}$$

$$\stackrel{(1)}{\rightarrow} z^0 y(-2) + z^{-1}y(-1) + z^{-2}Y_1(z)$$

$$x_1(z) = \sum_{n=0}^{\infty} x(n)z^{-n} = \sum_{n=0}^{\infty} \delta(n-1)z^{-n} = \delta(1-1)z^{-1} = \delta(0)z^{-1} = 1 \cdot z^{-1} = z^{-1}$$

$$Y_1(z) = 0.25(z^{-2}Y_1(z) + z^{-1}y(-1) + y(-2)) + z^{-1} \Rightarrow$$

$$Y_1(z) = 0.25z^{-2}Y_1(z) + 0.25z^{-1}y(-1) + 0.25y(-2) + z^{-1} \Rightarrow$$

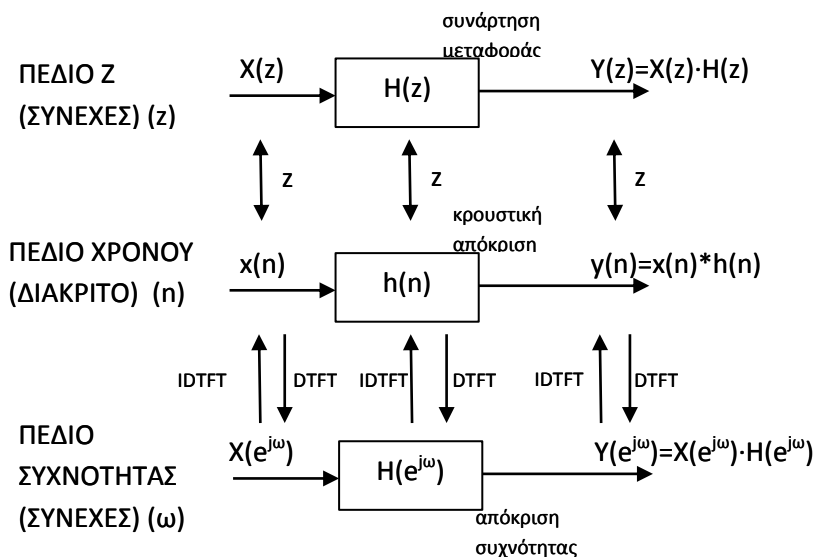
$$Y_1(z) - 0.25z^{-2}Y_1(z) = 0.25z^{-1} \cdot 1 + 0.25 \cdot 1 + z^{-1} \Rightarrow$$

$$Y_1(z)(1 - 0.25z^{-2}) = 0.25z^{-1} + 0.25 + z^{-1} \Rightarrow$$

$$Y_1(z) = \frac{0.25z^{-1} + 0.25 + z^{-1}}{1 - 0.25z^{-2}} = \dots = \frac{11/8}{1 - 1/2z^{-1}} - \frac{9/8}{1 + 1/2z^{-1}}$$

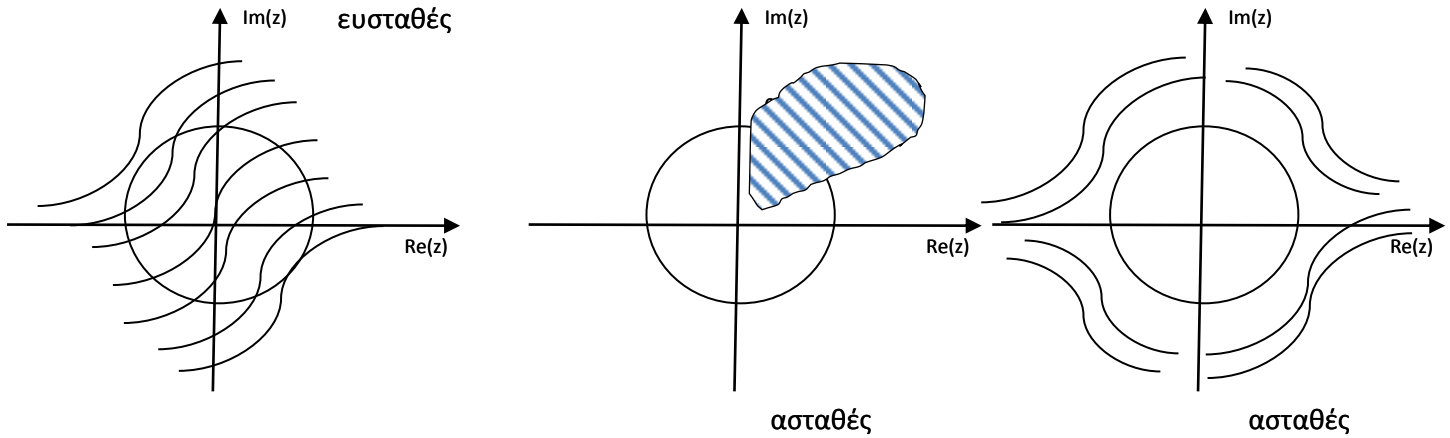
$$y(n) = \frac{11}{8}(1/2)^n u(n) - \frac{9}{8}(-1/2)^n u(n)$$

Ανάλυση Μετασχηματισμού Συστημάτων

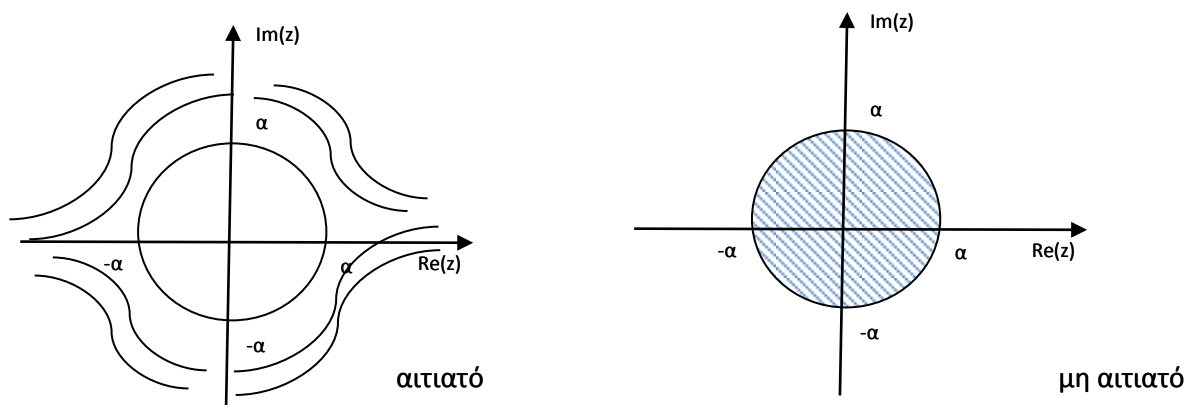


Ευσταθεια

Αν μέσα στην περιοχή σύγκλισης περιλαμβάνεται ο μοναδιαίος κύκλος τότε το σύστημα είναι ευσταθές.

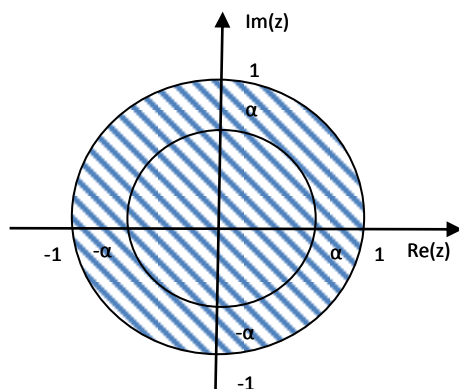


Αιτιότητα



Π.Σ. στην εξωτερική επιφάνεια του κύκλου με $r=a$

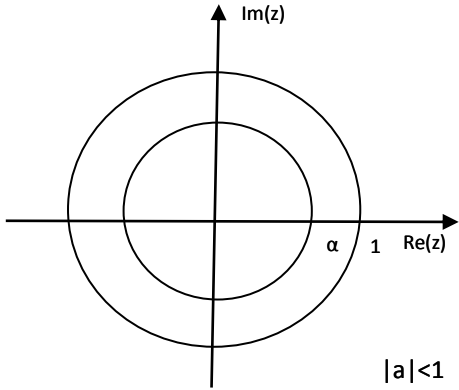
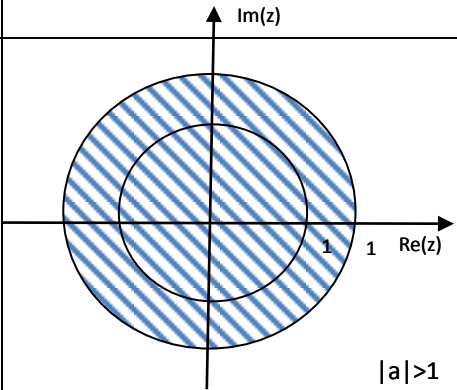
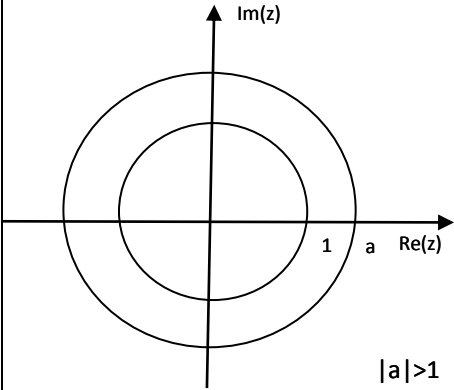
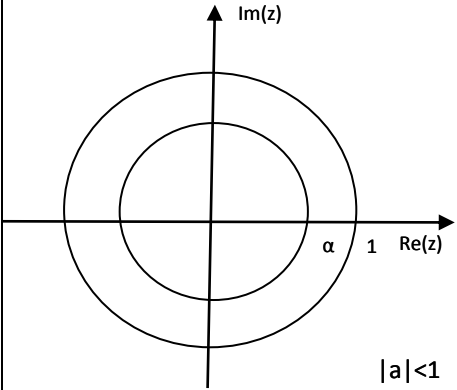
Πραγματοποίησιμο \rightarrow ευσταθές + αιτιατό



- αιτιατό
- ευσταθές

$$|z| > |a|$$

$$|a| < 1$$

ΣΕΛΙΔΑ 74-ΣΧΗΜΑ ΚΑΤΩ	αιτιατό	μη-αιτιατό
Ευσταθές		
μη-ευσταθές		

19^ο ΜΑΘΗΜΑ

Άσκηση:

πραγματοποιήσιμο \rightarrow ευσταθές + αιτιατό

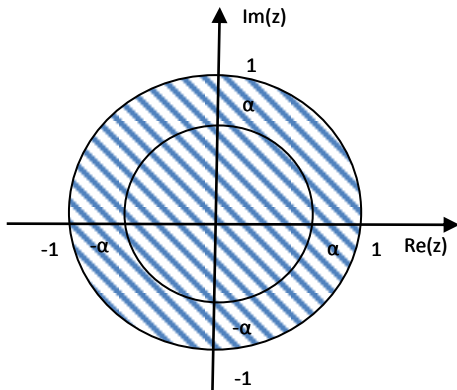
Π.Σ. $|z| > a$

$$H(z) = \frac{A(z)}{B(z)(z - z_p)}$$

$$H(z_p) = \frac{A(z_p)}{B(z_p)(z_p - z_p)} = \frac{A(z_p)}{0} \rightarrow \infty$$

Πόλος: z_p

$$|z| < 1$$

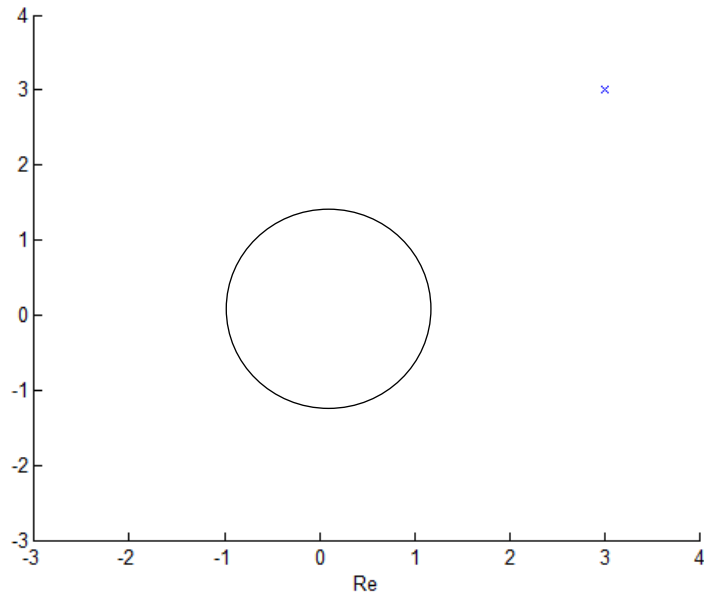


Σε μια συνάρτηση μεταφοράς οι πόλοι ΑΠΟΚΛΕΙΕΤΑΙ να βρίσκονται μέσα στο πεδίο σύγκλισης επειδή στ Π.Σ. έχει παντού τιμή. Δεν ∞ !!

Για ένα πραγματοποιήσιμο σύστημα οι πόλοι βρίσκονται εσωτερικά του μοναδιαίου κύκλου.

π.χ. $H(z)$

με πόλο $3+4j$ μπορεί να είναι πραγματοποιήσιμο?



Δεν μπορεί να είναι πραγματοποιήσιμο διότι ο μοναδιαίος κύκλος βρίσκεται στο εσωτερικό του σημείου.

➤ Πραγματοποιήσιμο = ευσταθές + αιτιατό

○ ευσταθές = Π.Σ. C μον. κύκλο

○ αιτιατό = Π.Σ. $|z| < a$

○ πόλοι = \notin Π.Σ.

➔ Πόλοι στο εσωτερικό του μοναδιαίου κύκλου

Άσκηση:

$$H(z) = C \frac{(1 - e^{j\omega_0} z^{-1})(1 - e^{-j\omega_0} z^{-1})}{(1 - re^{j\omega_0} z^{-1})(1 - re^{-j\omega_0} z^{-1})} \text{πραγματοποιήσιμο}$$

Να σχεδιαστούν στο μιγαδικό επίπεδο οι πόλοι και τα μηδενικά

Μηδενικά:

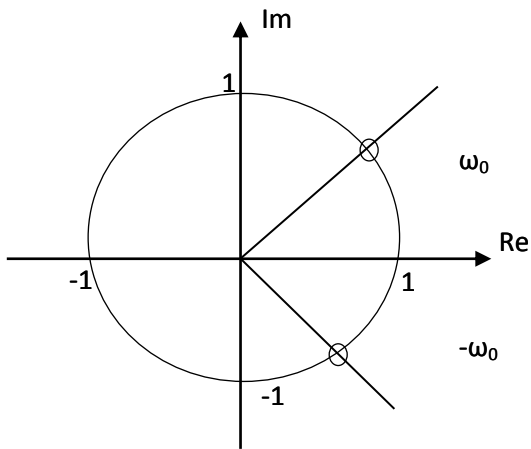
$$1 - e^{-j\omega_0} z^{-1} = 0 \Rightarrow 1 = e^{-j\omega_0} z^{-1} \Rightarrow 1 = \frac{e^{-j\omega_0}}{z} \Rightarrow z_{01} = e^{-j\omega_0}$$

$$1 - e^{j\omega_0} z^{-1} = 0 \Rightarrow 1 = e^{j\omega_0} z^{-1} \Rightarrow 1 = \frac{e^{j\omega_0}}{z} \Rightarrow z_{02} = e^{j\omega_0} = \cos(\omega_0) + j \sin(\omega_0) \quad |z_{02}| = 1$$

Πόλοι:

$$1 - re^{j\omega_0} z^{-1} = 0 \Rightarrow 1 = re^{j\omega_0} z^{-1} \Rightarrow 1 = \frac{re^{j\omega_0}}{z} \Rightarrow z_{03} = re^{j\omega_0}$$

$$1 - re^{-j\omega_0} z^{-1} = 0 \Rightarrow 1 = re^{-j\omega_0} z^{-1} \Rightarrow 1 = \frac{re^{-j\omega_0}}{z} \Rightarrow z_{04} = re^{-j\omega_0}$$



Αντίστροφα συστήματα

$$H(z) = \frac{A(z)}{B(z)} \begin{array}{l} \nearrow \text{ΜΗΔ. ΡΙΖΕΣ Α} \\ \searrow \text{ΠΟΛΟΙ ΡΙΖΕΣ Β} \end{array}$$

$$G(z) = \frac{1}{H(z)} = \frac{1}{\frac{A(z)}{B(z)}} = \frac{B(z)}{A(z)} \begin{array}{l} \nearrow \text{ΜΗΔ. ΡΙΖΕΣ Β} \\ \searrow \text{ΠΟΛΟΙ ΡΙΖΕΣ Α} \end{array}$$

Το πεδίο σύγκλισης του $G(z)$ πρέπει να είναι επικαλυπτόμενο με το πεδίο σύγκλισης του $H(z)$.

Άσκηση:

$$H(z) = \frac{1 - 0.5z^{-1}}{1 - 0.8z^{-1}} \quad \text{Π.Σ.} > 0.8$$

αντίστροφο? κρουστική?

$$G(z) = \frac{1}{H(z)} \Rightarrow G(z) = \frac{1}{\frac{1 - 0.5z^{-1}}{1 - 0.8z^{-1}}} \Rightarrow G(z) = \frac{1 - 0.8z^{-1}}{1 - 0.5z^{-1}} = \frac{1}{1 - 0.5z^{-1}} - \frac{0.8z^{-1}}{1 - 0.5z^{-1}}$$

$$g(n) = (0.5)^n u(n) - 0.8(0.5)^{n-1} u(n-1) \quad \mu\epsilon \text{ Π.Σ. } |z| > 0.5$$

20^ο ΜΑΘΗΜΑ

Άσκηση:

$$H(z) = \frac{0.5 - z^{-1}}{1 - 0.8z^{-1}} \quad \text{Π.Σ.: } |z| > 0.8$$

αντίστροφο σύστημα?

$$G(z) = \frac{1}{H(z)} = \frac{1}{\frac{0.5 - z^{-1}}{1 - 0.8z^{-1}}} = \frac{1 - 0.8z^{-1}}{0.5 - z^{-1}} \stackrel{(\times 2)}{=} \frac{2 - 1.6z^{-1}}{1 - 2z^{-1}} = \frac{2}{1 - 2z^{-1}} - \frac{1.6z^{-1}}{1 - 2z^{-1}}$$

$$G(z) = 2 \left(\frac{1}{1 - 2z^{-1}} \right) - 1.6 \left(\frac{z^{-1}}{1 - 2z^{-1}} \right)$$

$$\text{Π.Σ.: } \begin{cases} |z| > 2 \\ |z| < 2 \end{cases}$$

1^η περίπτωση

$$|z| > 2: \quad g(n) = 2(2^n u(n)) - 1.6(2^{n-1} u(n-1)) \Rightarrow$$

$$\text{ασταθές} + \text{αιτιατό} \quad g(n) = 2^{n+1} u(n) - 1.6 \cdot 2^{n-1} u(n-1)$$

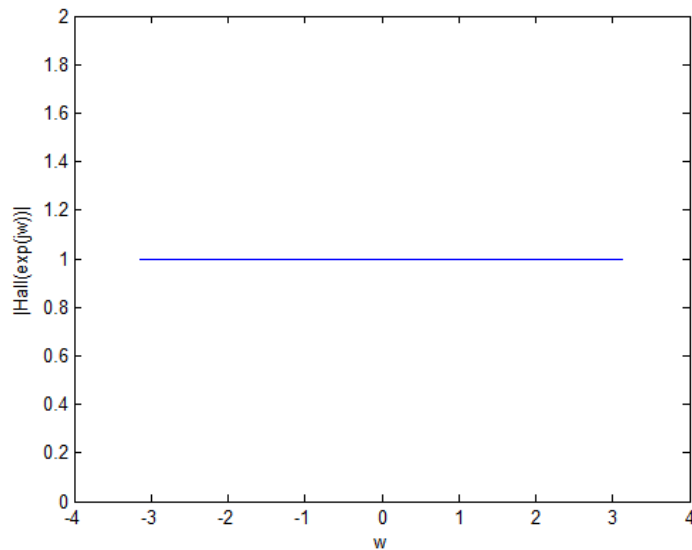
2^η περίπτωση

$$|z| < 2: \quad g(n) = 2(-2^n u(-(n-1))) - 1.6(-2^{n-1} u(-(n-1) - 1)) \Rightarrow$$

$$\text{ασταθές} + \text{μη αιτιατό} \quad g(n) = -2^{n+1} u(-(n-1)) - 1.6 \cdot 2^{n-1} u(-n)$$

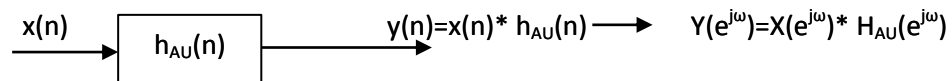
➤ Ολοπερατά φίλτρα

απόκριση συχνότητας 1 $\rightarrow |H(e^{j\omega})|=1$



Αφήνει να περάσουν όλες οι συχνότητες από μέσα του, χωρίς να μεγαλώσει ή να μικρύνει καμία.

Το χρησιμοποιούμε για να αλλάξουμε τη θέση των πόλων και των μηδενιστών.



Το πλάτος θα είναι ίδιο αλλά θα έχει αλλάξει η φάση (η θέση των πόλων και των μηδενιστών).

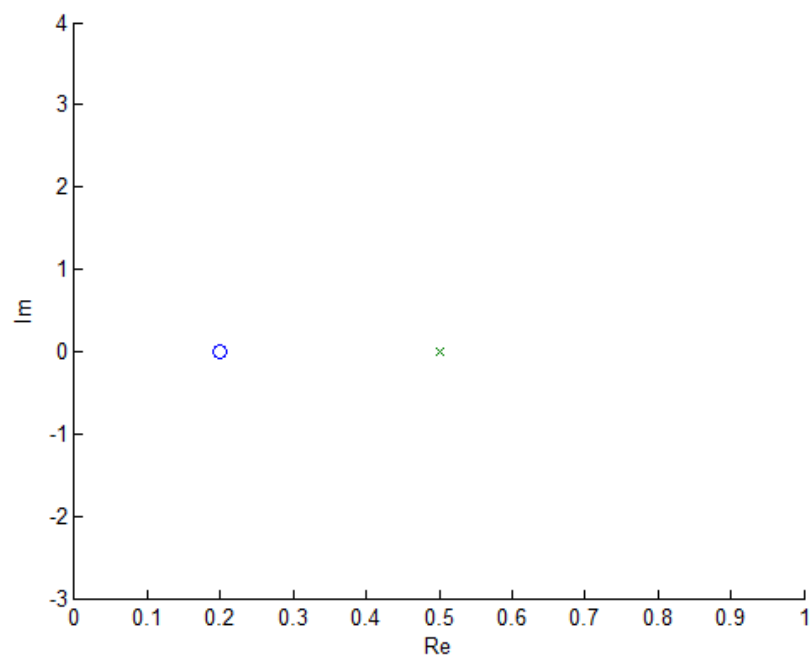
Άσκηση:

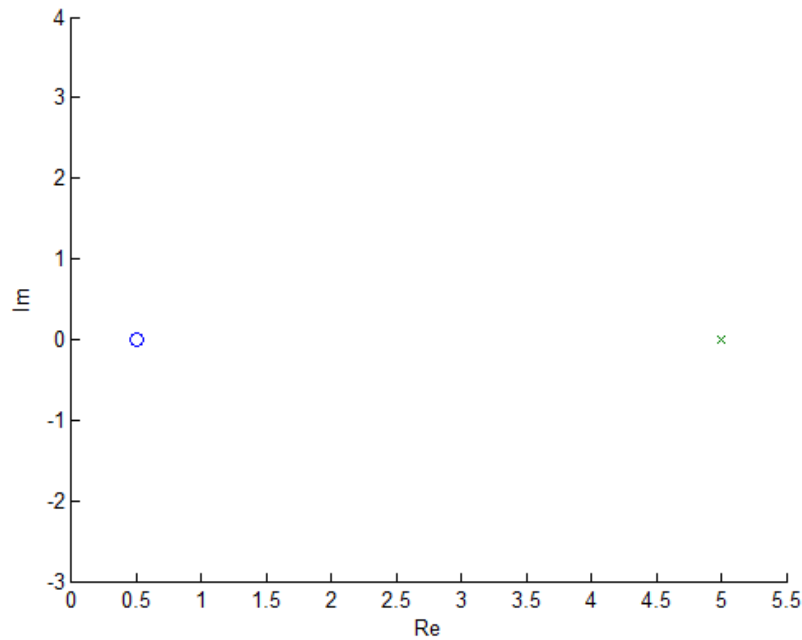
$$H_{ap}(z) = \frac{z^{-1} - 0.2}{1 - 0.2z^{-1}}$$

$$H(z) = \frac{1 - 0.2z^{-1}}{1 - 0.5z^{-1}} \quad \begin{cases} \text{μηδενικά: } 1 - 0.2z^{-1} = 0 \Rightarrow 1 = 0.2z^{-1} \Rightarrow z = 0.2 \\ \text{πόλοι: } 1 - 0.5z^{-1} = 0 \Rightarrow 1 = 0.5z^{-1} \Rightarrow z = 0.5 \end{cases}$$

$$G(z) = H(z) \cdot H_{ap}(z) = \frac{1 - 0.2z^{-1}}{1 - 0.5z^{-1}} \cdot \frac{z^{-1} - 0.2}{1 - 0.2z^{-1}} = \frac{z^{-1} - 0.2}{1 - 0.5z^{-1}}$$

$$\begin{cases} \text{μηδενικά: } z^{-1} = 0.2 = \frac{2}{10} \Rightarrow z = \frac{10}{2} \Rightarrow z = 5 \\ \text{πόλοι: } z = 0.5 \end{cases}$$





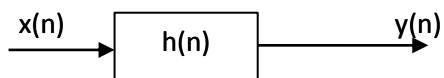
$$\left. \begin{aligned} |H(z)| &= \frac{|1 - 0.2z^{-1}|}{|1 - 0.5z^{-1}|} \\ |G(z)| &= \frac{|z^{-1} - 0.2|}{|1 - 0.5z^{-1}|} \end{aligned} \right\} \text{είναι ίδια}$$

Τα ολοπερατά φίλτρα δεν επηρεάζουν το πλάτος του συστήματος αλλά τη φάση του.

Άσκηση:

$$x(n) = \left(\frac{1}{2}\right)^n u(n) - 2^n u(-n-1) \quad (1)$$

$$y(n) = 6\left(\frac{1}{2}\right)^n u(n) - 6\left(\frac{3}{4}\right)^n u(n) \quad (2)$$



$H(z) = ?$ Να βρεθεί η συνάρτηση μεταφοράς του συστήματος

$$y(n) = x(n) * h(n) \xrightarrow{z} Y(z) = X(z) \cdot H(z) \Rightarrow H(z) = \frac{Y(z)}{X(z)}$$

$$(1) \quad X(z) = \frac{1}{1 - \frac{1}{2}z^{-1}} - \frac{1}{1 - 2z^{-1}} = \frac{\frac{3}{2}z^{-1}}{\left(1 - \frac{1}{2}z^{-1}\right)\left(1 - 2z^{-1}\right)} \quad 1/2 < |z| < 2$$

$$(2) \quad Y(z) = \frac{6}{1 - \frac{1}{2}z^{-1}} - \frac{6}{1 - \frac{3}{4}z^{-1}} = \frac{-\frac{3}{2}z^{-1}}{\left(1 - \frac{1}{2}z^{-1}\right)\left(1 - \frac{3}{4}z^{-1}\right)} \quad |z| > 3/4$$

περιοχή σύγκλισης
της εξόδου

$$\Rightarrow H(z) = \frac{\frac{-\frac{3}{2}z^{-1}}{\left(1 - \frac{1}{2}z^{-1}\right)\left(1 - \frac{3}{4}z^{-1}\right)}}{\frac{\frac{3}{2}z^{-1}}{\left(1 - \frac{1}{2}z^{-1}\right)\left(1 - 2z^{-1}\right)}} = \frac{(1 - 2z^{-1})}{\left(1 - \frac{3}{4}z^{-1}\right)}$$

$$\text{Π.Σ.:} \begin{cases} |z| > 3/4 \\ |z| < 3/4 \end{cases}$$

Διαλέγουμε την πάνω περιοχή σύγκλισης γιατί θα πρέπει να επικαλύπτεται με την περιοχή σύγκλισης της εξόδου του συστήματος.

Άσκηση:

$$(1+k) - 1.2z^{-1} = 0 \Rightarrow 1+k = \frac{1.2}{z} \Rightarrow z = \frac{1.2}{1+k} \rightarrow \text{πόλος}$$

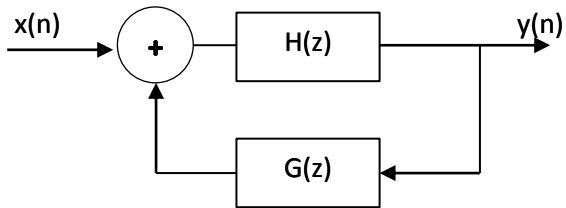
$$H(z) = \frac{1}{1 - 1.2z^{-1}}$$

$$G(z) = k$$

$$Q(z) = \frac{H(z)}{1 + G(z)H(z)} = \frac{\frac{1}{1 - 1.2z^{-1}}}{1 + k \frac{1}{1 - 1.2z^{-1}}} = \frac{1}{(1+k) - 1.2z^{-1}}$$

$$\left| \frac{1.2}{1+k} \right| < 1 \Rightarrow 1.2 < 1+k \Rightarrow k > 0.2$$

Αν βάλω k μεγαλύτερο του 0.2, τότε ο πόλος θα μπει εντός του μοναδιαίου κύκλου και το σύστημα θα γίνει ευσταθές!



Άσκηση:

$$H(z) = \frac{1}{1 - z^{-1} + 1.44z^{-2}}$$

$$G(z) = k$$

$$Q(z) = \frac{H(z)}{1 + G(z)H(z)} = \frac{\frac{1}{1 - z^{-1} + 1.44z^{-2}}}{1 + k \frac{1}{1 - z^{-1} + 1.44z^{-2}}} = \frac{\frac{1}{1+k}}{1 + \frac{1}{1+k}z^{-1} + \frac{1.44}{1+k}z^{-2}}$$

$$|a(2)| < 1$$

$$|a(1)| < 1 + a(2)$$

$$\left. \begin{aligned} \left| \frac{1.44}{1+k} \right| < 1 &\Rightarrow 1.44 < 1+k \Rightarrow k > 0.44 \\ \left| \frac{1}{1+k} \right| < 1 + \frac{1.44}{1+k} &\Rightarrow \frac{1}{1+k} < \frac{k+2.44}{1+k} \end{aligned} \right\} \Rightarrow k > 0.44$$

Άσκηση:

$$H(z) = \frac{z^{-1} - b}{1 - az^{-1}}$$

$$H(z) = \frac{Y(z)}{X(z)} = \frac{z^{-1} - b}{1 - az^{-1}}$$

$$\Rightarrow Y(z) \cdot (1 - az^{-1}) = (z^{-1} - b) \cdot X(z)$$

$$\Rightarrow Y(z)1 - az^{-1}Y(z) = -bX(z) + z^{-1}X(z)$$

$$\downarrow z^{-1}$$

$$y(n) - ay(n-1) = -bx(n) + x(n-1) \Rightarrow$$

$$y(n) = ay(n-1) - bx(n) + x(n-1)$$

21° ΜΑΘΗΜΑ

Άσκηση:

$$H(z) = \frac{z^{-1} - a^*}{1 - az^{-1}} \quad |a| < 1$$

α) Γενική εξίσωση?

$$H(z) = \frac{Y(z)}{X(z)} = \frac{z^{-1} - a^*}{1 - az^{-1}} \Rightarrow Y(z)(1 - az^{-1}) = X(z)(z^{-1} - a^*) \Rightarrow$$

$$Y(z) - az^{-1}Y(z) = X(z)z^{-1} \Rightarrow y(n) - ay(n-1) = x(n-1) - a^*x(n) \Rightarrow$$

$$y(n) = ay(n-1) - a^*x(n) + x(n-1)$$

β) Να εξεταστεί αν το σύστημα είναι ένα ολοπερατό φίλτρο? (πλάτος συχνότητας=1)

$$|H(e^{j\omega})| = 1 \quad |H(e^{j\omega})| = H(z)|_{z=e^{j\omega}} = \frac{e^{-j\omega} - a^*}{1 - e^{-j\omega}}$$

$$z = re^{j\omega} \quad |z| = z \cdot z^* = (a + jb)(a - jb)$$

$$r = 1 \rightarrow \text{μοναδιαίος κύκλος}$$

$$\text{άρα } z = e^{j\omega}$$

$$|H(e^{j\omega})| = H(e^{j\omega}) \cdot H^*(e^{j\omega}) = \frac{e^{-j\omega} - a^*}{1 - ae^{-j\omega}} \cdot \left(\frac{e^{-j\omega} - a^*}{1 - ae^{-j\omega}} \right)^* = \frac{e^{-j\omega} - a^*}{1 - ae^{-j\omega}} \cdot \frac{e^{j\omega} - a}{1 - ae^{j\omega}} \Rightarrow \dots \Rightarrow$$

$$|H(e^{j\omega})| = \frac{1 + |a|^2 - 2\operatorname{Re}\{a^* \dots e^{j\omega}\}}{1 + |a|^2 - 2\operatorname{Re}\{a^* \dots e^{j\omega}\}} = 1$$

άρα το σύστημα είναι ένα ολοπερατό φίλτρο.

γ)

$$H(z)G(z) = 1 \Rightarrow G(z) = \frac{1}{H(z)} = \frac{1}{\frac{z^{-1} - a^*}{1 - az^{-1}}} =$$

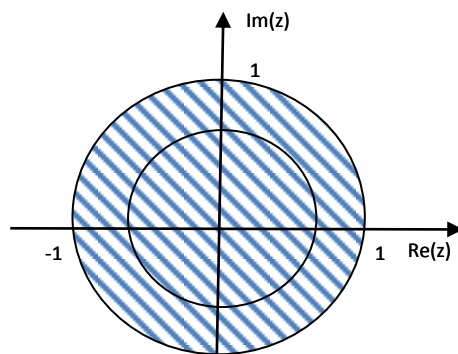
$$= \frac{1 - az^{-1}}{z^{-1} - a^*} = -\frac{1}{a} \cdot \frac{1 - az^{-1}}{1 - (a^* z)^{-1}}$$

Μηδενικό: $z=a$

Πόλος:

$$z = \frac{1}{a^*} \quad \left| \frac{1}{a^*} \right| > 1$$

$$\text{Π.Σ. } |z| < \left| \frac{1}{a^*} \right|$$



$$\text{Π.Σ. } |z| < |1/a^*|$$

$$g(n) = (a^*)^{-n-1} u(-n-1) - a(a^*)^{-(n-1)} u(-n)$$

Άσκηση:

$$h(n) = 2^n u(n) - 0.25 \cdot 2^{n-1} u(n-1)$$

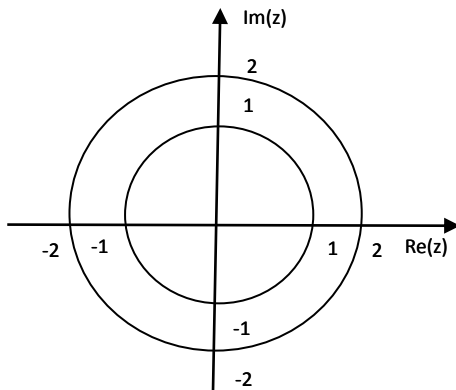
$$x(n - n_0) \xleftrightarrow{z} z^{-n_0} X(z)$$

α) Συνάρτηση μεταφοράς

$$H(z) = \frac{1}{1-2z^{-1}} - 0.25 \frac{z^{-1}}{1-2z^{-1}} = \frac{1-0.25z^{-1}}{1-2z^{-1}} = \frac{A(z)}{B(z)}$$

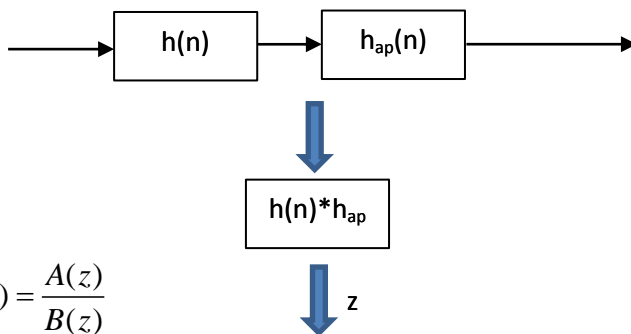
$$\left\{ \begin{array}{l} \text{Μηδενικά: } 1-0.25z^{-1} = 0 \Rightarrow 1 = 0.25z^{-1} \Rightarrow 1 = \frac{1}{4} z^{-1} \Rightarrow 4 = z^{-1} \Rightarrow z = 1/4 \\ \text{Πόλοι: } 1-2z^{-1} = 0 \Rightarrow 1 = 2z^{-1} \Rightarrow 1 = \frac{2}{z} \Rightarrow z = 2 \end{array} \right.$$

Π.Σ. $|z| > 2$



αιτιατό, μη ευσταθές

β) $G(z)$ σε σειρά ώστε να μην πειραχτεί η κρουστική αλλά να γίνει ευσταθές



$$H(z) = \frac{A(z)}{B(z)}$$

$$H_{ap}(z) = \frac{C(z)}{D(z)}$$

$$G(z) = H(z) \cdot H_{ap}(z) = \frac{A(z)}{B(z)} \cdot \frac{C(z)}{D(z)}$$

Φτιάχνω ολοπερατό φίλτρο για να απαλείψω τον πόλο $z=2$

$$H_{ap}(z) = \frac{z^{-1} - a^*}{1 - az^{-1}} \stackrel{\times(-2)}{=} \frac{-2z^{-1} + 2a^*}{-2 + 2az^{-1}} \Rightarrow \frac{C(z)}{D(z)}$$

$$+2a^* = 1 \Rightarrow a^* = 1/2 \Rightarrow a = 1/2$$

$$H_{ap}(z) = \frac{z^{-1} - 1/2}{1 - 1/2z^{-1}} = \frac{-2z^{-1} + 1}{-2 + z^{-1}}$$

$$H(z) \cdot H_{ap}(z) = \frac{1 - 0.25z^{-1}}{1 - 2z^{-1}} \cdot \frac{1 - 2z^{-1}}{z^{-1} - 2} = \frac{1 - 0.25z^{-1}}{z^{-1} - 2} \begin{cases} \text{Μηδενικά: } z = 1/4 \\ \text{Πόλοι: } z^{-1} - 2 = 0 \Rightarrow z^{-1} = 2 \Rightarrow z = 1/2 \end{cases}$$

$$\text{Π.Σ.: } |z| > 1/2$$

ΟΛΟΠΕΡΑΤΑ ΦΙΛΤΡΑ

- Μεταφορά Μηδενικού:

$$a_0 \rightarrow 1/a_0$$

$$A(z) = D(z) \rightarrow G(z) = \frac{A(z)}{B(z)} \cdot \frac{C(z)}{D(z)} = \frac{C(z)}{B(z)}$$

- Μεταφορά Πόλου:

$$b_0 \rightarrow 1/b_0$$

$$B(z) = C(z) \rightarrow G(z) = \frac{A(z)}{B(z)} \cdot \frac{C(z)}{D(z)} = \frac{A(z)}{D(z)}$$

Απαλείφω πόλο

$$H_{ap}(z) = \frac{z^{-1} - a^*}{1 - az^{-1}} = \frac{-2(z^{-1} - a^*)}{-2(1 - az^{-1})} = \frac{-2z^{-1} + 2a^*}{-2 + 2az^{-1}} = \frac{C(z)}{D(z)}$$

$$B(z) = C(z) \Rightarrow 1 - 2z^{-1} = -2z^{-1} + 2a^* \Rightarrow 1 = 2a^* \Rightarrow a^* = 1/2 \Rightarrow a = 1/2$$

Απαλείφω το μηδενικό $z=1/4$

$$H_{ap}(z) = \frac{z^{-1} - a^*}{1 - az^{-1}} = \frac{C(z)}{D(z)}$$

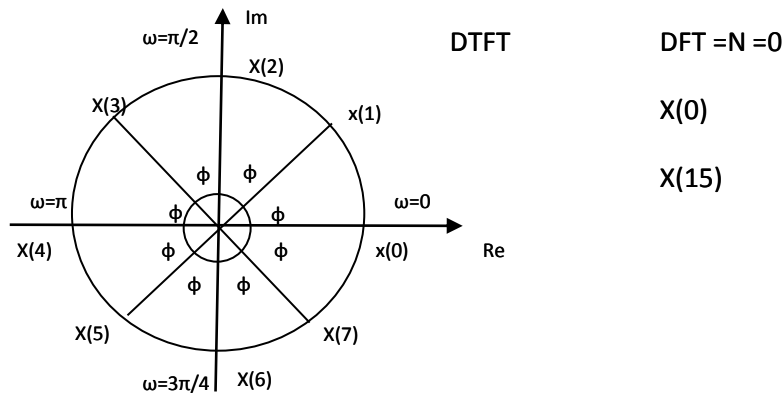
$$A(z) = D(z) \Rightarrow 1 - 0.25z^{-1} = 1 - az^{-1} \Rightarrow a - 0.25 = 1/4 \Rightarrow a^* = 1/4$$

$$G(z) = H(z)H_{ap}(z) = \frac{1 - 0.25z^{-1}}{1 - 2z^{-1}} \cdot \frac{0.25z^{-1}}{1 - 0.25z^{-1}} = \frac{z^{-1} - 0.25}{1 - 2z^{-1}}$$

$$\text{νέο μηδενικό: } z^{-1} = 0.25 \Rightarrow z = 4$$

22^ο ΜΑΘΗΜΑ

Μετασχηματισμός DFT Fourier



$$x_1(n) = \delta(n)$$

DFT N-σημείων

$$\begin{aligned} x(k) &= \sum_{n=0}^{N-1} x(n) e^{-j \frac{2\pi nk}{N}} = \sum_{n=0}^{N-1} \delta(n) e^{-j \frac{2\pi nk}{N}} = \\ &= \delta(0) e^{-j \frac{2\pi 0k}{N}} + \delta(1) e^{-j \frac{2\pi 1k}{N}} + \delta(2) e^{-j \frac{2\pi 2k}{N}} + \dots \Rightarrow \\ &\Rightarrow x(k) = 1 e^{-j0} = 1 e^0 = 1 \cdot 1 = 1 \quad 0 \leq k \leq N-1 \end{aligned}$$

Άσκηση:

$$x_2(n) = \delta(n - n_0)$$

$$\begin{aligned} x_2(k) &= \sum_{n=0}^{N-1} x_2(n) e^{-j \frac{2\pi nk}{N}} = \sum_{n=0}^{N-1} \delta(n - n_0) e^{-j \frac{2\pi nk}{N}} = \\ &= \delta(0 - n_0) e^{-j \frac{2\pi 0k}{N}} + \delta(1 - n_0) e^{-j \frac{2\pi 1k}{N}} + \dots + \delta((n_0 - 1) - n_0) e^{-j \frac{2\pi (n_0 - 1)k}{N}} + \delta(n_0 - n_0) e^{-j \frac{2\pi n_0 k}{N}} + \\ &\quad + \delta((n_0 + 1) - n_0) e^{-j \frac{2\pi (n_0 + 1)k}{N}} + \dots + \delta((N - 1) - n_0) e^{-j \frac{2\pi (N - 1)k}{N}} \Rightarrow \\ &\Rightarrow x_2(k) = \delta(n_0 - n_0) e^{-j \frac{2\pi n_0 k}{N}} = \delta(0) e^{-j \frac{2\pi n_0 k}{N}} = 1 e^{-j \frac{2\pi n_0 k}{N}} = e^{-j \frac{2\pi n_0 k}{N}} \quad 0 \leq k \leq N - 1 \end{aligned}$$

Άσκηση:

$$x_2(n) = \delta(n - 2)$$

DFT 5-σημείων $\rightarrow N = 5$

$$\begin{aligned} x(k) &= \sum_{n=0}^{N-1} x(n) e^{-j \frac{2\pi nk}{N}} = \sum_{n=0}^4 \delta(n - 2) e^{-j \frac{2\pi nk}{N}} \Rightarrow \\ &\Rightarrow x(k) = \delta(0 - 2) e^{-j \frac{2\pi 0k}{5}} + \delta(1 - 2) e^{-j \frac{2\pi 1k}{5}} + \dots + \delta(2 - 2) e^{-j \frac{2\pi 2k}{5}} + \delta(3 - 2) e^{-j \frac{2\pi 3k}{5}} + \delta(4 - 2) e^{-j \frac{2\pi 4k}{5}} \Rightarrow \\ &\Rightarrow x(k) = \delta(-2) e^0 + \delta(-1) e^{-j \frac{2\pi k}{5}} + \delta(0) e^{-j \frac{4\pi k}{5}} + \delta(1) e^{-j \frac{6\pi k}{5}} + \delta(2) e^{-j \frac{8\pi k}{5}} \Rightarrow \\ &\Rightarrow x(k) = \delta(0) e^{-j \frac{4\pi k}{N}} = 1 e^{-j \frac{4\pi k}{5}} = e^{-j \frac{4\pi k}{5}} \quad 0 \leq k \leq 4 \end{aligned}$$

$$\delta(0) = 1 \rightarrow \text{πάντα}$$

Άσκηση:

$$x(n) = \delta(n) + 2\delta(n-5)$$

DFT 10 – σημείων

$$x(k) = \sum_{n=0}^{N-1} x(n) e^{-j \frac{2\pi nk}{N}} = \sum_{n=0}^9 (\delta(n) + 2\delta(n-5)) e^{-j \frac{2\pi nk}{10}} \Rightarrow$$

$$\Rightarrow x(k) = \sum_{n=0}^9 \delta(n) e^{-j \frac{2\pi nk}{10}} + 2 \sum_{n=0}^9 \delta(n-5) e^{-j \frac{2\pi nk}{10}} \Rightarrow$$

$$\Rightarrow x(k) = \delta(0) e^{-j \frac{2\pi 0k}{10}} + 2\delta(5-5) e^{-j \frac{2\pi 5k}{10}} = 1e^0 + 2 \cdot 1e^{-j \frac{10\pi k}{10}} = 1 + 2e^{-j\pi k} \quad 0 \leq k \leq 9$$

Άσκηση:

$$x(n) = \delta(n) + 2\delta(n-2) + \delta(n-3)$$

DFT 4 – σημείων

$$x(k) = \sum_{n=0}^{N-1} x(n) e^{-j \frac{2\pi nk}{N}} = \sum_{n=0}^3 (\delta(n) + 2\delta(n-2) + \delta(n-3)) e^{-j \frac{2\pi nk}{4}} \Rightarrow$$

$$\Rightarrow x(k) = \sum_{n=0}^3 \delta(n) e^{-j \frac{2\pi nk}{4}} + 2 \sum_{n=0}^3 \delta(n-2) e^{-j \frac{2\pi nk}{4}} + \sum_{n=0}^3 \delta(n-3) e^{-j \frac{2\pi nk}{4}} \Rightarrow$$

$$\Rightarrow x(k) = \delta(0) e^0 + 2\delta(2-2) e^{-j \frac{2\pi 2k}{4}} + \delta(3-3) e^{-j \frac{2\pi 3k}{4}} \Rightarrow$$

$$\Rightarrow x(k) = 1 + 2 \cdot 1e^{-j \frac{4\pi k}{4}} + 1e^{-j \frac{6\pi k}{4}} \Rightarrow$$

$$\Rightarrow x(k) = 1 + 2e^{-j\pi k} + e^{-j \frac{3\pi k}{2}} \quad 0 \leq k \leq 3$$

Άσκηση:

$$x(n) = a^n \quad 0 \leq n \leq N$$

DFT N – σημείων

$$x(k) = \sum_{n=0}^{N-1} x(n) e^{-j \frac{2\pi nk}{N}} = \sum_{n=0}^{N-1} a^n e^{-j \frac{2\pi nk}{N}} = \sum_{n=0}^{N-1} \left(a e^{-j \frac{2\pi k}{N}} \right)^n \Rightarrow$$

$$\Rightarrow x(k) = \frac{1 - \left(a e^{-j \frac{2\pi k}{N}} \right)^N}{1 - \left(a e^{-j \frac{2\pi k}{N}} \right)} \quad 0 \leq k \leq N-1$$

Άσκηση:

$$x(n) = u(n) - u(n - n_0)$$

DFT N-σημείων $0 \leq n_0 < N$

$$x(k) = \sum_{n=0}^{N-1} x(n) e^{-j \frac{2\pi nk}{N}} = \sum_{n=0}^{N-1} (u(n) - u(n - n_0)) e^{-j \frac{2\pi nk}{N}} \Rightarrow$$

$$\Rightarrow x(k) = \sum_{n=0}^{N-1} u(n) e^{-j \frac{2\pi nk}{N}} - \sum_{n=0}^{N-1} u(n - n_0) e^{-j \frac{2\pi nk}{N}} \Rightarrow$$

$$\Rightarrow x(k) = \sum_{n=0}^{N-1} e^{-j \frac{2\pi nk}{N}} - \left(\sum_{n=0}^{n_0-1} u(n - n_0) e^{-j \frac{2\pi nk}{N}} + \sum_{n=n_0}^{N-1} u(n - n_0) e^{-j \frac{2\pi nk}{N}} \right) \Rightarrow$$

$$\Rightarrow x(k) = \sum_{n=0}^{N-1} e^{-j \frac{2\pi nk}{N}} - \sum_{n=n_0}^{N-1} e^{-j \frac{2\pi nk}{N}} \Rightarrow x(k) = \sum_{n=0}^{n_0-1} e^{-j \frac{2\pi nk}{N}} + \sum_{n=n_0}^{N-1} e^{-j \frac{2\pi nk}{N}} - \sum_{n=n_0}^{N-1} e^{-j \frac{2\pi nk}{N}} \Rightarrow$$

$$\Rightarrow x(k) = \sum_{n=0}^{n_0-1} e^{-j \frac{2\pi nk}{N}} = \frac{1 - \left(e^{-j \frac{2\pi nk}{N}} \right)^{n_0}}{1 - e^{-j \frac{2\pi nk}{N}}} \quad 0 \leq k \leq N-1$$

23^ο ΜΑΘΗΜΑ

z

$$\begin{array}{c} \xrightarrow{X(z)} \boxed{H(z)} \xrightarrow{Y(z)} \end{array} \quad Y(z) = X(z) \cdot H(z) \Rightarrow H(z) = \frac{Y(z)}{X(z)}$$

Διακριτός
Χρόνος n

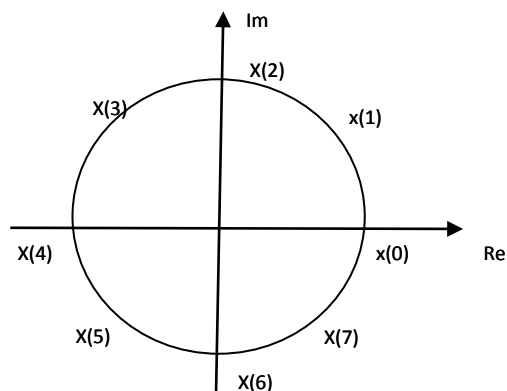
$$\begin{array}{c} \xrightarrow{x(n)} \boxed{h(n)} \xrightarrow{y(n)} \end{array} \quad y(n) = x(n) * h(n)$$

DTFT
ω

$$\begin{array}{c} \xrightarrow{X(e^{j\omega})} \boxed{H(e^{j\omega})} \xrightarrow{Y(e^{j\omega})} \end{array} \quad Y(e^{j\omega}) = X(e^{j\omega}) \cdot H(e^{j\omega}) \Rightarrow H(e^{j\omega}) = \frac{Y(e^{j\omega})}{X(e^{j\omega})}$$

DFT
matlab fft

$$\begin{array}{c} \xrightarrow{X(k)} \boxed{H(k)} \xrightarrow{Y(k)} \end{array} \quad Y(k) = X(k) \cdot H(k) \Rightarrow H(k) = \frac{Y(k)}{X(k)}$$



Άσκηση:

$$x(n) = 3\delta(n) - 7\delta(n-1) + 4\delta(n-2) - 5\delta(n-8)$$

DFT10 – σημείων

$$\begin{aligned} x(k) &= \sum_{n=0}^{N-1} x(n) e^{-j\frac{2\pi nk}{N}} = \sum_{n=0}^9 (3\delta(n) - 7\delta(n-1) + 4\delta(n-2) - 5\delta(n-8)) e^{-j\frac{2\pi nk}{4}} \Rightarrow \\ \Rightarrow x(k) &= \sum_{n=0}^9 3\delta(n) e^{-j\frac{2\pi nk}{10}} - \sum_{n=0}^9 7\delta(n-1) e^{-j\frac{2\pi nk}{10}} + \sum_{n=0}^9 4\delta(n-2) e^{-j\frac{2\pi nk}{10}} - \sum_{n=0}^9 5\delta(n-8) e^{-j\frac{2\pi nk}{10}} \Rightarrow \\ \Rightarrow x(k) &= 3\delta(0)e^0 - 7\delta(1-1)e^{-j\frac{2\pi 1k}{10}} + 4\delta(2-2)e^{-j\frac{2\pi 2k}{10}} - 5\delta(n-8)e^{-j\frac{2\pi 8k}{10}} \Rightarrow \\ \Rightarrow x(k) &= 3 \cdot 1 \cdot 1 - 7 \cdot 1 e^{-j\frac{2\pi k}{10}} + 4e^{-j\frac{4\pi k}{10}} - 5e^{-j\frac{16\pi k}{10}} \quad 0 \leq k \leq 10 \end{aligned}$$

Άσκηση:

$$x(n) = 3\delta(n) - 7\delta(n-1)$$

DFT 4 – σημείων $\rightarrow N = 4$

$$\begin{aligned} x(k) &= \sum_{n=0}^{N-1} x(n) e^{-j\frac{2\pi nk}{N}} = \sum_{n=0}^3 (3\delta(n) - 7\delta(n-1)) e^{-j\frac{2\pi nk}{4}} \Rightarrow \\ \Rightarrow x(k) &= 3 \sum_{n=0}^3 \delta(n) e^{-j\frac{2\pi nk}{4}} - 7 \sum_{n=0}^9 \delta(n-1) e^{-j\frac{2\pi nk}{4}} \\ \sum_{n=0}^3 \delta(n) e^{-j\frac{2\pi nk}{4}} &= \delta(0)e^{-j\frac{2\pi 0k}{4}} + \delta(1)e^{-j\frac{2\pi 1k}{4}} + \delta(2)e^{-j\frac{2\pi 2k}{4}} + \delta(3)e^{-j\frac{2\pi 3k}{4}} \\ \sum_{n=0}^9 \delta(n-1) e^{-j\frac{2\pi nk}{4}} &= \delta(0-1)e^{-j\frac{2\pi 0k}{4}} + \delta(1-1)e^{-j\frac{2\pi 1k}{4}} + \delta(2-1)e^{-j\frac{2\pi 2k}{4}} + \delta(3-1)e^{-j\frac{2\pi 3k}{4}} \\ \text{άρα } x(k) &= 3e^0 - 7e^{-j\frac{2\pi k}{4}} = 3 - 7e^{-j\frac{\pi k}{2}} \quad 0 \leq k \leq 4 \end{aligned}$$

Άσκηση:

$$x(n) = u(n) - u(n-4)$$

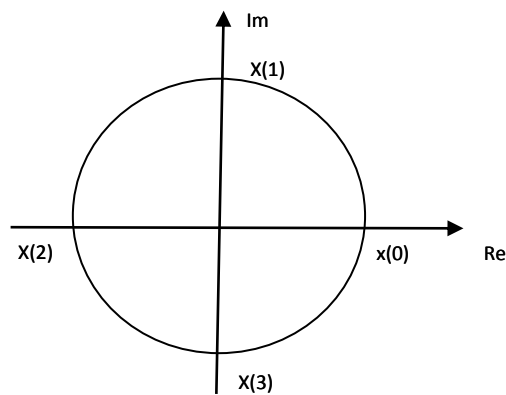
DFT10-σημείων

$$\begin{aligned} x(k) &= \sum_{n=0}^{N-1} x(n) e^{-j \frac{2\pi nk}{N}} = \sum_{n=0}^9 (u(n) - u(n-4)) e^{-j \frac{2\pi nk}{10}} = \\ &= \sum_{n=0}^9 u(n) e^{-j \frac{2\pi nk}{10}} - \sum_{n=0}^9 u(n-4) e^{-j \frac{2\pi nk}{10}} \Rightarrow \\ \Rightarrow x(k) &= \sum_{n=0}^9 e^{-j \frac{2\pi nk}{10}} - \left(\sum_{n=0}^3 u(n-4) e^{-j \frac{2\pi nk}{10}} + \sum_{n=4}^9 u(n-4) e^{-j \frac{2\pi nk}{10}} \right) \Rightarrow \\ \Rightarrow x(k) &= \sum_{n=0}^9 e^{-j \frac{2\pi nk}{10}} - \sum_{n=n_0}^9 e^{-j \frac{2\pi nk}{10}} \Rightarrow x(k) = \sum_{n=0}^3 e^{-j \frac{2\pi nk}{10}} + \sum_{n=4}^9 e^{-j \frac{2\pi nk}{10}} - \sum_{n=4}^9 e^{-j \frac{2\pi nk}{10}} \Rightarrow \\ \Rightarrow x(k) &= \sum_{n=0}^3 e^{-j \frac{2\pi nk}{10}} \Rightarrow x(k) = \frac{1 - \left(e^{-j \frac{2\pi nk}{10}} \right)^4}{1 - e^{-j \frac{2\pi nk}{10}}} \end{aligned}$$

$$\boxed{\sum_{n=0}^{N-1} A^n = \frac{1-A^N}{1-A}}$$

Άσκηση:

$$X(z) = \frac{z + 2z^{-1}}{1 - z^{-2}}$$



DFT

$$x(0) = X(z) \big|_{z=1} = \frac{1+2(1)^{-1}}{1-(1)^{-2}} = \dots$$

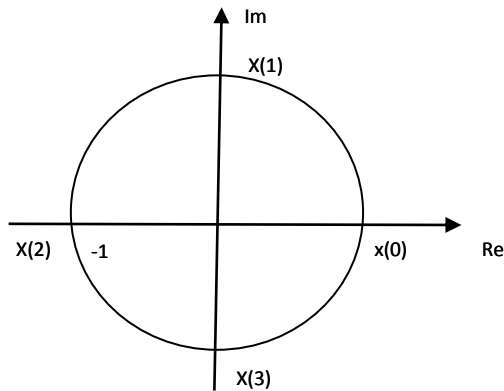
$$x(1) = X(z) \big|_{z=e^{j\pi/2}} = \frac{1+2(e^{j\pi/2})^{-1}}{1-(e^{j\pi/2})^{-2}} = \dots$$

$$x(2) = X(z) \big|_{z=e^{j\pi}} = \frac{1+2(e^{j\pi})^{-1}}{1-(e^{j\pi})^{-2}} = \dots$$

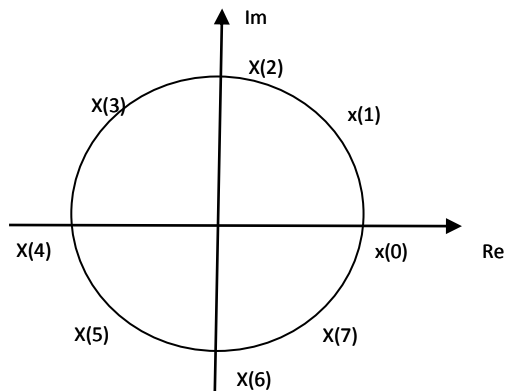
$$x(3) = X(z) \big|_{z=e^{3j\pi/2}} = \frac{1+2(e^{3j\pi/2})^{-1}}{1-(e^{3j\pi/2})^{-2}} = \dots$$

Να υπολογιστεί για DFT 4 σημείων τον τρίτο συντελεστή

$$x(2) = X(z) \big|_{z=e^{j\pi} = -1}$$



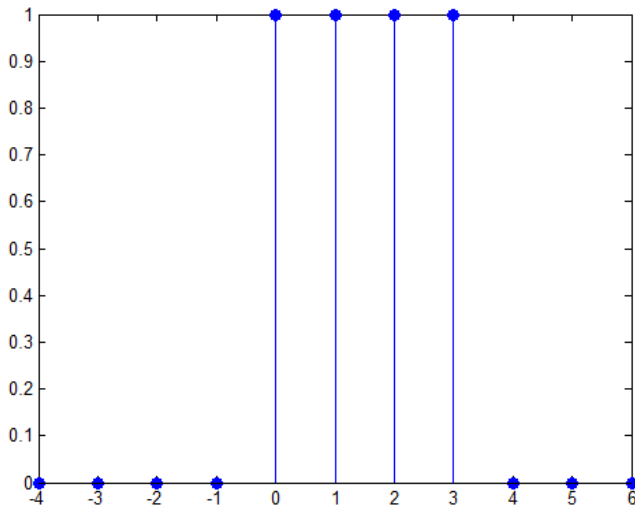
8 σημείων x(2) x(4)?



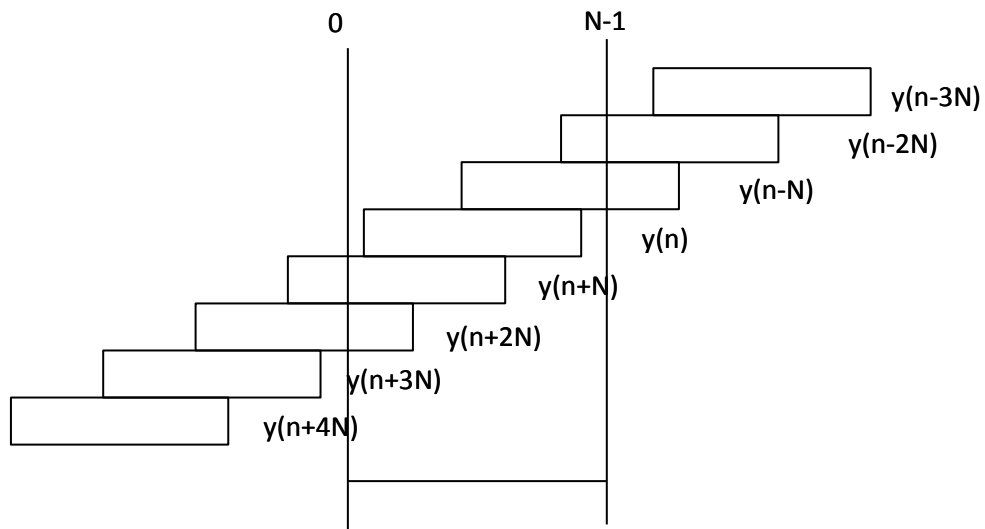
$$x(2) = X(z) \big|_{z=e^{j\pi/2}} = \dots$$

$$x(4) = X(z) \big|_{z=e^{j\pi}} = \dots$$

- Κυκλική Μετατόπιση



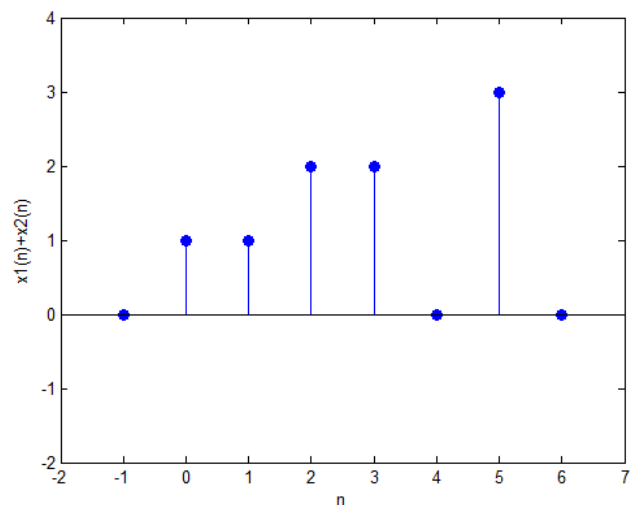
Η κυκλική μετατόπιση έχει νόημα μόνο για $N-1$ μετατοπίσεις.



Άσκηση:

$$y(n) = x_1(n) * x_2(n) = \delta(n) + \delta(n-1) + 2\delta(n-2) + 2\delta(n-3) + 3\delta(n-5)$$

$$x_1(n) \quad (4) \quad x_2(n)$$



	-3	-2	-1	0	1	2	3	4	5	6	7	
$y(n-8)$	0	0	0	0	0	0	0	0	0	0	0	11
$y(n-4)$	0	0	0	0	0	0	0	1	1	2	2	03
$y(n)$	0	0	0	1	1	2	2	0	3	0	0	
$y(n+4)$	1	2	2	0	3	0	0	0	0	0	0	
$y(n+8)$	3	0	0	0	0	0	0	0	0	0	0	
			+	1	4	2	2					

άρα

$$x_1(n) \text{ (4) } x_2(n) = \delta(n) + 4\delta(n-1) + 2\delta(n-2) + 2\delta(n-3)$$

Άσκηση:

$$y(n) = x_1(n) * x_2(n) = \delta(n) + \delta(n-1) + 2\delta(n-2) + 2\delta(n-3) + 3\delta(n-5)$$

$$x_1(n) \text{ (2) } x_2(n)$$

	-4	-3	-2	-1	0	1	2	3	4	5	6	7
$y(n-2)$												
$y(n)$	0	0	0	0	1	1	2	2	0	3	0	0
$y(n+2)$	0	0	1	1	2	2	0	3	0	0	0	0
$y(n+4)$	1	1	2	2	0	3	0	0	0	0	0	0
				+	3	6						

άρα

$$x_1(n) \quad (2) \quad x_2(n) = 3\delta(n) + 6\delta(n-1)$$

24° ΜΑΘΗΜΑ

➤ Υλοποίηση Συστημάτων Διακριτού Χρόνου

1) FIR (πεπερασμένης κρουστικής απόκρισης)

πεπερασμένου μήκους, π.χ. $y=2x(n)-5x(n-3)$ με $q=3$ (*)

2) IIR (άπειρης κρουστικής απόκρισης)

π.χ. $u(n) \rightarrow$ π.χ. $y(n)=2x(n)-3x(n-2)+y(n-2)$ (**)

Ανάλογα με το μήκος του συστήματος χωρίζονται.

ΓΕΔΣΣ

$$y(n) = \sum_{k=0}^q b(k)x(n-k) - \sum_{k=1}^p a(k)y(n-k)$$

Αν υπάρχει έστω και μια μη μηδενική τιμή στο a , τότε το σύστημα είναι IIR, ενώ αν δεν υπάρχει είναι FIR.

$$(*) \quad y(n) = \sum_{k=0}^3 b(k)x(n-k) \quad q=3$$

με $b(0)=2$

$b(1)=b(2)=0$

$b(3)=-5$

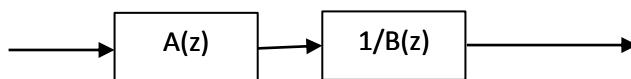
$$\begin{aligned} (**) \quad y(n) &= 2x(n) + 0x(n-1) - 3x(n-2) + 0y(n-1) + 1y(n-2) = \\ &= \sum_{k=0}^q b(k)x(n-k) - \sum_{k=1}^p a(k)y(n-k) \end{aligned}$$

με $b(0)=2$ $a(1)=0$

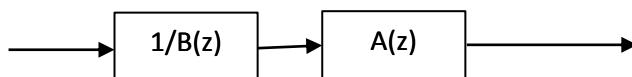
$b(1)=0$ $a(2)=-1$

$$b(2)=-3$$

$$H(z) = \frac{A(z)}{B(z)} = \underbrace{(A(z))}_{\text{ΜΟΡΦΗ I}} \underbrace{\left(\frac{1}{B(z)}\right)}_{\substack{\text{ΜΟΡΦΗ II} \\ \text{Διάταξη} \\ \text{Καταράκτη}}}$$



ΜΟΡΦΗ I

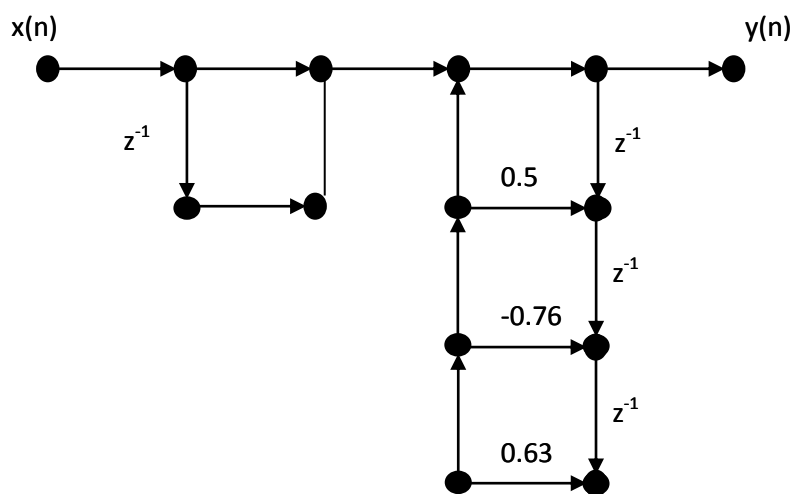


ΜΟΡΦΗ II (γλιτώνω
καθυστερητές)

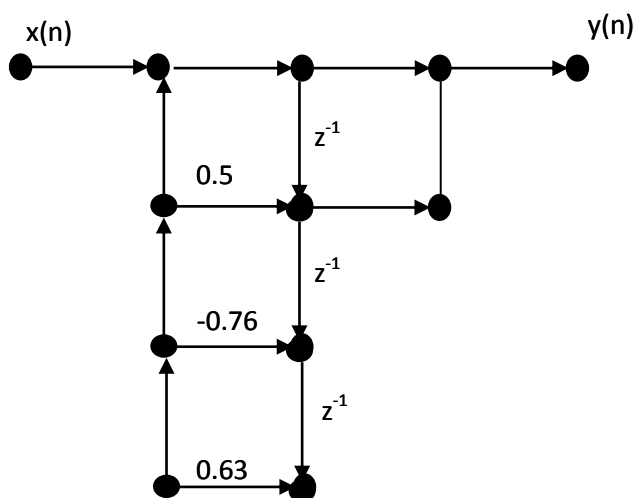
Άσκηση:

$$H(z) = \frac{1 + 0.875z^{-1}}{1 - 0.5z^{-1} + 0.76z^{-2} - 0.63z^{-3}}$$

ΜΟΡΦΗ I



ΜΟΡΦΗ II



Η ΜΟΡΦΗ II υπερτερεί της ΜΟΡΦΗΣ I γιατί γλιτώνουμε έναν καθυστερητή.

Άσκηση:

$$H(z) = \frac{1 + 0.875z^{-1}}{1 - 0.5z^{-1} + 0.76z^{-2} - 0.63z^{-3}} \Rightarrow H(z) = \frac{Y(z)}{X(z)} = \frac{1 + 0.875z^{-1}}{1 - 0.5z^{-1} + 0.76z^{-2} - 0.63z^{-3}} \Rightarrow$$

$$\Rightarrow Y(z)(1 - 0.5z^{-1} + 0.76z^{-2} - 0.63z^{-3}) = X(z)(1 + 0.875z^{-1}) \Rightarrow$$

$$\Rightarrow Y(z) - 0.5z^{-1}Y(z) + 0.76z^{-2}Y(z) - 0.63z^{-3}Y(z) = X(z) + 0.875z^{-1}X(z) \Rightarrow$$

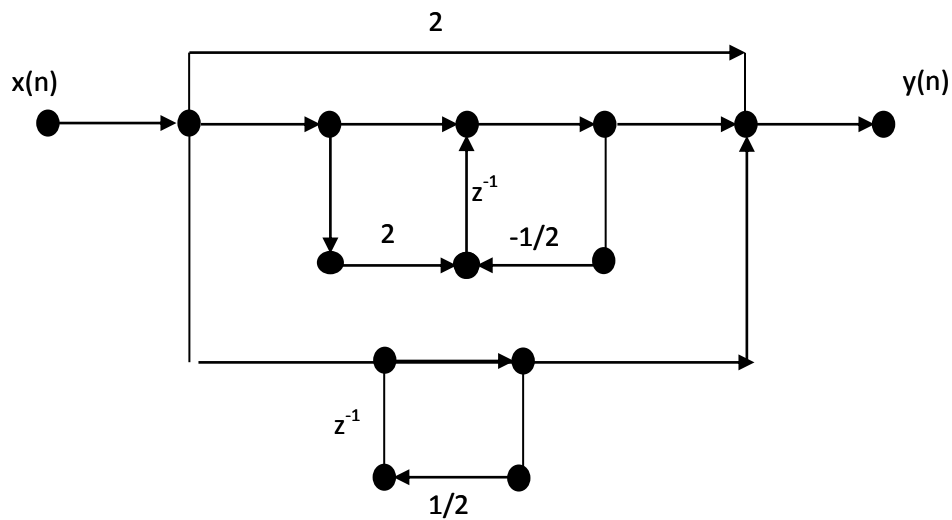
$$\Rightarrow Y(z) = X(z) + 0.875z^{-1}X(z) + 0.5z^{-1}Y(z) - 0.76z^{-2}Y(z) + 0.63z^{-3}Y(z) \Rightarrow$$

$$\Rightarrow y(n) = x(n) + 0.875x(n-1) + 0.5y(n-1) - 0.76y(n-2) + 0.63y(n-3)$$

$$y(n) = \sum_{k=0}^{q=1} b(k)x(n-k) - \sum_{k=1}^{p=3} a(k)y(n-k)$$

$$\begin{aligned} b(0) &= 1 & a(1) &= -0.5 \\ b(1) &= 0.875 & a(2) &= 0.76 \\ & & a(3) &= -0.63 \end{aligned}$$

(παράλληλη σύνδεση)



$$H(z) = 2 + \frac{1+2z^{-1}}{1+1/2z^{-1}} + \frac{1}{1-1/2z^{-1}}$$

